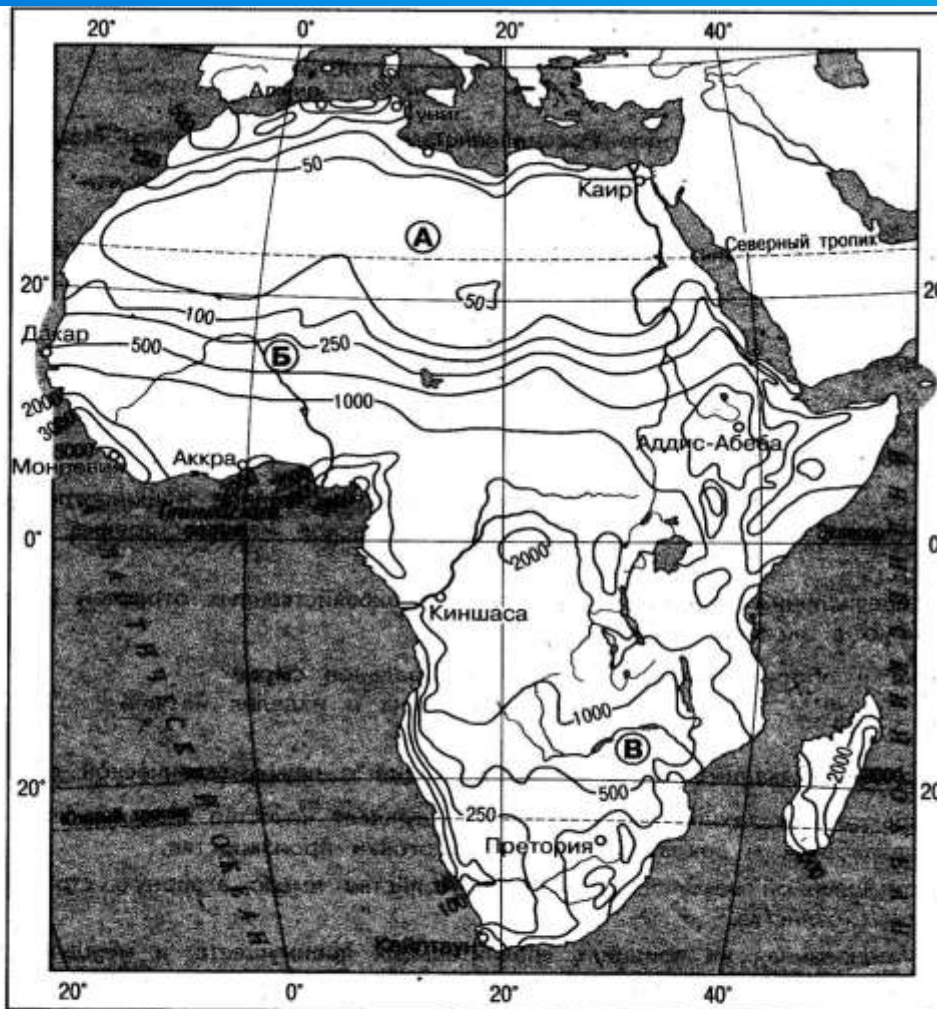


Погода и климат ЕГЭ

Тренажер № 10 подготовила
учитель географии МБОУ СОШ №6
Кравченко И.В.



В 1. С помощью карты сравните среднегодовое количество осадков в точках, обозначенных на карте буквами А, Б, В. Расположите эти точки в порядке уменьшения количества осадков, выпадающих в них.



Запишите в таблицу получившуюся последовательность букв.

Б) Б

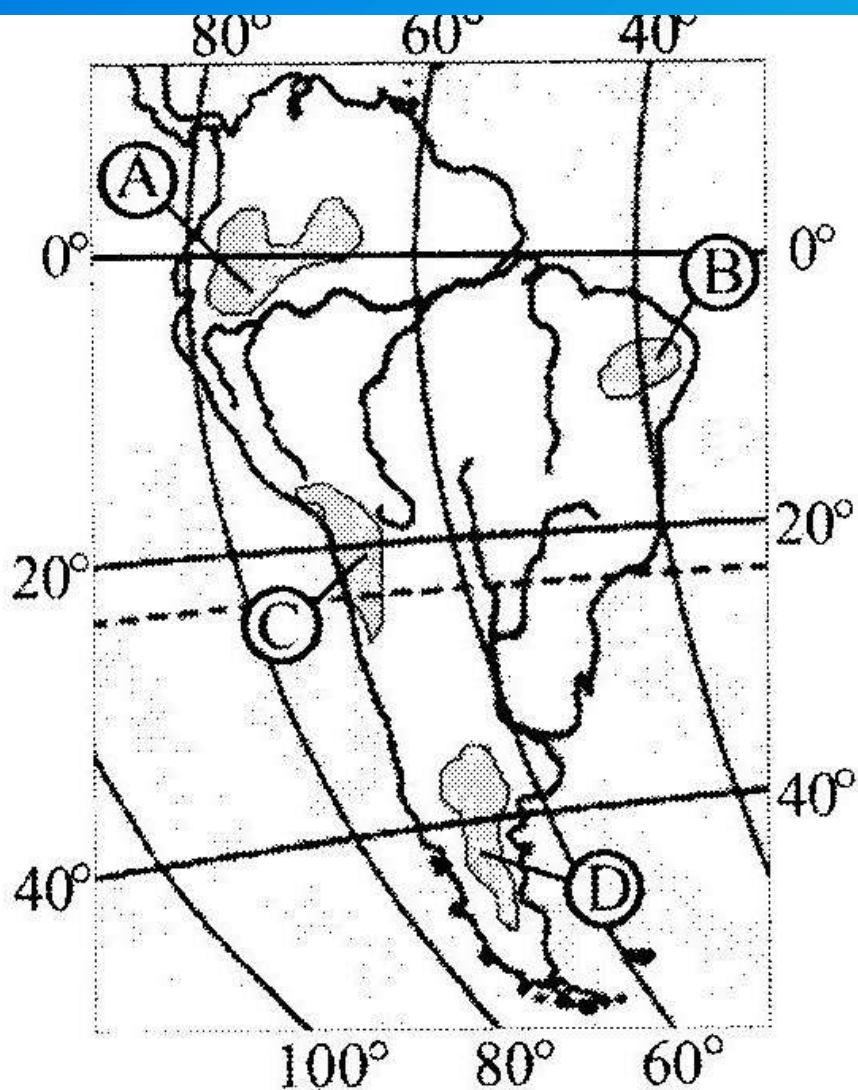
В) В

--	--	--



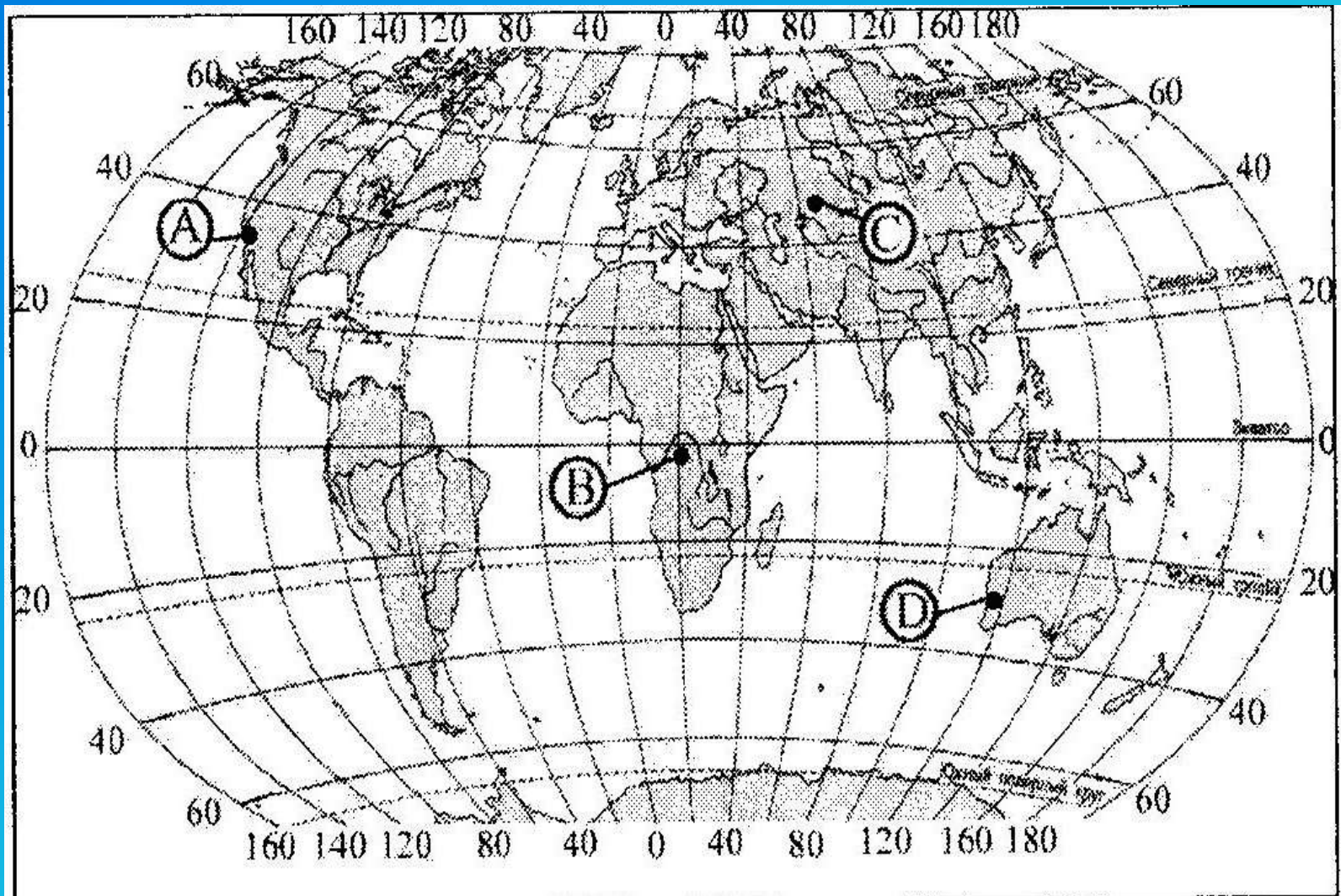


А 6. На какой из территорий, обозначенных буквами на карте Южной Америки, среднегодовое количество атмосферных осадков наибольшее?






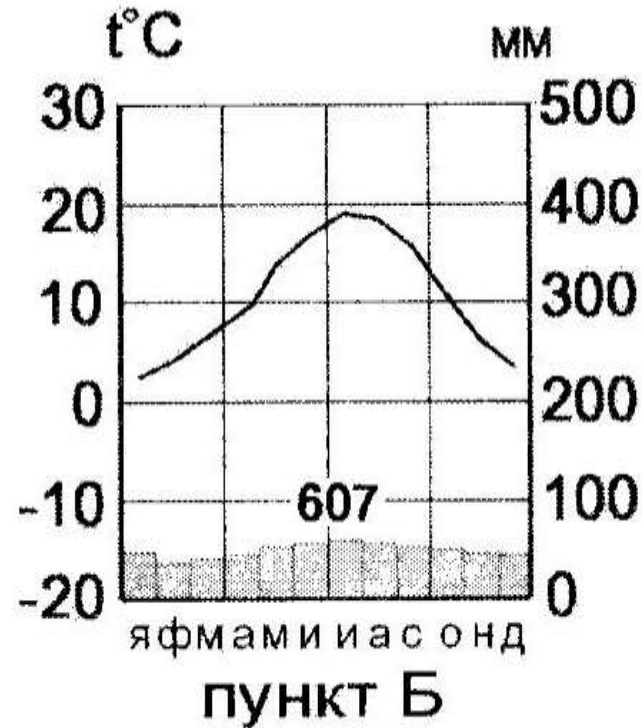
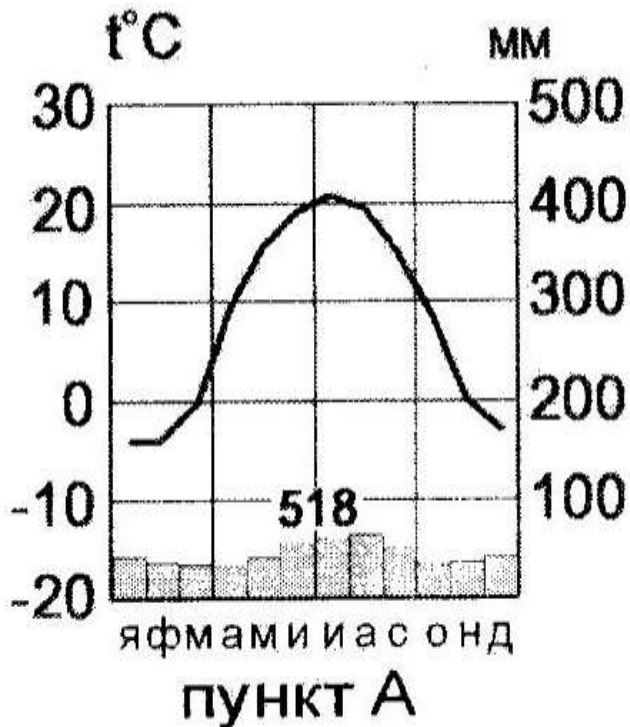
А6. В каком из пунктов, обозначенных буквами на карте мира, среднегодовое количество атмосферных осадков наибольшее?





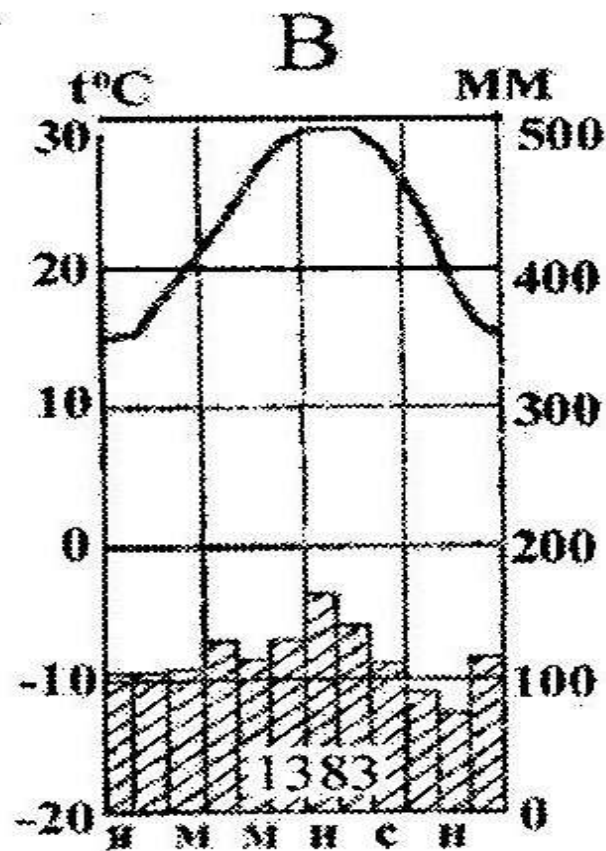
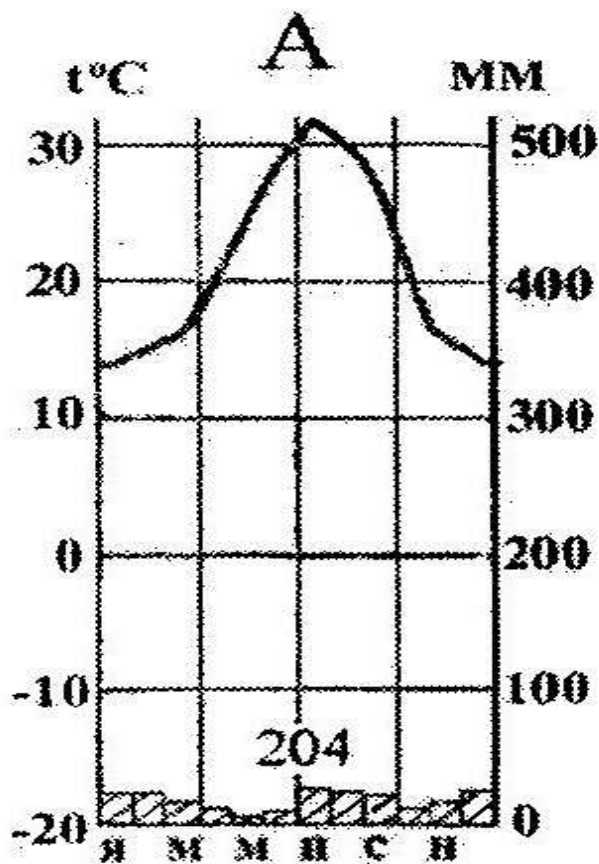
С 4. На рисунке показаны климатограммы, составленные для пунктов А и Б, расположенные в зарубежной Европе примерно на одинаковой широте и на одинаковой высоте над уровнем моря. Определите, какой из этих пунктов расположен западнее.

Для обоснования своего ответа приведите два довода.





С 4. ... расположенные на одном материке, в тропическом климатическом поясе, на одинаковой высоте над уровнем моря. Определите, в какой полушарии и на каком материке расположены эти пункты. Свой ответ обоснуйте.





Умеренный пояс Евразии

Морской тип климата

- Зима теплая
- Лето прохладное
- Много осадков до 1000 мм
- Выпадают равномерно в течении года
- Небольшие амплитуды колебания температур

Муссонный тип климата

- Зима холодная
- Лето прохладное
- Много осадков 700-1000 мм
- Выпадают летом из –за влияния муссонов с Тихого океана





Умеренный пояс Евразии

Умеренно - континентальный

- При удалении от океана растет разница между зимними и летними температурами
- Летом осадков выпадает больше чем зимой 400 – 500 мм

Резко - континентальный

- Зима холодная и сухая
- Лето теплое
- Осадков мало до 200мм





Субтропический пояс Евразии

Средиземноморский тип климата

- Лето сухое и нежаркое
- Зима теплая и влажная
- Осадков около 700мм

Субтропический материковый

- Холодная зима
- Жаркое лето
- Мало осадков

Муссонный тип климата:

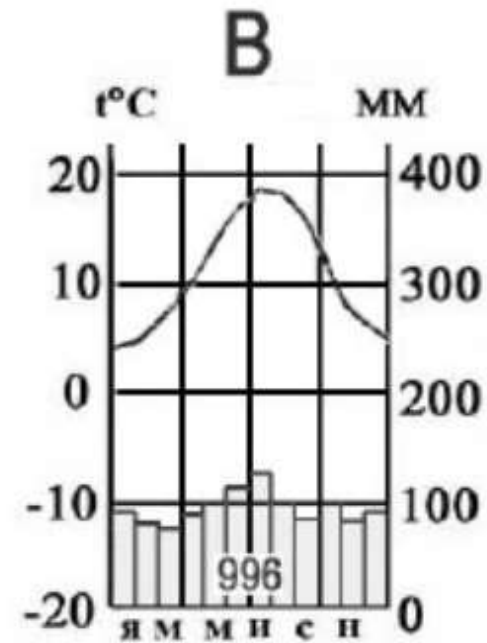
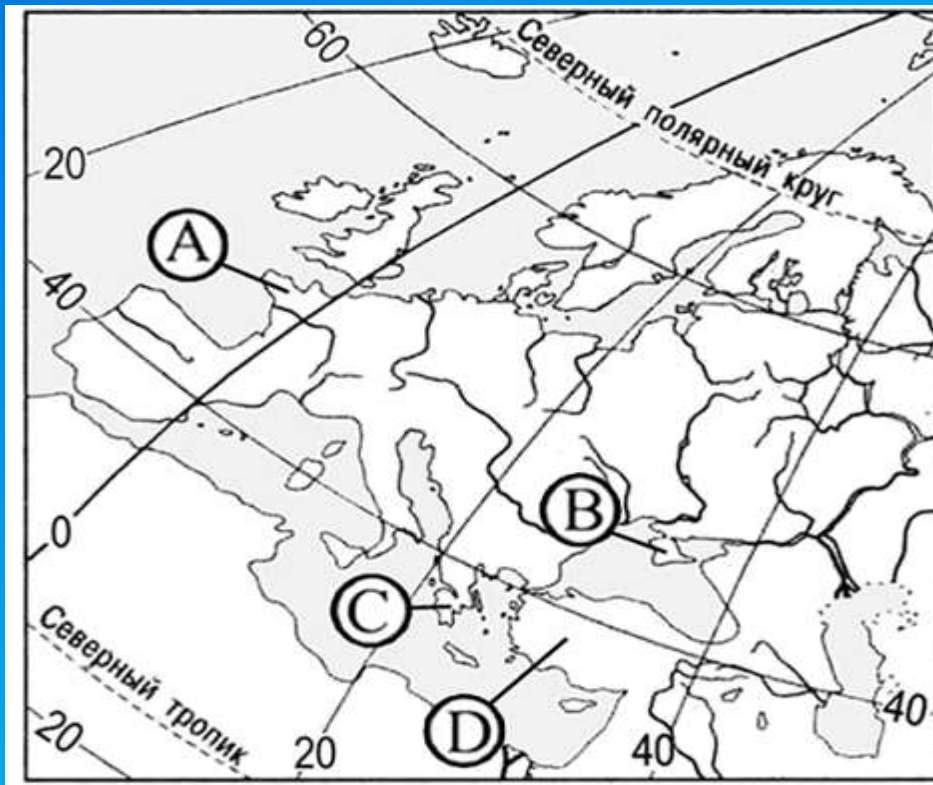
Теплая зима

Сезонное выпадение осадков до 1000 мм

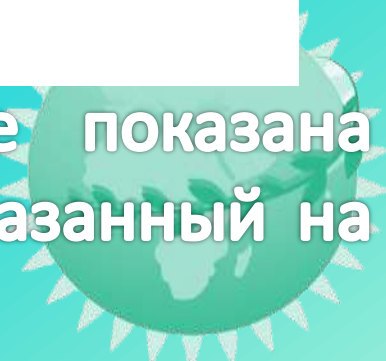




Климат материков



- Определите, какой цифрой на карте показана территория, которая имеет климат, показанный на климатограмме.





Климат материков (комментарий)

- Перед началом работы с картой необходимо определить средние месячные значения температуры января и июня, вспомнить, для какого климатического пояса они характерны.
- Затем по среднегодовому количеству осадков и их режиму надо определить тип климата и территории их распространения.
- На климатограмме видно, что средняя январская температура равна +5 градусов, а июльская +18. Пик температуры приходится на лето. Территория имеет ярко выраженную температурную сезонность. Следовательно, пункт расположен в северном полушарии. Подобное распределение характерно для всех точек.
- Годовое количество осадков составляет 996 мм. Выпадения осадков равномерно по всему году с небольшими пиками летом и зимой.
- Данная климатограмма соответствует точке А, так как она имеет приморское положение в условиях западного переноса воздушных масс: теплая зима, прохладное лето и равномерное увлажнение.

