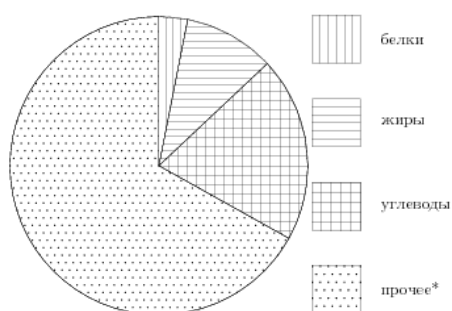


ГИА Задание 10

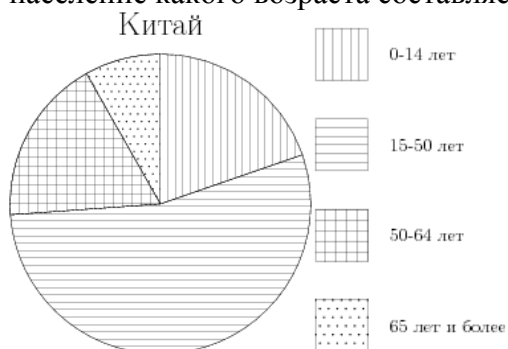
1. На диаграмме показано содержание питательных веществ в сливочном мороженом. Определите по диаграмме, содержание каких веществ преобладает.



*-к прочему относятся вода, витамины и минеральные вещества.

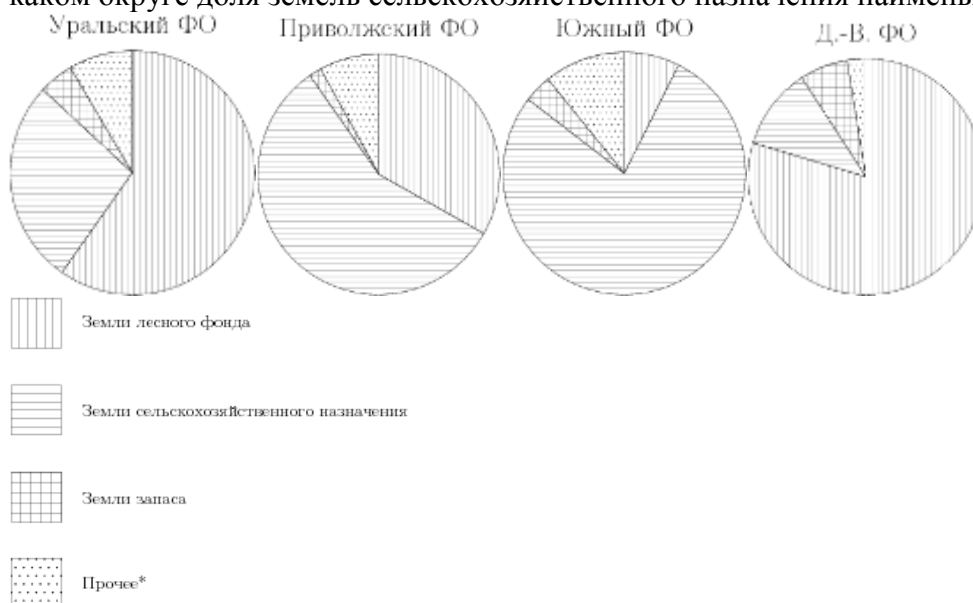
Варианты ответа 1. Жиры 2. Белки 3. Углеводы 4. Прочее

2. На диаграмме показан возрастной состав населения Китая. Определите по диаграмме, население какого возраста составляет более 50% от всего.



Варианты ответа 1. 0 – 14 лет 2. 15 – 50 лет 3. 51 – 64 лет 65 и более

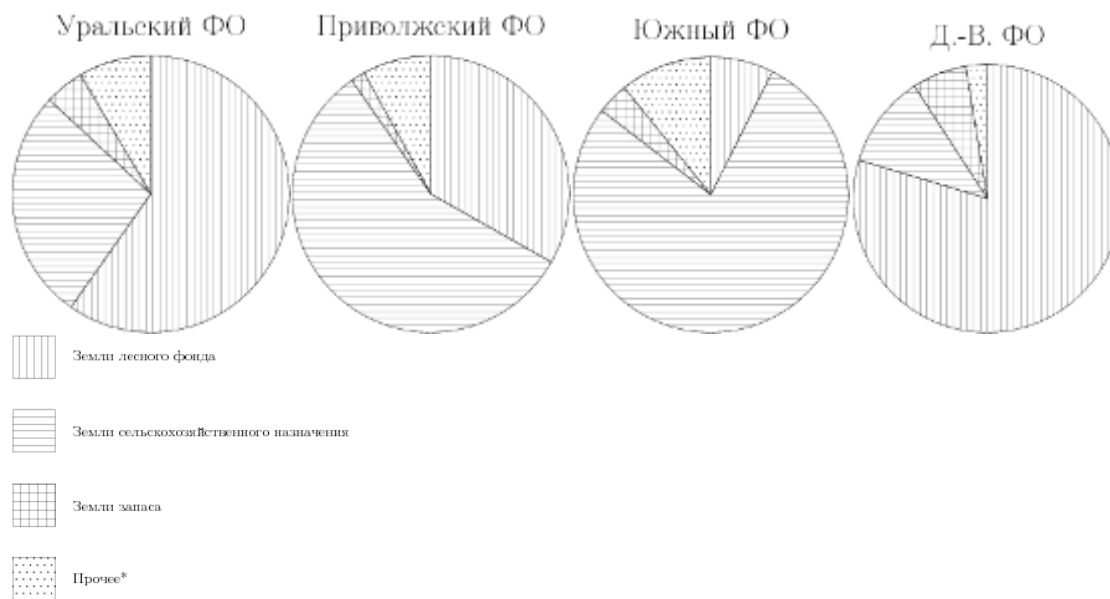
3. На диаграмме показано распределение земель Уральского, Приволжского, Южного и Дальневосточного Федеральных округов по категориям. Определите по диаграмме, в каком округе доля земель сельскохозяйственного назначения наименьшая.



*прочее — это земли поселений; земли промышленности и иного специального назначения; земли особо охраняемых территорий и объектов.

Варианты ответа 1. Уральский ФО 2. Приволжский ФО
3. Южный ФО 4. Дальневосточный ФО

4. На диаграмме показано распределения земель Уральского, Приволжского, Южного и Дальневосточного Федеральных округов по категориям. Определите по диаграмме, в каком округе доля земель лесного фонда превышает 70%.



*прочее — это земли поселений; земли промышленности и иного специального назначения; и земли особо охраняемых территорий и объектов.

Варианты ответа 1. Уральский ФО 2. Приволжский ФО
 3. Южный ФО 4. Дальневосточный ФО