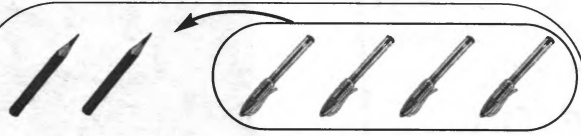



Задание 5




□ □ ○ ○ ○ ○

2 + 4 = 7



○ ○ ○ ○ ∅ ∅


6 - 3 = 3





○ ○ ○ ○ ○ ∅ ∅ ∅

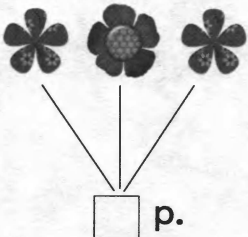
7 - 3 = 4

Задание 6

 1 р.


 2 р.

 3 р.



□ р.

Задание 7



Задание 8

7 - 1	3 + 2	8 - 2	4 + 1
6 - 1	6 - 2	2 + 3	7 - 2

Задание 9



Сколько  - ? □