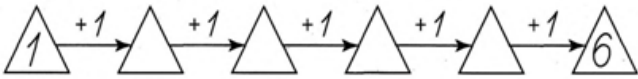


КАРТОЧКА № 1

Реши пример:

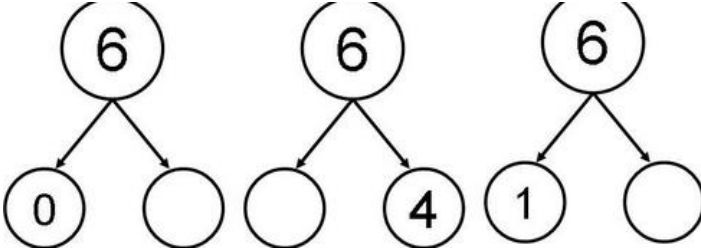


Напиши соседей числа:

5	3	6
---	---	---

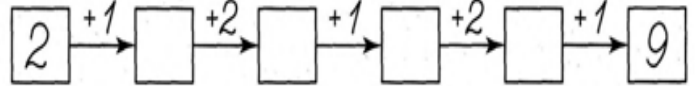
2	8	4
---	---	---

Впиши недостающие числа:



КАРТОЧКА № 2

Реши пример:

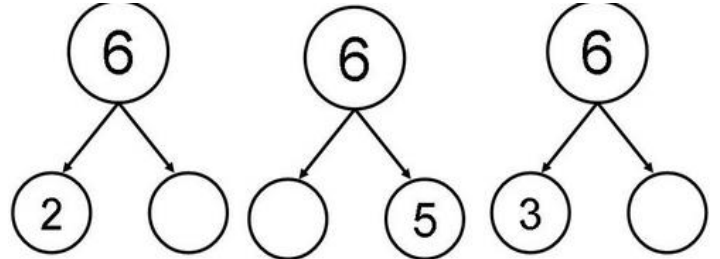


Напиши соседей числа:

7	9	1
---	---	---

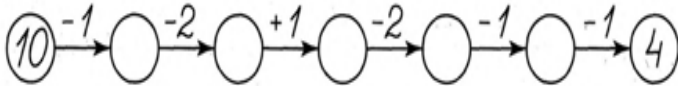
2	8	4
---	---	---

Впиши недостающие числа:



КАРТОЧКА № 3

Реши пример:

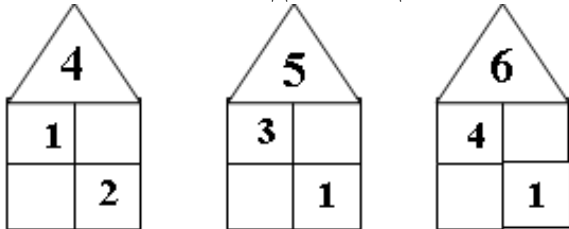


Напиши соседей числа:

1	3	4	5	7	9
---	---	---	---	---	---

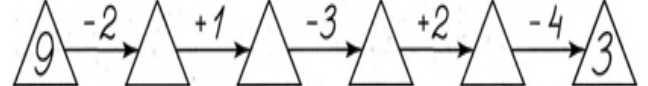
3	5	8	9	9	10
---	---	---	---	---	----

Впиши недостающие числа:



КАРТОЧКА № 4

Реши пример:

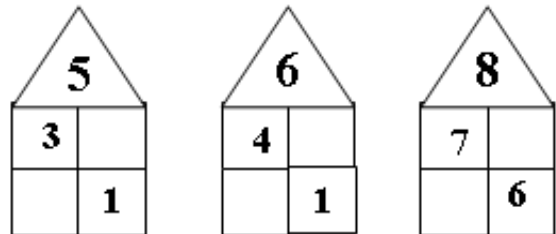


Напиши соседей числа:

6	7	5	3
---	---	---	---

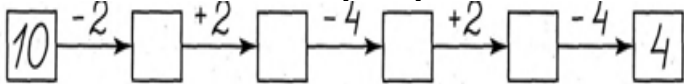
8	2	3	0	2
---	---	---	---	---

Впиши недостающие числа:



КАРТОЧКА № 5

Реши пример:

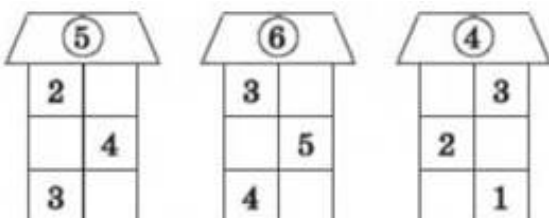


Напиши соседей числа:

2	4	6	2	5
---	---	---	---	---


6	9	8	9
---	---	---	---

Впиши недостающие числа:



КАРТОЧКА № 6

Реши пример:

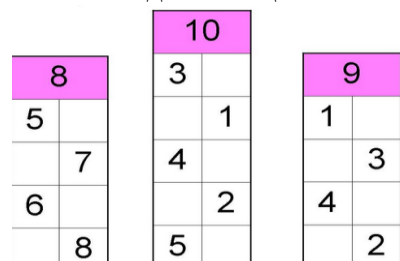


Напиши соседей числа:

1	3	5	7	7	9
---	---	---	---	---	---

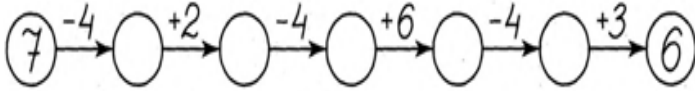
2	4	6	8	4	6
---	---	---	---	---	---

Впиши недостающие числа:



КАРТОЧКА № 7

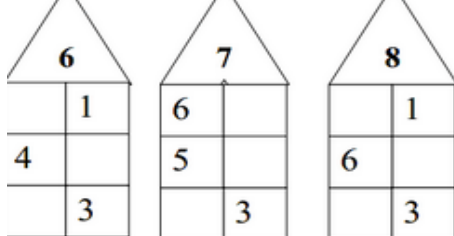
Реши пример:



Напиши соседей числа:

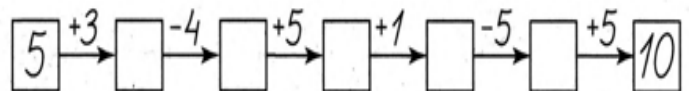
1		3	8		10	4		6
	2	3	8			4		

Впиши недостающие числа:



КАРТОЧКА № 8

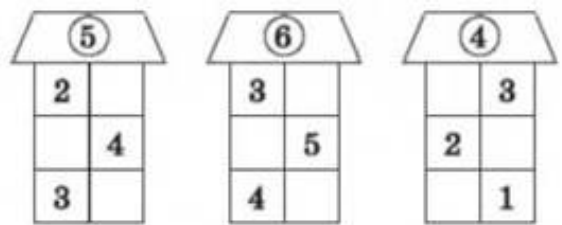
Реши пример:



Напиши соседей числа:

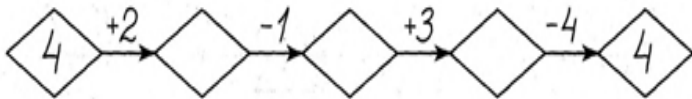
	4		1				2	
	9			7		6		

Впиши недостающие числа:



КАРТОЧКА № 9

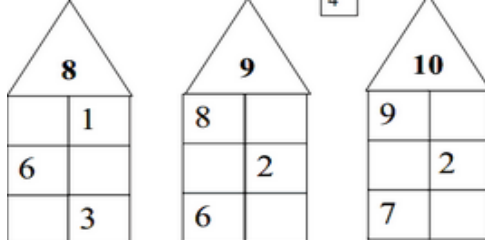
Реши пример:



Напиши соседей числа:

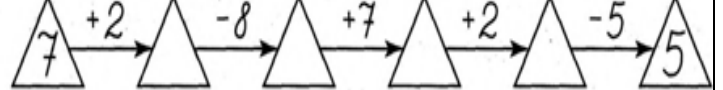
10		8	5		9	7		6
4		6	10		6	5		3

Впиши недостающие числа:



КАРТОЧКА № 10

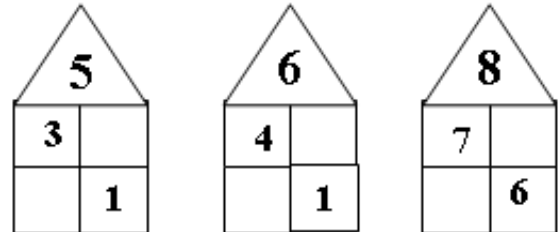
Реши пример:



Напиши соседей числа:

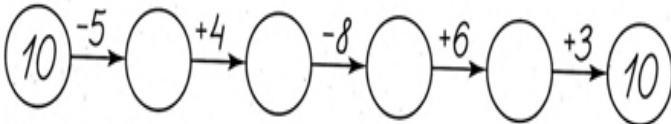
4		6	10		6	5		3
2		7	10		10	0		6

Впиши недостающие числа:



КАРТОЧКА № 11

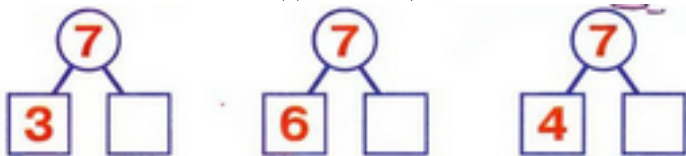
Реши пример:



Напиши соседей числа:

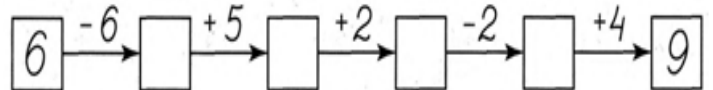
2		4		6		2		5
	6			9			8	9

Впиши недостающие числа:



КАРТОЧКА № 12

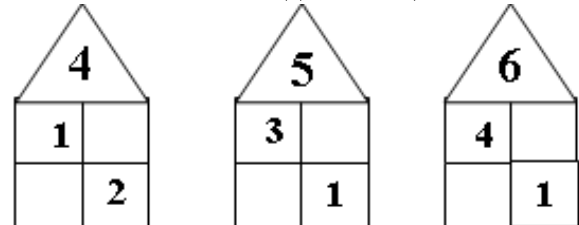
Реши пример:



Напиши соседей числа:

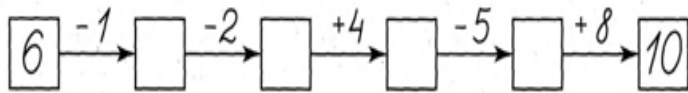
	6	7	5				3	
8			2	3		0		2

Впиши недостающие числа:



КАРТОЧКА № 13


Реши пример:



Напиши соседей числа:

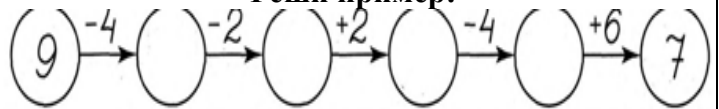
10		8	5		9	7		6
4		6	10		6	5		3

Впиши недостающие числа:



КАРТОЧКА № 14


Реши пример:



Напиши соседей числа:

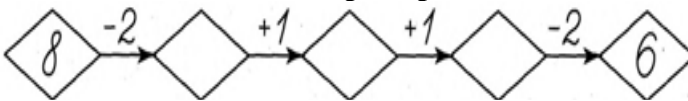
	4		1			2
	9			7		6

Впиши недостающие числа:



КАРТОЧКА № 15

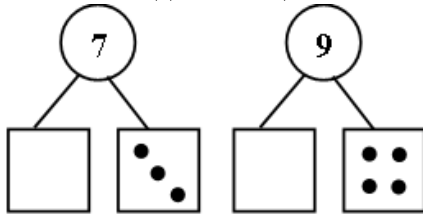
Реши пример:



Напиши соседей числа:

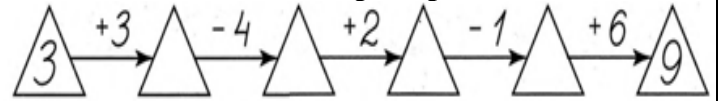
4		6	10		6	5		3
2		7	10		10	0		6

Впиши недостающие числа:



КАРТОЧКА № 16

Реши пример:



Напиши соседей числа:

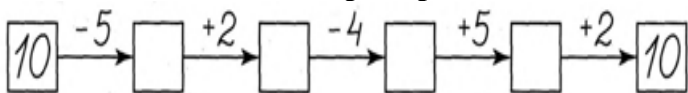
	4		1			2
	9			7		6

Впиши недостающие числа:



КАРТОЧКА № 17

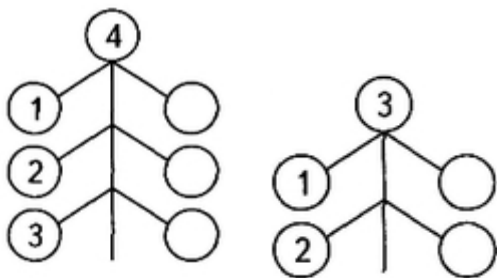
Реши пример:



Напиши соседей числа:

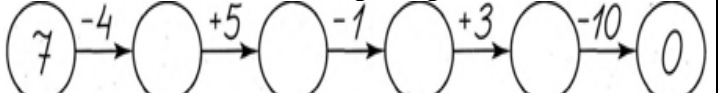
	4		1			2
	9			7		6

Впиши недостающие числа:



КАРТОЧКА № 18

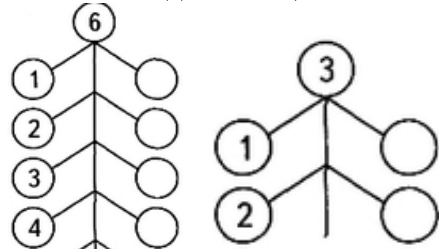
Реши пример:



Напиши соседей числа:

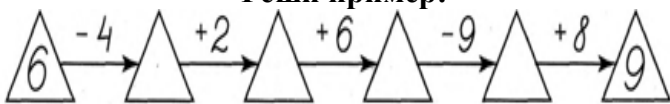
2	4	6	2		5
6		9		8	9

Впиши недостающие числа:



КАРТОЧКА № 19

Реши пример:

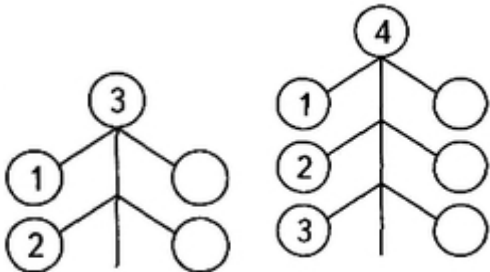


Напиши соседей числа:

1		3	8		10	4		6
---	--	---	---	--	----	---	--	---

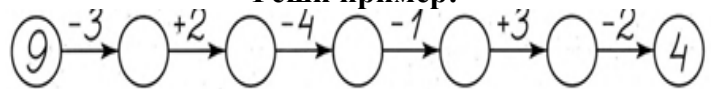
	2	3	8			4		
--	---	---	---	--	--	---	--	--

Впиши недостающие числа:



КАРТОЧКА № 20

Реши пример:




Напиши соседей числа:

	5			3			6	
--	---	--	--	---	--	--	---	--

	2			8			4	
--	---	--	--	---	--	--	---	--

Впиши недостающие числа:



КАРТОЧКА № 21

Реши пример:

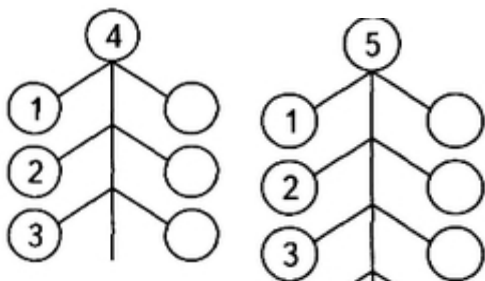


Напиши соседей числа:

	6	7	5				3	
--	---	---	---	--	--	--	---	--

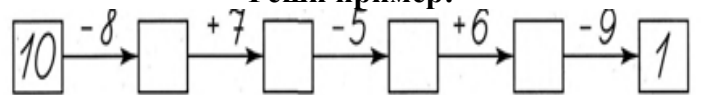
8			2	3		0		2
---	--	--	---	---	--	---	--	---

Впиши недостающие числа:



КАРТОЧКА № 22

Реши пример:



Напиши соседей числа:

	5			3			6	
--	---	--	--	---	--	--	---	--

	2			8			4	
--	---	--	--	---	--	--	---	--

Впиши недостающие числа:

