

**Тренировочная работа
по подготовке к ОГЭ
по ИНФОРМАТИКЕ**

23 марта 2015 года 9 класс
Вариант ИН90603

Выполнена: ФИО _____ класс _____

Инструкция по выполнению работы

Работа состоит из двух частей, включающих в себя 20 заданий. Часть 1 содержит 18 заданий с кратким ответом, часть 2 содержит 2 задания, которые необходимо выполнить на компьютере.

На выполнение работы по информатике отводится 2 часа 30 минут (150 минут).

К выполнению заданий части 2 можно перейти, только сдав выполненные задания части 1. Вы можете самостоятельно определять время, которое отводите на выполнение заданий части 1, но рекомендуемое время – 1 час 15 минут (75 минут), и на выполнение заданий части 2 также 1 час 15 минут (75 минут).

При выполнении заданий части 1 **нельзя** пользоваться компьютером, калькулятором, справочной литературой.

Ответы к заданиям 1–6 записываются в виде одной цифры, которая соответствует номеру правильного ответа. Эту цифру запишите в поле ответа в тексте работы.

Ответы к заданиям 7–18 записываются в виде числа, последовательности цифр или букв в поле ответа в тексте работы.

В случае записи неверного ответа на задания части 1 зачеркните его и запишите рядом новый.

Часть 2 содержит 2 задания (19, 20). Результатом выполнения каждого из этих заданий является отдельный файл. Формат файла, его имя и каталог для сохранения Вам сообщат организаторы работы.

При выполнении заданий можно пользоваться черновиком. Записи в черновике не учитываются при оценивании работы.

Баллы, полученные Вами за выполненные задания, суммируются. Постарайтесь выполнить как можно больше заданий и набрать наибольшее количество баллов.

Желаем успеха!

Часть 1

При выполнении заданий 1–6 в поле ответа запишите одну цифру, которая соответствует номеру правильного ответа.

1 Статья, набранная на компьютере, содержит 8 страниц, на каждой странице 40 строк, в каждой строке 64 символа. В одном из представлений Unicode каждый символ кодируется 16 битами. Определите информационный объём статьи в этом варианте представления Unicode.

- 1) 40 Кбайт 2) 640 байт 3) 320 байт 4) 35 Кбайт

Ответ:

2 Для какого из приведённых значений числа X **ложно** высказывание: **НЕ** ($X < 7$) **ИЛИ** ($X < 6$)?

- 1) 4 2) 5 3) 6 4) 7

Ответ:

3 Между населёнными пунктами А, В, С, D, Е построены дороги, протяжённость которых (в километрах) приведена в таблице.

	А	В	С	D	Е
А		1	5		2
В	1			6	
С	5			1	7
D		6	1		
Е	2		7		

Определите длину кратчайшего пути между пунктами А и D (при условии, что передвигаться можно только по построенным дорогам).

- 1) 5 2) 6 3) 7 4) 8

Ответ:

4 Пользователь работал с каталогом **С:\Физика\Задачи\Кинематика**. Сначала он поднялся на один уровень вверх, затем ещё раз поднялся на один уровень вверх и после этого спустился в каталог **Экзамен**. Укажите полный путь того каталога, в котором оказался пользователь.

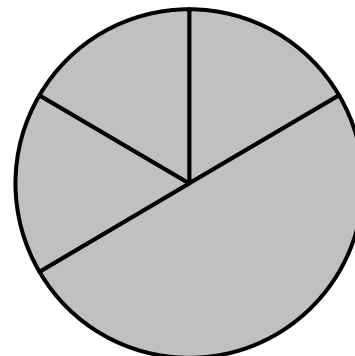
- 1) С:\Физика\Задачи\Экзамен 3) С:\Экзамен
2) С:\Физика 4) С:\Физика\Экзамен

Ответ:

5 Дан фрагмент электронной таблицы.

	A	B	C	D
1	3	4	2	5
2		=A1*3	=B1 – 1	=D1 – 2

Какая из формул, приведённых ниже, может быть записана в ячейке A2, чтобы построенная после выполнения вычислений диаграмма по значениям диапазона ячеек A2:D2 соответствовала рисунку?



- 1) =B1/C1 2) =D1*2 3) =D1 – C1 4) =B1 – A1

Ответ:

6 Исполнитель Чертёжник перемещается на координатной плоскости, оставляя след в виде линии. Чертёжник может выполнять команду **Сместиться на (a, b)** (где a, b – целые числа), перемещающую Чертёжника из точки с координатами (x, y) в точку с координатами $(x + a, y + b)$. Если числа a, b положительные, значение соответствующей координаты увеличивается, если отрицательные – уменьшается.

Например, если Чертёжник находится в точке с координатами $(1, 1)$, то команда **Сместиться на (-2, 4)** переместит Чертёжника в точку $(-1, 5)$.

Запись

Повтори k раз

Команда1 Команда2

конец

означает, что последовательность команд **Команда1 Команда2** повторится k раз.

Чертёжнику был дан для исполнения следующий алгоритм:

Повтори 3 раз

Сместиться на (1, 3) Сместиться на (-2, -5)

конец

Сместиться на (4, 8)

Какую команду надо выполнить Чертёжнику, чтобы вернуться в исходную точку, из которой он начал движение?

- 1) Сместиться на $(-1, 2)$ 3) Сместиться на $(1, -2)$
 2) Сместиться на $(-1, -2)$ 4) Сместиться на $(-2, 1)$

Ответ:

Ответом к заданиям 7–18 является число или последовательность символов (букв или цифр), которые следует записать в поле ответа в тексте работы.

7

Вася и Петя играли в шпионов и кодировали сообщение собственным шифром. Фрагмент кодовой таблицы приведён ниже:

Ж	З	И	Й	К	Л
+ #	+ ^ #	#	^	^ #	# +

Определите, из скольких букв состоит сообщение, если известно, что буквы в нём не повторяются:

+ + ^ # # ^ # ^

Ответ: _____.

8

В программе «:=» обозначает оператор присваивания, знаки «+», «-», «*» и «/» – соответственно операции сложения, вычитания, умножения и деления. Правила выполнения операций и порядок действий соответствует правилам арифметики.

Определите значение переменной b после выполнения алгоритма:

```
a := 1
b := 4
a := 2*a+3*b
b := a/2*b
```

В ответе укажите одно целое число – значение переменной b.

Ответ: _____.

9

Запишите значение переменной s, полученное в результате работы следующей программы. Текст программы приведён на трёх языках программирования.

Алгоритмический язык	Бейсик	Паскаль
<pre>алг нач цел s, k s := 0 нц для k от 4 до 9 s := s + 12 кц вывод s кон</pre>	<pre>DIM k, s AS INTEGER s = 0 FOR k = 4 TO 9 s = s + 12 NEXT k PRINT s</pre>	<pre>Var s,k: integer; Begin s := 0; for k := 4 to 9 do s := s + 12; writeln(s); End.</pre>

Ответ: _____.

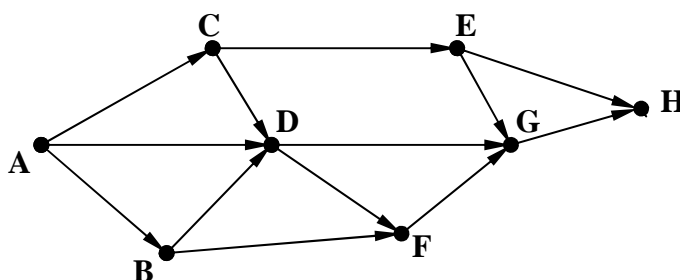
10

В таблице Dat хранятся данные о количестве сделанных учениками заданий (Dat[1] заданий сделал первый ученик, Dat[2] – второй и т. д.). Определите, какое число будет напечатано в результате работы следующей программы. Текст программы приведён на трёх языках программирования.

Алгоритмический язык	
<pre> алг нач <u>целтаб</u> Dat[1:10] <u>цел</u> k, m Dat[1] := 7; Dat[2] := 9 Dat[3] := 10; Dat[4] := 5 Dat[5] := 6; Dat[6] := 7 Dat[7] := 9; Dat[8] := 8 Dat[9] := 6; Dat[10] := 7 m := 0 <u>нц</u> <u>для</u> k <u>от</u> 1 <u>до</u> 10 <u>если</u> Dat[k] < 8 <u>то</u> m := m + 1 <u>все</u> <u>кц</u> <u>вывод</u> m <u>кон</u> </pre>	
Бейсик	Паскаль
<pre> DIM Dat(10) AS INTEGER DIM k,m AS INTEGER Dat(1) = 7: Dat(2) = 9 Dat(3) = 10: Dat(4) = 5 Dat(5) = 6: Dat(6) = 7 Dat(7) = 9: Dat(8) = 8 Dat(9) = 6: Dat(10) = 7 m = 0 FOR k = 1 TO 10 IF Dat(k) < 8 THEN m = m + 1 END IF NEXT k PRINT m </pre>	<pre> Var k, m: integer; Dat: array[1..10] of integer; Begin Dat[1] := 7; Dat[2] := 9; Dat[3] := 10; Dat[4] := 5; Dat[5] := 6; Dat[6] := 7; Dat[7] := 9; Dat[8] := 8; Dat[9] := 6; Dat[10] := 7; m := 0; for k := 1 to 10 do if Dat[k] < 8 then begin m := m + 1 end; writeln(m) End. </pre>

Ответ: _____.

- 11** На рисунке изображена схема соединений, связывающих пункты А, В, С, D, Е, F, G, Н. По каждому соединению можно двигаться только в одном направлении, указанном стрелкой. Сколько существует различных путей из пункта А в пункт Н?



Ответ: _____.

- 12** Ниже в табличной форме представлен фрагмент базы данных «Отправление поездов дальнего следования».

Пункт назначения	Категория поезда	Время в пути	Вокзал
Балаково	скорый	20.22	Павелецкий
Бийск	скорый	61.11	Казанский
Бишкек	скорый	121.20	Казанский
Благовещенск	пассажирский	142.06	Ярославский
Брест	скорый	14.19	Белорусский
Валуйки	фирменный	14.57	Курский
Варна	скорый	47.54	Киевский
Волгоград	скорый	18.50	Павелецкий
Волгоград	скорый	24.50	Курский
Воркута	скорый	40.31	Ярославский
Воркута	пассажирский	48.19	Ярославский
Гродно	скорый	16.34	Белорусский

Сколько записей в данном фрагменте удовлетворяют условию **(Категория поезда = «скорый») И (Время в пути > 20.00)?**

В ответе укажите одно число – искомое количество записей.

Ответ: _____.

- 13** Переведите двоичное число 1110110 в десятичную систему счисления.

Ответ: _____.

14 У исполнителя Квадратор две команды, которым присвоены номера:

1. возведи в квадрат

2. вычти 1

Первая из них возводит число на экране во вторую степень, вторая – вычитает из числа 1.

Составьте алгоритм получения **из числа 2 числа 13**, содержащий не более 5 команд. В ответе запишите только номера команд.

(Например, 22211 – это алгоритм:

вычти 1

вычти 1

вычти 1

возведи в квадрат

возведи в квадрат,

который преобразует число 1 в 16).

Если таких алгоритмов более одного, то запишите любой из них.

Ответ: _____.

15 Файл размером 8 Кбайт передаётся через некоторое соединение со скоростью 4096 бит в секунду. Определите размер файла (в байтах), который можно передать за то же время через другое соединение со скоростью 256 бит в секунду.

В ответе укажите одно число — размер файла в байтах. Единицы измерения писать не нужно.

Ответ: _____.

16 Цепочка из четырёх бусин, помеченных латинскими буквами, формируется по следующему правилу:

– на третьем месте цепочки стоит одна из бусин H, E;

– на втором месте – одна из бусин D, E, C, которой нет на третьем месте;

– в начале стоит одна из бусин D, H, B, которой нет на втором месте;

– в конце – одна из бусин D, E, C, не стоящая на первом месте.

Определите, сколько из перечисленных цепочек созданы по этому правилу?

DEHD HENC DCEE DDHE DCHE HDHD BHED EDHC DENE

В ответе запишите только количество цепочек.

Ответ: _____.

17 Доступ к файлу **table.xls**, находящемуся на сервере **home.ru**, осуществляется по протоколу **ftp**. В таблице фрагменты адреса файла закодированы буквами от А до Ж. Запишите последовательность этих букв, кодирующую адрес указанного файла в сети Интернет.

- А) home
- Б) ://
- В) .ru
- Г) ftp
- Д) table
- Е) .xls
- Ж) /

Ответ:

--	--	--	--	--	--	--	--

18 В таблице приведены запросы к поисковому серверу. Для каждого запроса указан его код – соответствующая буква от А до Г. Расположите коды запросов в порядке **возрастания** количества страниц, которые нашёл поисковый сервер по каждому запросу. По всем запросам было найдено разное количество страниц.

Для обозначения логической операции «ИЛИ» в запросе используется символ «|», а для логической операции «И» – «&».

Код	Запрос
А	Хоккей & Волейбол
Б	Футбол & Хоккей & Волейбол
В	Футбол Хоккей Волейбол
Г	Футбол (Хоккей & Волейбол)

Ответ: _____.

Часть 2

Задания этой части (19, 20) выполняются на компьютере. Результатом выполнения задания является отдельный файл (для одного задания – один файл). Формат файла, его имя и каталог для сохранения Вам сообщат организаторы работы.

19

В электронную таблицу занесли данные наблюдения за погодой в течение одного года. Ниже приведены первые пять строк таблицы.

	А	В	С	Д	Е	Ф
1	Дата	Температура	Осадки	Давление	Ветер	Скорость ветра
2	1 января	0,7	15,2	748	ЮВ	4,2
3	2 января	0,4	4,6	751	В	4,7
4	3 января	-1,9	1,4	747	С	2,4
5	4 января	-7,7	0,2	752	З	4,7

В столбце А записана дата наблюдения, в столбце В – среднесуточная температура воздуха для указанной даты, в столбце С – количество выпавших осадков (в миллиметрах) для указанной даты, в столбце Д – среднесуточное атмосферное давление (в миллиметрах ртутного столба). В столбце Е записано направление ветра для указанной даты – одно из восьми возможных значений «СЗ», «С», «СВ», «В», «ЮВ», «Ю», «ЮЗ», «З». В столбце Ф записана среднесуточная скорость ветра (в метрах в секунду). Всего в электронную таблицу были занесены данные по всем 365 дням года в хронологическом порядке.

Выполните задание.

Откройте файл с данной электронной таблицей (расположение файла Вам сообщат организаторы работы). На основании данных, содержащихся в этой таблице, ответьте на два вопроса:

1. Каким было среднее значение атмосферного давления в весенние месяцы (март, апрель, май)? Ответ на этот вопрос запишите в ячейку Н2 таблицы.
2. Какое среднее количество осадков выпадало за сутки в те дни года, когда дул северо-западный (СЗ) ветер? Ответ на этот вопрос запишите в ячейку Н3 таблицы.

Ответы должны быть вычислены с точностью не менее двух знаков после запятой. Полученную таблицу необходимо сохранить под именем, указанным организаторами работы.

Выберите ОДНО из предложенных ниже заданий: 20.1 или 20.2.

20.1

Исполнитель Робот умеет перемещаться по лабиринту, начерченному на плоскости, разбитой на клетки. Между соседними (по сторонам) клетками может стоять стена, через которую Робот пройти не может.

У Робота есть девять команд. Четыре команды – это команды-приказы:

вверх вниз влево вправо

При выполнении любой из этих команд Робот перемещается на одну клетку соответственно: вверх ↑, вниз ↓, влево ←, вправо →. Если Робот получит команду передвижения сквозь стену, то он разрушится.

Также у Робота есть команда **закрасить**, при которой закрашивается клетка, в которой Робот находится в настоящий момент.

Ещё четыре команды – это команды проверки условий. Эти команды проверяют, свободен ли путь для Робота в каждом из четырёх возможных направлений:

сверху свободно снизу свободно слева свободно справа свободно

Эти команды можно использовать вместе с условием «если», имеющим следующий вид:

если условие то

последовательность команд

все

Здесь *условие* – одна из команд проверки условия.

Последовательность команд – это одна или несколько любых команд-приказов.

Например, для передвижения на одну клетку вправо, если справа нет стенки и закрашивания клетки, можно использовать такой алгоритм:

если справа свободно то

вправо

закрасить

все

В одном условии можно использовать несколько команд проверки условий, применяя логические связки **и**, **или**, **не**, например:

если (справа свободно) и (не снизу свободно) то

вправо

все

Для повторения последовательности команд можно использовать цикл «пока», имеющий следующий вид:

нц пока условие

последовательность команд


кц

Например, для движения вправо, пока это возможно, можно использовать следующий алгоритм:

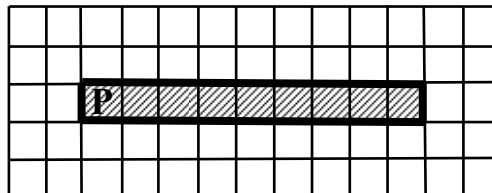
**нц пока справа свободно
вправо
кц**

Выполните задание

Робот находится в левой клетке узкого горизонтального коридора. Ширина коридора – одна клетка, **длина коридора может быть произвольной**. Возможный вариант начального расположения Робота приведён на рисунке (Робот обозначен буквой «Р»):



Напишите для Робота алгоритм, закрашивающий все клетки внутри коридора и возвращающий Робота в исходную позицию. Например, для приведённого выше рисунка Робот должен закрасить следующие клетки (см. рисунок):



Алгоритм должен решать задачу для произвольного конечного размера коридора. При исполнении алгоритма Робот не должен разрушиться.

Алгоритм может быть выполнен в среде формального исполнителя или записан в текстовом редакторе.

Название файла и каталог для сохранения Вам сообщат организаторы работы.

20.2 Напишите программу, которая в последовательности натуральных чисел определяет количество чисел, кратных 6 и оканчивающихся на 4. Программа получает на вход количество чисел в последовательности, а затем сами числа.

Количество чисел не превышает 1000. Введённые числа по модулю не превышают 30 000.

Программа должна вывести одно число: количество чисел, кратных 6 и оканчивающихся на 4.

Пример работы программы:

Входные данные	Выходные данные
3	2
24	
25	
54	

**Тренировочная работа
по подготовке к ОГЭ
по ИНФОРМАТИКЕ**

23 марта 2015 года 9 класс
Вариант ИН90604

Выполнена: ФИО _____ класс _____

Инструкция по выполнению работы

Работа состоит из двух частей, включающих в себя 20 заданий. Часть 1 содержит 18 заданий с кратким ответом, часть 2 содержит 2 задания, которые необходимо выполнить на компьютере.

На выполнение работы по информатике отводится 2 часа 30 минут (150 минут).

К выполнению заданий части 2 можно перейти, только сдав выполненные задания части 1. Вы можете самостоятельно определять время, которое отводите на выполнение заданий части 1, но рекомендуемое время – 1 час 15 минут (75 минут), и на выполнение заданий части 2 также 1 час 15 минут (75 минут).

При выполнении заданий части 1 **нельзя** пользоваться компьютером, калькулятором, справочной литературой.

Ответы к заданиям 1–6 записываются в виде одной цифры, которая соответствует номеру правильного ответа. Эту цифру запишите в поле ответа в тексте работы.

Ответы к заданиям 7–18 записываются в виде числа, последовательности цифр или букв в поле ответа в тексте работы.

В случае записи неверного ответа на задания части 1 зачеркните его и запишите рядом новый.

Часть 2 содержит 2 задания (19, 20). Результатом выполнения каждого из этих заданий является отдельный файл. Формат файла, его имя и каталог для сохранения Вам сообщат организаторы работы.

При выполнении заданий можно пользоваться черновиком. Записи в черновике не учитываются при оценивании работы.

Баллы, полученные Вами за выполненные задания, суммируются. Постарайтесь выполнить как можно больше заданий и набрать наибольшее количество баллов.

Желаем успеха!

Часть 1

При выполнении заданий 1–6 в поле ответа запишите одну цифру, которая соответствует номеру правильного ответа.

1 Статья, набранная на компьютере, содержит 16 страниц, на каждой странице 40 строк, в каждой строке 40 символов. Определите информационный объём статьи в одной из кодировок Unicode, в которой каждый символ кодируется 16 битами.

- 1) 50 Кбайт 2) 40 Кбайт 3) 400 байт 4) 800 байт

Ответ:

2 Для какого из указанных значений числа X истинно высказывание: $(X < 3)$ **И НЕ** $(X < 2)$?

- 1) 1 2) 2 3) 3 4) 4

Ответ:

3 Между населёнными пунктами А, В, С, D, Е построены дороги, протяжённость которых (в километрах) приведена в таблице.

	A	B	C	D	E
A		2	1		5
B	2		4		
C	1	4		1	4
D			1		2
E	5		4	2	

Определите длину кратчайшего пути между пунктами В и Е. Передвигаться можно только по дорогам, протяжённость которых указана в таблице.

- 1) 5 2) 6 3) 7 4) 8

Ответ:

4 Пользователь работал с каталогом **С:\Документы\Договоры\Продажа**. Сначала он поднялся на один уровень вверх, затем спустился в каталог **Срочные**, затем спустился в каталог **Покупка**. Укажите полный путь каталога, в котором оказался пользователь.

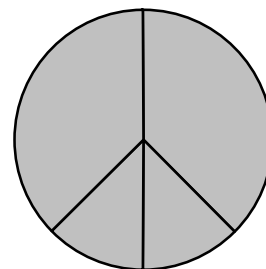
- 1) С:\Документы\Срочные \Покупка\Продажа
 2) С:\Документы\Договоры\Срочные \Покупка
 3) С: \Срочные \Покупка
 4) С:\Документы\Срочные \Покупка

Ответ:

- 5 Дан фрагмент электронной таблицы, в первой строке которой записаны числа, а во второй – формулы.

	A	B	C	D
1	4		3	2
2	$= (A1 + D1) / 2$	$= C1 - D1$		$= A1 - 1$

Какая из перечисленных ниже формул должна быть записана в ячейке C2, чтобы построенная после выполнения вычислений круговая диаграмма по значениям диапазона ячеек A2:D2 соответствовала рисунку?



- 1) $= D1 + 1$ 2) $= A1 - 2$ 3) $= C1 - D1$ 4) $= A1 - 1$

Ответ:

- 6 Исполнитель Чертёжник перемещается на координатной плоскости, оставляя след в виде линии. Чертёжник может выполнять команду **Сместиться на (a, b)** (где a, b – целые числа), перемещающую Чертёжника из точки с координатами (x, y) в точку с координатами $(x + a, y + b)$. Если числа a, b положительные, значение соответствующей координаты увеличивается, если отрицательные – уменьшается.

Например, если Чертёжник находится в точке с координатами $(4, 2)$, то команда **Сместиться на $(2, -3)$** переместит Чертёжника в точку $(6, -1)$.

Запись

Повтори k раз

Команда1 Команда2 Команда3

Конец

означает, что последовательность команд **Команда1 Команда2 Команда3** повторится k раз.

Чертёжнику был дан для исполнения следующий алгоритм:

Повтори 3 раз

Сместиться на $(-2, -1)$ Сместиться на $(3, 2)$ Сместиться на $(2, 1)$

Конец

Какую единственную команду надо выполнить Чертёжнику, чтобы вернуться в исходную точку, из которой он начал движение?

- 1) Сместиться на $(9, 6)$ 3) Сместиться на $(6, 9)$
 2) Сместиться на $(-6, -9)$ 4) Сместиться на $(-9, -6)$

Ответ:

Ответом к заданиям 7–18 является число или последовательность символов (букв или цифр), которые следует записать в поле ответа в тексте работы.

- 7** От разведчика была получена следующая зашифрованная радиোগрамма, переданная с использованием азбуки Морзе:

• • - • • • - - - - • • • • -

При передаче радиোগраммы было потеряно разбиение на буквы, но известно, что в радиোগрамме использовались только следующие буквы:

Т	А	У	Ж	Х
-	• -	• • -	• • • -	• • • •

Определите текст радиোগраммы.

Ответ: _____.

- 8** В программе «:=» обозначает оператор присваивания, знаки «+», «-», «*» и «/» – соответственно операции сложения, вычитания, умножения и деления. Правила выполнения операций и порядок действий соответствует правилам арифметики.

Определите значение переменной *a* после исполнения данного алгоритма.

a := 4

b := 8+2**a*

a := *b*/2**a*

Порядок действий соответствует правилам арифметики.

В ответе укажите одно число – значение переменной *a*.

Ответ: _____.

- 9** Определите, что будет напечатано в результате работы следующей программы. Текст программы приведён на трёх языках программирования.

Алгоритмический язык	Бейсик	Паскаль
<pre> алг нач цел s, k s := 0 нц для k от 2 до 12 s := s + 11 кц вывод s кон </pre>	<pre> DIM s, k AS INTEGER s = 0 FOR k = 2 TO 12 s = s + 11 NEXT k PRINT s </pre>	<pre> var s, k:integer; begin s := 0; for k := 2 to 12 do s := s + 11; writeln (s); end. </pre>

Ответ: _____.

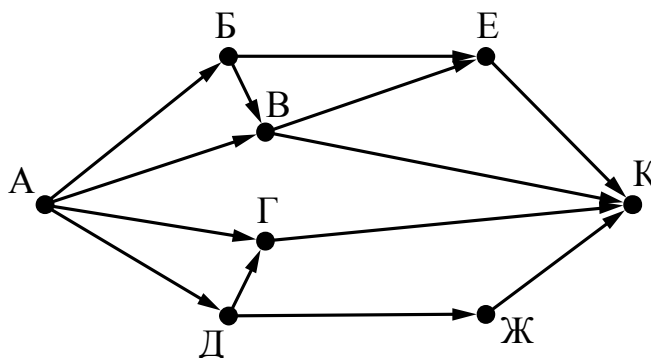
10

Школьница делала лабораторную работу по физике, в ходе которой измерила 10 раз силу тока и записала показания амперметра в таблицу Tok (Tok[1] – результат первого измерения, Tok[2] – второго и т. д.). Определите, какое число будет напечатано в результате работы следующей программы. Текст программы приведён на трёх языках программирования.

Алгоритмический язык	Бейсик
<pre> алг нач целтаб Tok[1:10] цел k, m Tok[1] := 10; Tok[2] := 14 Tok[3] := 15; Tok[4] := 4 Tok[5] := 12; Tok[6] := 6 Tok[7] := 3; Tok[8] := 5 Tok[9] := 5; Tok[10] := 10 m := 0 нц для k от 1 до 10 если Tok[k] > 6 то m := m + 2 все кц вывод m кон </pre>	<pre> DIM Tok(10) AS INTEGER DIM k,m AS INTEGER Tok(1)= 10: Tok(2)= 14 Tok(3)= 15: Tok(4) = 4 Tok(5)= 12: Tok(6)= 6 Tok(7)= 3: Tok(8)= 5 Tok(9)= 5: Tok(10)= 10 m = 0 FOR k = 1 TO 10 IF Tok(k) > 6 THEN m = m + 2 END IF NEXT k PRINT m </pre>
Паскаль	
<pre> Var k, m: integer; Tok: array[1..10] of integer; Begin Tok[1] := 10; Tok[2] := 14; Tok[3] := 15; Tok[4] := 4; Tok[5] := 12; Tok[6] := 6; Tok[7] := 3; Tok[8] := 5; Tok[9] := 5; Tok[10] := 10; m := 0; For k := 1 to 10 Do If Tok[k] > 6 Then Begin m := m + 2; End; Writeln(m); End. </pre>	

Ответ: _____.

- 11** На рисунке – схема дорог, связывающих города А, Б, В, Г, Д, Е, Ж и К. По каждой дороге можно двигаться только в одном направлении, указанном стрелкой. Сколько существует различных путей из города А в город К?



Ответ: _____.

- 12** Ниже в табличной форме представлен фрагмент базы данных о реках мира.

Название реки	Часть света	Протяжённость (км)	Площадь бассейна (тыс. км ²)
Лена	Азия	4320	2418
Волга	Европа	3690	1380
Индибирка	Азия	1790	360
Терек	Европа	626	44
Нева	Европа	74	282
Нигер	Африка	4160	2092
Инд	Азия	3180	980
Луара	Европа	1020	115

Сколько записей в данном фрагменте удовлетворяют условию **(Часть света = «Азия») ИЛИ (Протяжённость > 4000)?**

В ответе укажите одно число – искомое количество записей.

Ответ: _____.

- 13** Переведите десятичное число 189 в двоичную систему счисления.

Ответ: _____.

14 У исполнителя Квадратор две команды, которым присвоены номера:

1. возведи в квадрат

2. вычти 2

Первая из них возводит число на экране во вторую степень, вторая уменьшает его на 2.

Составьте алгоритм получения **из числа 4 числа 142**, содержащий не более 5 команд. В ответе запишите только номера команд.

(Например, 12221 – это алгоритм:

возведи в квадрат

вычти 2

вычти 2

вычти 2

возведи в квадрат,

который преобразует число 4 в 100.)

Если таких алгоритмов более одного, то запишите любой из них.

Ответ: _____.

15 Файл размером 9 Кбайт передаётся через некоторое соединение со скоростью 1024 бит в секунду. Определите на сколько секунд быстрее можно передать этот же файл через другое соединение со скоростью 1536 бит в секунду. В ответе укажите одно число – количество секунд.

Ответ: _____.

16 Цепочка из трёх бусин, помеченных латинскими буквами, формируется по следующему правилу:

– в середине цепочки стоит одна из бусин С, Е, D, А;

– в конце – одна из бусин Н, А, С, которой нет на втором месте;

– на первом месте – одна из бусин Н, А, Е, D, не стоящая в конце.

Определите, сколько из перечисленных цепочек созданы по этому правилу?

НСА АЕА ДАН ЕСС ЕЕН АДЕ СЕА АЕД ЕНА

В ответе запишите только количество цепочек.

Ответ: _____.

17 Доступ к файлу **htm.txt**, находящемуся на сервере **com.ru**, осуществляется по протоколу **http**. Фрагменты адреса файла закодированы буквами от А до Ж. Запишите последовательность этих букв, кодирующую адрес указанного файла в сети Интернет.

- А) com
- Б) http
- В) /
- Г) .txt
- Д) .ru
- Е) ://
- Ж) htm

Ответ:

--	--	--	--	--	--	--	--

18 В таблице приведены запросы к поисковому серверу. Для каждого запроса указан его код – соответствующая буква от А до Г. Расположите коды запросов слева направо в порядке **возрастания** количества страниц, которые нашёл поисковый сервер по каждому запросу. По всем запросам было найдено разное количество страниц.

Для обозначения логической операции «ИЛИ» в запросе используется символ «|», а для логической операции «И» – «&».

Код	Запрос
А	Солнце Воздух Вода
Б	(Солнце & Воздух) Вода
В	Солнце & Воздух
Г	Солнце & Воздух & Вода

Ответ: _____.

Часть 2

Задания этой части (19, 20) выполняются на компьютере. Результатом выполнения задания является отдельный файл (для одного задания – один файл). Формат файла, его имя и каталог для сохранения Вам сообщат организаторы работы.

19

В электронную таблицу занесли данные наблюдения за погодой в течение одного года. Ниже приведены первые пять строк таблицы.

	А	В	С	Д	Е	Ф
1	Дата	Температура	Осадки	Давление	Ветер	Скорость ветра
2	1 января	0,7	15,2	748	ЮВ	4,2
3	2 января	0,4	4,6	751	В	4,7
4	3 января	-1,9	1,4	747	С	2,4
5	4 января	-7,7	0,2	752	З	4,7

В столбце А записана дата наблюдения, в столбце В – среднесуточная температура воздуха для указанной даты, в столбце С – количество выпавших осадков (в миллиметрах) для указанной даты, в столбце Д – среднесуточное атмосферное давление (в миллиметрах ртутного столба). В столбце Е записано направление ветра для указанной даты – одно из восьми возможных значений «СЗ», «С», «СВ», «В», «ЮВ», «Ю», «ЮЗ», «З». В столбце Ф записана среднесуточная скорость ветра (в метрах в секунду). Всего в электронную таблицу были занесены данные по всем 365 дням года в хронологическом порядке.

Выполните задание.

Откройте файл с данной электронной таблицей (расположение файла Вам сообщат организаторы работы). На основании данных, содержащихся в этой таблице, ответьте на два вопроса:

1. Какое среднее количество осадков выпадало за сутки в весенние месяцы (март, апрель, май)? Ответ на этот вопрос запишите в ячейку Н2 таблицы.
2. Какая средняя скорость ветра была в те дни года, когда дул юго-западный (ЮЗ) ветер? Ответ на этот вопрос запишите в ячейку Н3 таблицы.

Ответы должны быть вычислены с точностью не менее двух знаков после запятой. Полученную таблицу необходимо сохранить под именем, указанным организаторами работы.

Выберите ОДНО из предложенных ниже заданий: 20.1 или 20.2.

20.1 Исполнитель Робот умеет перемещаться по лабиринту, начерченному на плоскости, разбитой на клетки. Между соседними (по сторонам) клетками может стоять стена, через которую Робот пройти не может.

У Робота есть девять команд. Четыре команды – это команды-приказы:

вверх вниз влево вправо

При выполнении любой из этих команд Робот перемещается на одну клетку соответственно: вверх ↑, вниз ↓, влево ←, вправо →. Если Робот получит команду передвижения сквозь стену, то он разрушится.

Также у Робота есть команда **закрасить**, при которой закрашивается клетка, в которой Робот находится в настоящий момент.

Ещё четыре команды – это команды проверки условий. Эти команды проверяют, свободен ли путь для Робота в каждом из четырёх возможных направлений:

сверху свободно снизу свободно слева свободно справа свободно

Эти команды можно использовать вместе с условием «если», имеющим следующий вид:

если условие то

последовательность команд

все

Здесь *условие* – одна из команд проверки условия.

Последовательность команд – это одна или несколько любых команд-приказов.

Например, для передвижения на одну клетку вправо, если справа нет стенки и закрашивания клетки, можно использовать такой алгоритм:

если справа свободно то

вправо

закрасить

все

В одном условии можно использовать несколько команд проверки условий, применяя логические связки **и**, **или**, **не**, например:

если (справа свободно) и (не снизу свободно) то

вправо

все

Для повторения последовательности команд можно использовать цикл «пока», имеющий следующий вид:

нц пока условие

последовательность команд

кц

Например, для движения вправо, пока это возможно, можно использовать следующий алгоритм:


нц пока справа свободно

вправо

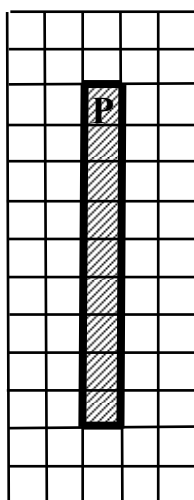
кц

Выполните задание

Робот находится в верхней клетке узкого вертикального коридора. Ширина коридора – одна клетка, **длина коридора может быть произвольной**. Возможный вариант начального расположения Робота приведён на рисунке (Робот обозначен буквой «Р»):



Напишите для Робота алгоритм, закрашивающий все клетки внутри коридора и возвращающий Робота в исходную позицию. Например, для приведённого выше рисунка Робот должен закрасить следующие клетки (см. рисунок):



Алгоритм должен решать задачу для произвольного конечного размера коридора. При исполнении алгоритма Робот не должен разрушиться.

Алгоритм может быть выполнен в среде формального исполнителя или записан в текстовом редакторе.

Название файла и каталог для сохранения Вам сообщат организаторы экзамена.

20.2 Напишите программу, которая в последовательности натуральных чисел определяет количество чисел, кратных 3 и оканчивающихся на 2. Программа получает на вход количество чисел в последовательности, а затем сами числа.

Количество чисел не превышает 1000. Введённые числа по модулю не превышают 30 000.

Программа должна вывести одно число: количество чисел, кратных 3 и оканчивающихся на 2.

Пример работы программы:

Входные данные	Выходные данные
4	2
12	
25	
12	
9	