

Сборник тестов

История 5-11 класс

География 5-11 класс

Обществознание 6-11 класс

в рамках проекта «Инфоурок»

УДК [94+91+3](075.3/4)

ББК 63.3я729

С23

С23 **Сборник тестов. История 5-11 кл. География 5-11 класс.**

Обществознание 6-11 кл. / Под ред. И.В. Жаборовского. - Минск :

ООО «Витпостер», 2015. - 554 с.

ISBN 978-985-7105-20-5.

УДК [94+91+3](075.3/4)

ББК 63.3я729

ISBN 978-985-7105-20-5

© ООО «Инфоурок», 2015

© Оформление. ООО «Витпостер», 2015

***Тесты по географическому
краеведению***

Географическое краеведение

*Даминева Альфия Фатыховна,
учитель географии и биологии,
МБОУ «СОШ с. Чесноковка»
Перволюцкого района
Оренбургской обл.*

1. Общий Сырт – это:

- A) горы
- B) плоскогорье
- C) возвышенность
- D) плато

2. Самое высокое место в рельефе Оренбургской области:

- A) гора Медвежий Лоб
- B) хребет Накас
- C) хребет Шайтан – Тау
- D) Саринское плато

3. Одной из основных черт климата Оренбургской области является:

- A) длительный весенний период и постепенный переход от зимы к лету
- B) теплая зима, жаркое дождливое лето
- C) мягкая зима, жаркое лето
- D) короткий весенний период, быстрый переход от зимы к лету

4. Основную массу осадков в Оренбургской области приносят:

- A) южные ветры
- B) муссоны
- C) ветры западного переноса
- D) антициклоны

5. Максимальное количество осадков в Оренбургской области выпадает:

- A) на Общем Сырте
- B) на востоке
- C) на хребте Малый Накас
- D) на Урало – Тобольском плато

6. Коэффициент увлажнения в Оренбургской области:

- A) 0, 8- 0,9
- B) равен 1
- C) равен 0
- D) 0,2-0,3

7. Реки Оренбургской области относятся к бассейнам:

- A) Атлантического и Северного Ледовитого океанов
- B) Атлантического океана и Каспийского моря
- C) Северного Ледовитого океана и Каспийского моря
- D) только Каспийского моря

8. К рекам бассейна Волги в Оренбургской области относятся:

- A) Большой Кинель
- B) Сакмара
- C) Илек
- D) Салмыш

9. Река Тобол относится к бассейну:

- A) Каспийского моря
- B) Атлантического океана
- C) Северного Ледовитого океана
- D) Индийского океана

10. Для рек Оренбургской области характерны:

- A) крайняя неравномерность годового стока
- B) высокий подъем по время летних паводков
- C) значительная заболоченность поймы
- D) водопады и пороги

11. Шиханы – это:

- A) сыртовые увалы
- B) останцы на вершинах сыртов
- C) сопки низкогорий
- D) скальные обрывы

12. Основными типами почв в Оренбургской области являются:

- A) черноземы типичные
- B) черноземы южные
- C) темно – каштановые
- D) светло – каштановые

13. Преобладающие типы ландшафтов в Оренбургской области:

- A) степные
- B) лесостепные
- C) полупустынные
- D) пойменные

14. Оренбургской «Швейцарией» называют:

- A) Бузулукский бор
- B) ландшафты Губерлинских гор
- C) район озера Развал
- D) долину реки Урал

15. Крупный грызун, обитающий в основном на востоке области, имеющий промысловое значение:

- A) норка
- B) бобр
- C) суслик
- D) сурок

***Тесты по
географии
5 класс***

Водная оболочка Земли

*Руденок Клавдия Михайловна, учитель географии 1
квалификационной категории, МБОУ СОШ №3 п.
Эльбан, Амурский район, Хабаровский край*

1. Гидросфера – это:

- A) воздушная оболочка Земли
- B) водная оболочка Земли
- C) живая оболочка Земли
- D) каменная оболочка Земли

2. Водная оболочка состоит из:

- A) воды океанов, атмосферы и суши
- B) воды рек, озер, болот
- C) воды ледников, подземные воды, многолетняя мерзлота
- D) все вместе взятое

3. Движущие силы круговорота воды в природе - это:

- A) солнечное тепло, сила притяжения Земли
- B) существование жизни на Земле, солнечное тепло
- C) переход воды из одного состояния в другое
- D) все вместе взятое

4. Какую часть поверхности Земли занимает Мировой океан:

- A) 29 %
- B) 61 %
- C) 71%
- D) 81 %

5. Количество минеральных веществ в граммах, растворенных в 1 л воды, называют:

- A) раствором
- B) соленостью
- C) концентрацией
- D) испарением

6. Вода в океанах замерзает при температуре (в градусах):

- A) 0
- B) -2
- C) -4
- D) +2

7. Самое глубокое озеро Земли – это:

- A) Балхаш
- B) Байкал
- C) Ладожское
- D) Виктория

8. Ледник – это:

- A) плоские равнины в полярных областях
- B) природный водоем, расположенный в замкнутом углублении земной коре
- C) скопление природного льда и снега, которые самостоятельно движутся под действием силы тяжести
- D) водный поток, который течет в выработанном им углублении-русле

9. Подземной водой называется вода, которая находится в:

- A) мантии
- B) водоносном горизонте
- C) водоупорном горизонте
- D) горных породах верхней части земной коры

10. Самый крупный родник в России - это:

- A) Красный ключ
- B) Тумнин
- C) Кульдур
- D) Анненские воды

11. Тело ребенка от рождения и до годовалого возраста состоит из воды на:

- A) 65-70 %
- B) 70-75 %
- C) 80-85 %

12. К искусственным водоемам относятся:

- A) каналы
- B) родники
- C) озера
- D) старицы

13. Самая крупная река в мире и самая большая река в Европе- это:

- A) Днепр
- B) Дон
- C) Волга
- D) Нева

14. Воды на материках и островах составляют от общего объема гидросферы в %:

- A) 2
- B) 3
- C) 4
- D) 5

15. Поверхностные воды изучает наука-это:

- A) геология
- B) гидрология
- C) метеорология
- D) сейсмология

Природа нашей Родины

Каменская Наталья Валентиновна,

учитель, ГКОУ РО школы VII вида № 7 г. Азова

1. Какое животное древний человек приручил одним из первых?

- A) лошадь
- B) свинью
- C) волка
- D) козу

2. Как надо вести себя при встрече с медведем, если нападения не избежать?

- A) спокойно стоять
- B) спастись бегством
- C) громко кричать и махать руками
- D) залезть на дерево

3. Какое животное не охотится в одиночку?

- A) рысь
- B) волк
- C) медведь
- D) лисица

4. Кто из обитателей леса питается семенами растений и орехами?

- A) ёж
- B) заяц
- C) бурундук
- D) куница

5. Какие инфекционные заболевания переносят мышевидные грызуны?

- A) чесотку
- B) дизентерию
- C) малярию
- D) туляремию

6. Под каким деревом растёт подосиновик?

- A) под берёзой
- B) под осиной
- C) около берёзы, дуба, ели
- D) нигде не растёт

7. Какие грибы появляются первыми?

- A) сморчки и строчки
- B) опята и грузди
- C) лисички и рыжики
- D) маслята и боровики

8. Какой гриб является ядовитым?

- A) белый гриб
- B) белый груздь
- C) белый мухомор
- D) сыроежки

9. Что производят из древесины?

- A) скипидар
- B) бензин
- C) солянку
- D) керосин

10. Какие растения растут на лугу?

- A) пушица и вереск
- B) лютик и колокольчик
- C) никакие не растут
- D) ель и дуб

11. Какое животное является домашним?

- A) лось
- B) корова
- C) кабан
- D) косуля

12. Какой кустарничек растёт на болоте?

- A) багульник
- B) малина

- С) бузина
- Д) смородина

13. Чем питаются самцы обыкновенного комара?

- А) пылью
- В) кровью
- С) соком растений
- Д) ничем не питаются

14. Какие рыбы являются хищными?

- А) сазан
- В) щука
- С) толстолобик
- Д) карась

15. От чего страдают и часто гибнут растения и животные, когда водоёмы надолго покрываются толстым слоем льда?

- А) от недостатка света
- В) от недостатка тепла
- С) от недостатка кислорода
- Д) от недостатка воды

Развитие географических знаний о земле

*Ешина Елена Игоревна,
учитель географии,
ГБОУ Школа № 814 СП 4*

1. Самые древние карты, нацарапанные на вавилонских глиняных табличках относят к:

- А) 3000 г до н.э.
- В) 1500 г
- С) 1600г
- Д) 2000г до н.э.

2. Первым собрал все описания новых земель и народов, сделанные разными учеными-путешественниками в один научный труд:

- А) Геродот
- В) Аристотель
- С) Марко Поло
- Д) Эратосфен

3. Размер Земли первым высчитал:

- A) Ф. Магеллан
- B) Г. Галилей
- C) Эратосфен
- D) Геродот

4. Самая первая карта морского дна появилась:

- A) 1872-1876гг
- B) 1519-1522гг
- C) 1497-1499гг
- D) 1803-1806гг

5. Книга Марко Поло содержит описания природы и жизни населения стран:

- A) Китай, Персия, Россия, Япония, Индия
- B) Германия, Монголия, Индия, Китай, Португалия
- C) Китай, Персия, Армения, Индия, Япония
- D) Франция, Персия, Армения, Индия, Япония

6. Первый глобус был создан:

- A) Эратосфеном
- B) М. Бегаймом
- C) Геродотом
- D) Ф. Магелланом

7. В 1468 г. тверской купец А. Никитин отправился в:

- A) Китай
- B) Японию
- C) Персию
- D) Индию

8. Автором первого сборника карт, вышедшего в 1595 г., названный по имени мавританского царя Атласа стал:

- A) М. Ломоносов
- B) Васко да Гама
- C) Г. Меркатор
- D) Ф. Магеллан

9. Английский мореплаватель Дж. Кук исследовал берега:

- A) Индии, Китая
- B) Австралии, Новой Зеландии
- C) Индии, Мадагаскара
- D) Австралии, Индии

10. Первая топографическая служба была организована в 18 веке в:

- A) России
- B) Италии
- C) Франции
- D) Португалии

Развитие географических знаний о земной поверхности

Шевченко Светлана Михайловна,

учитель географии, МОУ «СОШ№ 72», г. Саратов

1. Первооткрывателями прохода из Средиземного моря в Атлантический океан были...

- A) древние греки
- B) египтяне
- C) финикийцы
- D) викинги

2. Какой народ до Колумба побывал в Америке?

- A) древние греки
- B) викинги
- C) финикийцы
- D) египтяне

3. Какое государство названо в честь первооткрывателя Америки?

- A) Боливия
- B) Колумбия
- C) Сальвадор
- D) Гватемала

4. За 30 лет до прибытия Васко да Гамы эту богатую страну посетил русский путешественник, оставивший описание природы этой страны, быта и нравов её населения. Эта страна...

- A) Индия
- B) Япония
- C) Китай
- D) Египет

5. Кто из европейцев составил первое подробное описание Востока (вос-точных стран)?

- A) Марко Поло
- B) Васко да Гама
- C) Афанасий Никитин
- D) Ф Магеллан

6. Какой пролив носит имя руководителя первого кругосветного путеше-ствия?

- A) Дрейка
- B) Беринга
- C) Магелланов
- D) Бассов

7. Имя руководителя первой русской кругосветной экспедиции....

- A) Н. Пржевальский
- B) И. Крузенштерн
- C) Ф. Беллинсгаузен
- D) М. Лазарев

8. Имя человека, первым покорившим Северный полюс....

- A) Р. Амундсен
- B) Ф. Нансен
- C) Р. Пири
- D) Р. Скотт

9. Имя человека, первым покорившим Южный полюс....

- A) Р. Амундсен
- B) Р. Скотт
- C) Ф. Нансен
- D) Р. Пири

10. Назовите имена первооткрывателей Антарктиды

- A) М. Лазарев
- B) Ф. Нансен
- C) Ф. Беллинсгаузен
- D) Д. Кук

Понятие об атмосфере. Суточный и годовой ход температуры. Атмосферное давление. Ветер

Бочарова Инна Владимировна,

учитель географии, МОУ лицей «Политэк»

1. Ветер, дующий с моря на сушу, ночью с суши на море.

- A) бриз
- B) ветер
- C) бриз
- D) флюгер

2. Слой атмосферы, расположенный над тропосферой, простирающийся до 40-50 км.

- A) стратосфера
- B) атмосфера
- C) тропосфера
- D) амплитуда

3. Прибор для определения атмосферного давления.

- A) термометр
- B) барометр
- C) флюгер
- D) бриз

4. Движение воздуха в горизонтальном направлении из мест высокого давления к местам низкого давления.

- A) бриз
- B) ветер
- C) муссон
- D) флюгер

5. Воздушная оболочка земного шара, вращающаяся вместе с Землей.

- A) стратосфера
- B) атмосфера
- C) тропосфера
- D) амплитуда

6. Прибор для определения температуры воздуха.

- A) термометр
- B) барометр
- C) флюгер
- D) бриз

7. Разность между наибольшим и наименьшим значениями температура-ми воздуха в течение суток, месяца или года.

- A) барометр
- B) амплитуда
- C) бриз
- D) флюгер

8. Нижний слой воздушной оболочки Земли.

- A) стратосфера
- B) атмосфера
- C) тропосфера
- D) муссон

9. Прибор для определения направления и скорости ветра.

- A) бриз
- B) ветер
- C) муссон
- D) флюгер

10. Ветры, дующие зимой с суши на море, летом с моря на сушу.

- A) флюгер
- B) бриз
- C) муссон
- D) ветер

ИТОГОВЫЙ ТЕСТ

Алексеева Татьяна Валерьевна

1. Самый маленький участок Земли лучше всего может быть изображен

- A) на карте мира
- B) на карте материка
- C) на плане
- D) на карте страны

2. Уменьшенная модель Земли – это

- A) карта
- B) аэрофотоснимок
- C) план
- D) глобус

3. Чем карта отличается от плана?

- A) ничем
- B) на карте есть масштаб
- C) на карте есть градусная сеть
- D) на карте есть условные знаки

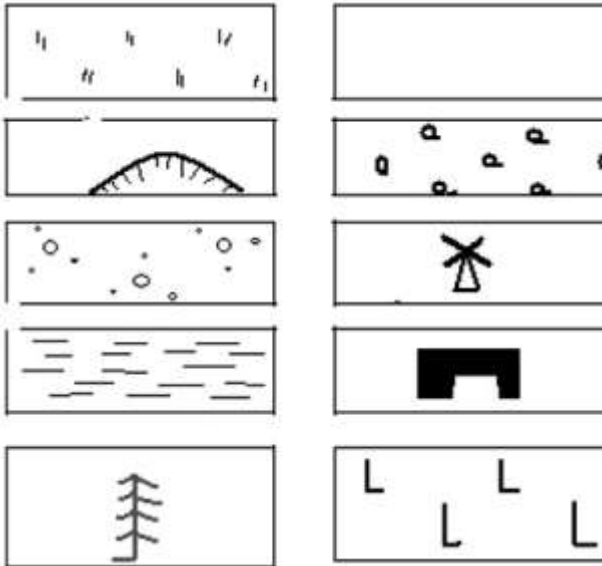
4. До наших дней сохранился глобус, сделанный

- A) Магелланом
- B) Аристотелем
- C) Бегаймом
- D) Колумбом

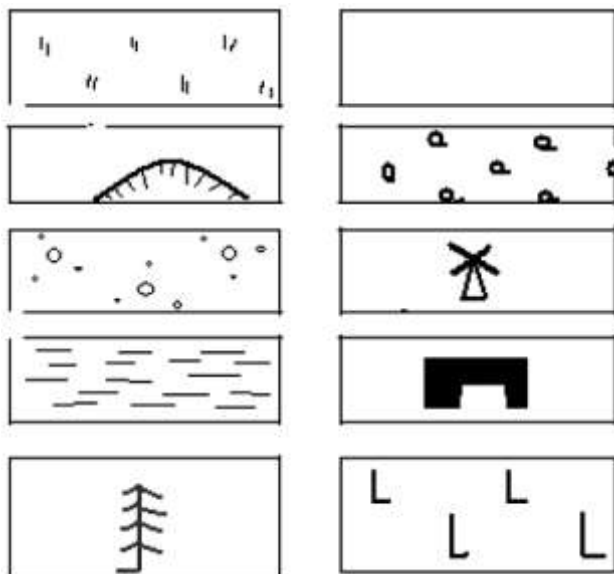
5. Какое из изображений наиболее подробно показывает участок земли?

- A) карта
- B) аэрофотоснимок
- C) план
- D) космический снимок

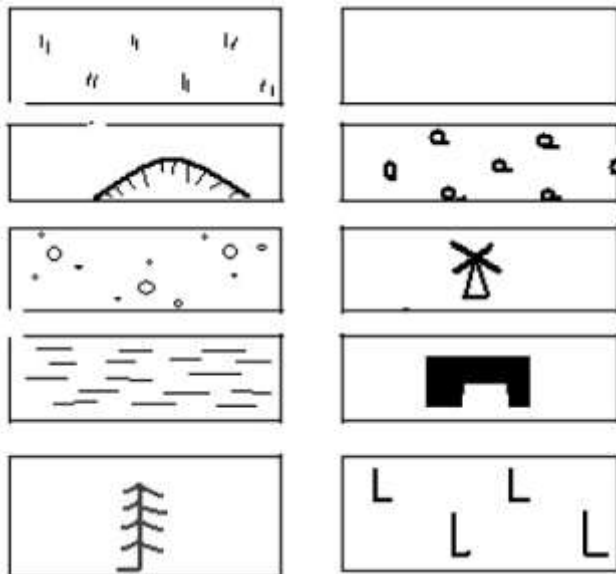
6. Укажите условный знак - поле



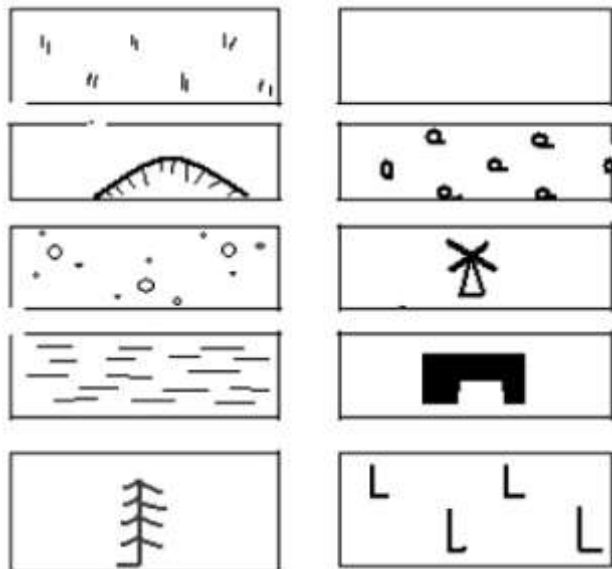
7. Укажите условный знак – болото



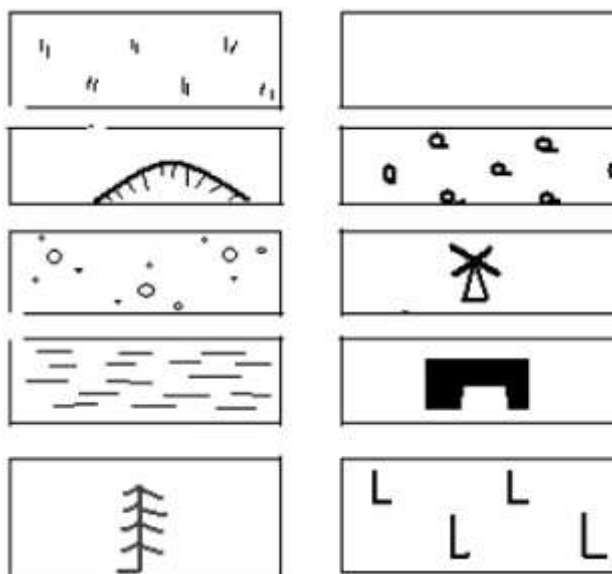
8. Укажите условный знак - одиноко стоящее хвойное дерево



9. Укажите условный знак - обрыв



10. Укажите условный знак - школа



11. Страны нельзя увидеть на картах

- A) мира
- B) городов
- C) стран
- D) материков

12. Сборники карт называются

- A) атласами
- B) книгами
- C) Энциклопедиями
- D) справочниками

13. На каком из изображений Земли можно видеть очертания материков наиболее точно?

- A) на плане
- B) на глобусе
- C) на аэрофотоснимке
- D) на карте

14. Укажите правильное соответствие

- A) физическая карта Пермского края
 - B) физическая карта мира
 - C) карта растительности России
 - D) карта автомобильных дорог
- 1) общегеографическая
 - 2) общегеографическая

15. Пронумеруйте изображения земной поверхности от самых древних к самым современным.

- A) космический снимок
- B) глобус
- C) карта
- D) план

16. Превратите в численный масштаб в 1 см. - 5 км.

Ответ:

17. Точка с координатами 0°ш. 0°д. - это точка пересечения...

- A) нулевого меридиана и северного тропика
- B) южного полярного круга и нулевого меридиана
- C) экватора и нулевого меридиана
- D) экватора и 180-го меридиана

18. На каком материке находится точка с координатами 0° ш. 30° в.д.

- A) Евразия
- B) Австралия
- C) Южная Америка
- D) Африка

19. В каком направлении от Москвы находится Тула?

- A) на юге
- B) на северо-западе
- C) на юго-востоке
- D) на юго-западе

20. Как называется линия на карте или на плане, каждая точка которой находится на одинаковой высоте?

Ответ:

ИТОГОВЫЙ ТЕСТ

Иванов Ким Александрович

1. Вставьте пропущенные слова:

Север,, - это стороны горизонта.

2. Найдите лишнее слово:

- A) пчела
- B) почва
- C) мох
- D) человек

3. Самая дальняя от солнца из планет земной группы:

- A) Земля
- B) Венера
- C) Марс
- D) Меркурий

4. Выберите неправильный ответ. Кометы состоят из:

- A) ядра
- B) хвоста
- C) газовой оболочки
- D) куска железа

5. Правильно ли, что Солнце находится в центре Галактики?

- A) Да
- B) Нет

6. Самый большой материк - это:

- A) Антарктида
- B) Африка
- C) Евразия
- D) Австралия

7. Вулканы, которые извергаются более или менее регулярно, называют:

- A) потухшими
- B) живыми
- C) действующими

8. Жизнь обнаружена

- A) на Земле и на Марсе
- B) на Земле
- C) на Земле и Венере

9. Определите лишнее небесное тело:

- A) Земля
- B) Сатурн
- C) Луна
- D) Уран

10. Извержение вулканов называется:

- A) дыханием
- B) движением
- C) явлением природы

11. Существуют следующие среды обитания живых организмов:

- A) наземно-воздушная
- B) водная, почвенная
- C) наземно-воздушная; водная, почвенная

12. Первые люди, по мнению ученых, на Земле появились:

- A) 60 млн. лет назад
- B) 5 млн. лет назад
- C) 2 млн. лет назад

13. Гималаи – это?

- A) река
- B) горы
- C) ветер

14. Первое кругосветное путешествие совершил:

- А) Ф. Магеллан
- В) Марко Поло
- С) Х. Колумб

15. Как называются плавающие ледяные горы в океане?

- А) архипелаги
- В) айсберги
- С) атмосфера

Тесты по географии

6 класс

ИТОГОВЫЙ ТЕСТ

*Матюхина Любовь Николаевна,
учитель географии, филиал МБОУ
СОШ с. Тербуны в с. Ивановка*

1. Слово «география» в переводе с греческого означает:

- A) изучение Земли
- B) измерение Земли
- C) описание Земли
- D) это вообще не греческое слово

2. Какая из перечисленных планет не входит в планеты земной группы?

- A) Земля
- B) Уран
- C) Марс
- D) Меркурий

3. Полный оборот Земля совершает вокруг Солнца за:

- A) 365 дней
- B) 365 дней 8 часов
- C) 365 дней 4 часа
- D) 365 дней 6 часов

4. Какого значения не может быть у широты:

- A) 0°
- B) 45°
- C) 90°
- D) 135°

5. Географическая широта – это расстояние от:

- A) экватора
- B) Северного полюса
- C) начального меридиана
- D) Москвы

6. Количество света и тепла, приходящее на поверхность Земли, зависит от:

- A) рельефа
- B) угла падения солнечных лучей
- C) высоты над уровнем моря
- D) нет правильного ответа

7. Смена дня и ночи происходит из-за:

- A) вращения Земли вокруг своей оси
- B) вращения Земли вокруг Солнца
- C) наклона оси вращения Земли
- D) времени суток

8. 22 июня называется:

- A) зимнее солнцестояние
- B) осеннее равноденствие
- C) летнее солнцестояние
- D) весеннее равноденствие

9. Географическая карта – это:

- A) чертёж местности
- B) рисунок местности
- C) модель местности
- D) план местности

**10. Длина моста на плане в масштабе 1:800 составляет 2 см.
Какова его длина на местности:**

- A) 8 м.
- B) 16 м.
- C) 80 м.
- D) 160 м.

11. Рельеф местности на карте показан способом:

- A) качественного фона
- B) значками
- C) изолиниями
- D) знаками движения

12. Отличием материковой земной коры от океанической является:

- A) толщина
- B) наличие магматических горных пород
- C) наличие осадочных горных пород
- D) наличие метаморфических горных пород

13. Наука, изучающая землетрясения, называется:

- A) сейсмология
- B) вулканология
- C) минералогия
- D) геология

14. Из всех гор планеты Анды самые:

- A) высокие
- B) протяжённые
- C) низкие
- D) разрушенные

15. Наименьшее атмосферное давление наблюдается на:

- A) равнине
- B) холме
- C) вершине горы
- D) берегу моря

16. Свойство воды:

- A) вода медленно нагревается, но и быстро остывает
- B) вода быстро нагревается, зато медленно остывает
- C) вода быстро нагревается, но и быстро остывает
- D) вода медленно нагревается, но и медленно остывает

17. В каком случае процессы названы в правильном порядке:

- A) конденсация пара – выпадение осадков – охлаждение воздуха
- B) выпадение осадков – охлаждение воздуха – конденсация пара
- C) охлаждение воздуха – выпадение осадков – конденсация пара
- D) охлаждение воздуха – конденсация пара – выпадение осадков

18. Воздушные массы это:

- A) большие объёмы воздуха, не отличающиеся своими свойствами
- B) большие объёмы воздуха, обладающие определёнными свойствами
- C) небольшие объёмы воздуха, обладающие определёнными свойствами
- D) небольшие объёмы воздуха, не отличающиеся своими свойствами

19. Погода – это:

- A) состояние атмосферы в данное время и в данной местности
- B) состояние стратосферы в данное время и в данной местности
- C) состояние тропосферы в данное время и в данной местности
- D) состояние верхних слоёв атмосферы в данное время и в данной местности

20. Мировой океан состоит из:

- A) океанов и морей
- B) заливов и проливов
- C) из всего перечисленного
- D) нет правильного ответа

21. По территории Северной Америки протекает река:

- A) Дунай
- B) Амазонка

-
- C) Рейн
 - D) Миссисипи

22. Река НЕ может брать начало из:

- A) моря
- B) озера
- C) болота
- D) родника

23. Биосфера – это:

- A) область распространения растений
- B) область распространения животных
- C) область распространения жизни
- D) Нет верного ответа

24. Смена природных зон подчиняется изменениям:

- A) климата
- B) рельефа
- C) почв
- D) ветра

Водная оболочка Земли

*Чугунова Ольга Владимировна,
учитель географии, КГБОУ
«АКПЛ» ЦДОДИ*

1. Какой из представленных масштабов самый крупный:

- A) 1:25000
- B) 1:50000
- C) 1:100000
- D) 1:1000000

2. Превышение точки земной поверхности по отвесной линии над уровнем моря – это:

- A) горизонталь
- B) абсолютная высота точки
- C) относительная высота точки
- D) бергштрихи

3. Длина окружности Земли по экватору:

- A) 4400 км
- B) 40000 км

С) 400000 км

Д) 40040 км

4. Какие населенные пункты имеют следующие координаты?

48°с.ш. 2°в.д.

А) Лондон

В) Париж

С) Нью-Йорк

Д) Дели

34°ю.ш. 151°в.д.


А) Сидней

В) Кейптаун

С) Сантьяго

Д) Каир

5. Укажите цифры на рис. 1, обозначающие



А) жерло вулкана

В) кратер вулкана

6. К магматическим горным породам относится:

А) каменный уголь

В) гранит

С) мрамор

Д) песчаник

7. Равнины, расположенные на высоте от 200 до 500 м над уровнем моря называются ...

А) низменности

В) возвышенности

С) плоскогорья

8. Выбери верную пару: гора - горная вершина:

- A) Анды - Белуха
- B) Кордильеры - Аконкагуа
- C) Урал - Мак - Кинли
- D) Кавказ - Эльбрус

9. Причиной образования пассатов является...

- A) сила притяжения Луны
- B) разница в атмосферном давлении
- C) разница во влажности воздуха
- D) разница температуры воды в океане

10. Физическая география занимается изучением:

- A) только рельефа
- B) только климата
- C) только океана
- D) всей природы

11. Все неровности земной поверхности – это

- A) плоскогорья и низменности
- B) впадины и горы
- C) рельеф
- D) горные породы

История географических открытий

*Евсюкова Валентина Николаевна,
учитель географии, МБОУ СОШ
№42 г. Владикавказа РСО-А*

1. Первооткрывателями Антарктиды являются:

- A) Р. Скотт,
- B) И. Крузенштерн, Ю. Лисянский
- C) Ф. Попов, С. Дежнев
- D) Ф. Беллинсгаузен, М. Лазарев

2. Главным итогом путешествия Афанасия Никитина стала книга:

- A) «Земля обетованная»
- B) «Хождение за три моря»
- C) «Первый русский в Америке»
- D) «Записки о Персии»

3. Морской путь в Индию был открыт:

- A) Васко да Гамой
- B) А. Никитиным
- C) X. Колумбом
- D) Ф. Магелланом

4. Первооткрывателем Америки является:

- A) Ф. Магеллан
- B) X. Колумб
- C) Васко. да Гама
- D) Никитин

5. Первое кругосветное плавание совершил:

- A) Васко да Гама
- B) Ф. Магеллан
- C) Ф. Попов
- D) Д. Кук

6. В 1642 были открыты - о. Тасмания, Новая Зеландия, острова из архи-пелагов Тонга и Фиджи.

- A) А. Тасманом
- B) А. Никитиным
- C) X. Колумбом
- D) Ф. Магелланом

7. Доказательства шарообразности Земли собрал, дополнил и обосновал:

- A) Аристотель
- B) Эратосфен
- C) Птолемей
- D) Страбон

8. Одним из представителей географии древнего мира был:

- A) Магеллан
- B) Эратосфен
- C) Бируни
- D) Марко Поло

9. Выдающийся учёный, астроном и математик периода раннего средне-вековья был:

- A) Улугбек
- B) Птолемей
- C) Индриси
- D) Марко Поло

10. Доказал существование огромного Тихого океана, отделяющего Аме-рику от Азии и назвал его

- A) Х. Колумб
- B) Д. Кук
- C) Ф. Магеллан
- D) М. Поло

ИТОГОВЫЙ ТЕСТ

Ганиева Райфа Ахтямовна,

учитель географии, МБОУ «СОШ №8», г. Нефтеюганск

1. Первое кругосветное путешествие совершил:

- A) Ф. Магеллан
- B) Джон Кабот
- C) Д. Кук
- D) Васка да Гама

2. День 21 марта в Северном полушарии называют днем:

- A) летнего солнцестояния
- B) весеннего солнцестояния
- C) весеннего равноденствия
- D) зимнего равноденствия

3. Если численный масштаб карты 1: 100 000, то это означает, что имено-ванный:

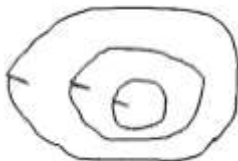
- A) в 1 см - 100 000 м
- B) в 1см - 1 000 км
- C) в 1 см - 1 км
- D) в 1 см – 10 км

4. Азимут – это угол между направлением на:

- A) запад и направлением на объект
- B) север и направлением на объект
- C) юг и направлением на объект
- D) северо-восток и направлением на объект

5. На рисунке изображен(а):

- A) холм
- B) ровное место
- C) гора
- D) впадина



6. Условная линия на карте, соединяющая точки с одинаковой абсолютной высотой:

- A) изохора
- B) изобара
- C) горизонталь
- D) изотерма

7. Параллель, разделяющая земной шар на северное и южное полушарие называется:

- A) экватором
- B) южным тропиком
- C) нулевым меридианом
- D) северным полярным кругом

8. 180° соответствует стороне горизонта:

- A) север
- B) восток
- C) юг
- D) запад

9. Земная кора и верхняя часть мантии называется:

- A) атмосфера
- B) литосфера
- C) биосфера
- D) гидросфера

10. К магматическим горным породам относятся:

- A) нефть и газ
- B) гранит и железная руда
- C) гравий, песок и известняк
- D) железная руда и глина

Итоговый тест

Холодкова Светлана Валерьевна,

учитель географии, ГБОУ СОШ №1133

1. Водная оболочка Земли называется:

- A) биосферой
- B) атмосферой
- C) гидросферой
- D) литосферой

2. К частям Мирового океана не относится:

- A) море
- B) залив
- C) озеро
- D) пролив

3. Самым большим по площади океаном является:

- A) Тихий
- B) Атлантический
- C) Индийский
- D) Северный Ледовитый

4. Часть океана, более или менее отделенная от него сушей или поднятия-ми дна, называется:

- A) морем
- B) проливом
- C) шельфом
- D) материковым склоном

5. Моря, незначительно вдающиеся в сушу и расположенные на окраинах материков, называются:

- A) окраинными
- B) внутренними
- C) океаническими
- D) межостровными

6. Как называются участки суши, глубоко вдающиеся в океан?

- A) острова
- B) полуострова
- C) материки
- D) айсберги

7. Какие волны возникают при землетрясении в океане и извержении под-водных вулканов?

- A) зыбь
- B) ветровые
- C) приливные
- D) цунами

8. Какое из перечисленных утверждений является неверным?

- A) вода существует в твердом и жидком состоянии
- B) вода медленнее суши нагревается и остывает
- C) вода участвует в формировании рельефа
- D) вода является составной частью живых организмов

9. Средняя соленость вод Мирового океана составляет:

- A) 40 промилле
- B) 35 промилле
- C) 12 промилле
- D) 10 промилле

10. Определите акваторию, в которой соленость будет выше:

- A) жаркий климат с большим количеством атмосферных осадков, впадают полноводные реки
- B) жаркий засушливый климат, впадают полноводные реки
- C) жаркий засушливый климат, отсутствие реки, впадающих в водоем

11. О каких волнах говорят, что они самые разрушительные и самые вы-сокие?

- A) ветровых
- B) цунами
- C) течениях
- D) штиле

12. Какое направление имеют преимущественно теплые течения?

- A) от полюсов к экватору
- B) вдоль побережья материков
- C) от экватора к полюсам
- D) с запада на восток

13. Для какого из перечисленных заливов характерны самые высокие приливы?

- A) Гижигинская губа
- B) залив Фанди
- C) Гудзонов залив
- D) Гвинейский залив

14. Расставьте океаны Земли в порядке убывания их площади

- A) Индийский
- B) Тихий
- C) Северный Ледовитый
- D) Атлантический

--	--	--	--

15. Установите соответствие между частью Мирового океана и его названием

- 1. залив
- 2. пролив
- 3. канал

-
- A) Мозамбикский
 - B) Панамский
 - C) Персидский

1	2	3
---	---	---

16. Среди перечисленных укажите теплые течения

- A) Гольфстрим
- B) Канарское
- C) Перуанское
- D) Курасио

17. Самым большим полуостровом является:

- A) Камчатка
- B) Аравийский
- C) Лабрадор

18. Найдите в перечне объектов лишнее:

- A) Карибское
- B) Японское
- C) Коралловое
- D) Сомалийское

19. Берингово море является частью океана:

- A) АО
- B) СЛО
- C) ТО
- D) ИО

20. Берингово море является:

- A) окраинным
- B) внутренним
- C) шельфовым

21. Красное море разделяет материки:

- A) Австралию и Антарктиду
- B) Северную и Южную Америку
- C) Африку и Евразию
- D) Евразию и Северную Америку

22. Красное море является:

- A) окраинным
- B) внутренним
- C) изолированным

23. Панамский канал разделяет:

- A) Евразию и Африку
- B) Южную и Северную Америку
- C) Южную Америку и Антарктиду

24. Начало реки:

- A) исток
- B) устье
- C) дельта
- D) русло

25. Внезапный подъем уровня воды в реке:

- A) наводнение
- B) половодье
- C) приток
- D) паводок

26. Узкое воронкообразное устье реки называется:

- A) межень
- B) эстуарий
- C) дельта

27. Водопад Анхель расположен:

- A) в Африке
- B) Южной Америке
- C) Евразии
- D) в Северной Америке

28. Определите, о какой реке идет речь в описании « Самая полноводная река Африки, дважды пересекает экватор, впадает в Атлантический океан:

- A) Амазонка
- B) Нил
- C) Конго
- D) Инд

29. Укажите тип происхождения озерной котловины у озер Байкал, Ис-сык-Куль, Виктория:

- A) вулканическое
- B) тектоническое
- C) остаточное
- D) запрудное

10. Подземной называется вода, находящаяся:

- A) в земной коре
- B) между водоупорными слоями горных пород
- C) в колодцах

11. Высота снеговой линии зависит:

- A) от температуры воздуха в зимнее время
- B) от температуры воздуха в летнее время
- C) от высоты гор
- D) от количества выпадающего снега в горах

12. Какое из утверждений характеризует равнинную реку:

- A) имеет широкое русло и медленное течение
- B) имеет узкую речную долину и медленное течение
- C) имеет широкое русло и быстрое течение
- D) имеет узкую речную долину и быстрое течение

13. Замкнутое, естественного происхождения углубление на поверхности земли, заполненное водой –

- A) море
- B) океан
- C) озеро
- D) болото

14. К бассейну внутреннего стока относится река:

- A) Енисей
- B) Дунай
- C) Волга
- D) Амур

15. Расположите озера в порядке возрастания их площади:

- A) Байкал
- B) Каспийское
- C) Виктория
- D) Чад

16. Какое течение называют «отопительной системой Европы»

- A) Гольфстрим
- B) Гренландское
- C) Западных ветров
- D) Северо-Атлантическое

Воды суши

Добрынина Ольга Иннокентьевна,

учитель географии, МБОУ «Магистральнинская СОШ № 22»

1. Участок земной поверхности, с которого вся вода стекает в реку, называется:

- A) речной долиной
- B) бассейном реки
- C) речной системой
- D) водоразделом

2. Сточными озёрами являются:

- A) те, в которые стекают реки
- B) те, из которых вытекают реки
- C) те, которые расположены вблизи океанов и морей

3. Уровень грунтовых вод зависит от:

- A) состава горных пород
- B) количества атмосферных осадков
- C) температуры воздуха на поверхности суши
- D) растительного покрова на данном участке суши

4. Водоупорные слои состоят из:

- A) глины и гранита
- B) глины и песка
- C) песка и гальки

5. Особенностью межпластовых вод является:

- A) водоупорные пласты сверху и снизу
- B) имеют один водоносный слой
- C) могут иметь несколько водоносных слоев
- D) имеют водоупорные пласты только сверху

6. Котловина озера Байкал образовалась вследствие:

- A) медленного опускания обширных участков земной коры
- B) образования гигантских трещин в земной коре
- C) грандиозного обвала, вызванного землетрясением

7. Самый низкий уровень воды в реке – это:

- A) паводок
- B) половодье
- C) межень

8. Причиной образования болот является:

- A) обмеление озёр
- B) наличие вблизи поверхностного водоупорного слоя
- C) засушливый климат
- D) выпадение осадков

9. Самая длинная река в мире:

- A) Волга
- B) Амазонка
- C) Нил
- D) Конго

10. Установите соответствие:

Материк

- A) Евразия
- B) Африка

Река 1.

- Нил
- 2. Конго
- 3. Волга
- 4. Лена
- 5. Амазонка
- 6. Амур

11. Высота самого высокого в мире водопада Анхель:

- A) 3000 м
- B) 1054 м
- C) 1540 м
- D) 100 м

Итоговый тест

*Огнева Ольга Ивановна,
учитель географии,
МБОУ СОШ №15*

1. Наука о съёмке местности:

- A) картография
- B) география
- C) геология
- D) топография

2. Твёрдой оболочкой Земли является:

- A) атмосфера
- B) биосфера
- C) гидросфера
- D) литосфера

3. Излившаяся на земную поверхность глубинная масса называется:

- A) кратером
- B) лавой
- C) магмой
- D) жерлом

4. Количество водяного пара в атмосфере зависит от:

- A) температуры воздуха
- B) давления
- C) тумана
- D) направления ветра

5. Течение считается тёплым, если его температура:

- A) выше +20
- B) выше температуры окружающей среды
- C) выше +10
- D) выше +32

6. От чего зависит сила ветра:

- A) от близости океанов и морей
- B) от разницы давления
- C) от скорости движения Земли
- D) от времён года

7. Какие из перечисленных государств расположены на островах:

- A) Великобритания и Индия
- B) Мадагаскар и Филиппины
- C) Сомали и Корея
- D) Куба и США

8. Установите соответствие между географическим объектом и его названием:

- 1) государство
- 2) пролив
- 3) остров
- 4) материк

-
- A) Берингов
 - B) Польша
 - C) Австралия
 - D) Мадагаскар

9. Воздушной оболочкой Земли является:

- A) биосфера
- B) литосфера
- C) гидросфера
- D) атмосфера

10. Подземные воды, содержащие растворённые вещества и газы, назы-ваются:

- A) артезианскими
- B) грунтовыми
- C) минеральными
- D) солоноватыми

11. Муссонами называются:

- A) постоянно дующие ветры в одном направлении
- B) ветры, меняющие направление дважды в год по сезонам
- C) ветры, дующие с моря на сушу
- D) ветры, дующие с суши на море

12. С высотой давление:

- A) повышается
- B) понижается
- C) сначала понижается, затем повышается
- D) не изменяется

13. Причиной неравномерного распределения солнечного света по земной поверхности является:

- A) удалённость Земли от Солнца
- B) шарообразность Земли
- C) мощный слой атмосферы
- D) вращение Земли вокруг Солнца

14. Шельфом называется:

- A) береговая линия
- B) материковая отмель
- C) материковый склон
- D) дно океана

15. Первая кругосветная экспедиция была организована:

- A) Америго Веспуччи
- B) Фернандо Магелланом
- C) Христофором Колумбом
- D) Васко да Гама

Мировой океан и его части

*Ефимова Татьяна Семеновна, учитель географии
высшей квалификационной категории, МБОУ СОШ
№ 45 г. Новосибирска*

1. Крупнейшее море Мирового океана по занимаемой площади:

- A) Японское
- B) Карское
- C) Северное
- D) Филиппинское

2. Узкое водное пространство, разъединяющее участки суши и соединяющее водоёмы или их части – это:

- A) залив
- B) пролив
- C) море
- D) бухта

3. Море, находящееся в тропических широтах:

- A) Аравийское
- B) Охотское
- C) Балтийское
- D) Баренцево

4. Залив, температура воды в котором наиболее низкая:

- A) Гудзонов
- B) Бенгальский
- C) Бискайский
- D) Персидский

5. Крайним морем не является:

- A) море Лаптевых
- B) Карибское
- C) Коралловое
- D) Балтийское

6. Самое теплое и самое солёное море Мирового океана:

- A) Черное
- B) Карибское
- C) Красное
- D) Южно-Китайское

7. Залив, омывающий берега Африки:

- A) Мексиканский
- B) Бенгальский
- C) Бискайский
- D) Гвинейский

8. Межконтинентальным морем является:

- A) Аравийское
- B) Карибское
- C) Тасманово
- D) Охотское

9. Государство, омываемое морями Атлантического океана:

- A) Италия
- B) Китай
- C) Австралия
- D) Перу

10. Море, в течение всего года не закрывающееся льдом:

- A) Берингово
- B) Чукотское
- C) Средиземное
- D) Карское

11. Самый широкий пролив Мирового океана:

- A) Дрейка
- B) Берингов
- C) Гибралтарский
- D) Гудзонов

12. Крупнейшее озеро в мире, которое обозначено на географической кар-те как море, за его размеры:

- A) Средиземное
- B) Каспийское
- C) Балтийское
- D) Японское

- 13. Стихийное бедствие разрушительной силы, несущее угрозу здоровью и жизни людей, формируемое в бездне Мирового океана:**
- A) прилив
 - B) наводнение
 - C) цунами
 - D) течение
- 14. Море, береговая линия которого наиболее сильно изрезана:**
- A) Средиземное
 - B) Красное
 - C) Аравийское
 - D) Баренцево
- 15. Изменения положения Луны являются причиной возникновения в Мировом океане:**
- A) шторма
 - B) течений
 - C) цунами
 - D) приливов и отливов

Атмосфера

Ломова Галина Геннадьевна,

учитель географии, МБОУ Рощинская СОШ №17

- 1. Как называется воздушная оболочка Земли:**
- A) гидросфера
 - B) биосфера
 - C) атмосфера
 - D) литосфера
- 2. Отметьте самый нижний слой атмосферы:**
- A) мезосфера
 - B) стратосфера
 - C) верхние слои атмосферы
 - D) тропосфера
- 3. Прибор для измерения температуры:**
- A) термометр
 - B) спидометр
 - C) анемометр
 - D) барометр

4. Область высокого давления – это:

- A) испарение
- B) антициклон
- C) циклон
- D) атмосферный фронт

5. Прибор для измерения давления:

- A) спидометр
- B) анемометр
- C) альтимометр
- D) барометр

6. Состояние тропосферы в данном месте и в данное время называется:

- A) погода
- B) ураган
- C) климат
- D) дождь

7. Метеорология – это наука, которая изучает:

- A) реки
- B) погоду
- C) рельеф
- D) ледники

8. Область низкого давления – это:

- A) испарение
- B) атмосферный фронт
- C) циклон
- D) антициклон

9. По каким картам составляют прогноз погоды?

- A) по климатическим картам
- B) по синоптическим картам
- C) по карте осадков
- D) по физическим картам

10. Ветер, меняющий своё направление 2 раза в год:

- A) бриз
- B) восточные ветры
- C) муссон
- D) западные ветры

ИТОГОВЫЙ ТЕСТ

Васильева Елена Тихоновна,
учитель географии, МБОУ СОШ №21, г. Ковров

Тестовая часть (1 балл за каждый правильный ответ)

1. Наука, изучающая природу земной поверхности, это:

- A) физическая география
- B) экономическая география
- C) ботаника
- D) естествознание

2. Первое кругосветное путешествие совершил:

- A) М. Поло
- B) Ф. Магеллан
- C) Х. Колумб
- D) Ф. Беллинсгаузен

3. Антарктида была открыта:

- A) Колумбом
- B) Магелланом
- C) Бехаймом
- D) Беллинсгаузен

4. Как называют себя народы, живущие на севере в старые времена?

- A) Беломорцы
- B) Северяне
- C) Поморы
- D) Мерзляки

5. Русский путешественник Афанасий Никитин совершил «хождение за три моря». Какие?

- A) Каспийское, Черное, Средиземное
- B) Каспийское, Черное, Аравийское
- C) Адриатическое, Средиземное, Аравийское
- D) Адриатическое, Средиземное, Азовское

6. Умение находить стороны горизонта называется:

- A) съёмка местности
- B) ориентирование
- C) определение азимута
- D) определение географических координат

7. Нивелир - это прибор, служащий для измерения ...

- A) ...небольших высот
- B) ...небольших глубин
- C) ...направления сторон горизонта
- D) ...среднего уровня моря

8. Каким будет именованный масштаб, если численный – 1:5 000 000?

- A) 1 см – 50 000 км.
- B) 1 см – 500 км.
- C) 1 см – 5000 км.
- D) 1 см – 50 км.

9. Переведите именной масштаб в 1 см 200 км в численный:

- A) 1:100 000
- B) 1:200 000
- C) 1:20 000 000
- D) 1:10 000 000

10. Легкое парусное судно в Индийском океане терпит бедствие. Его коор-динаты – 20° ю. ш. и 40 в. д. С берега, какого материка может быстрее подоспеть помощь?

- A) Евразии
- B) Австралии
- C) Африки
- D) Южной Америки

11. Какой материк пересекают все меридианы?

- A) Евразию
- B) Африку
- C) Южную Америку
- D) Антарктиду

12. Что такое горизонталь?

- A) Линия, соединяющая точки с одинаковыми глубинами
- B) Линия, соединяющая точки с одинаковой абсолютной высотой
- C) Горизонтальные линии, образующие градусную сеть
- D) Линии, соединяющие точки с одинаковой температурой

13. Длина экватора Земли составляет:

- A) 40075,7 км
- B) 6378 км
- C) 6357 км
- D) 20033 км

14. Выберите верный вариант:

- A) Материковая земная кора составляет 5 – 10 км
- B) Под океанами земная кора толще материковой
- C) Мощность земной коры везде одинакова
- D) Материковая земная кора толще океанической

15. Литосфера – это:

- A) земная кора и верхний слой мантии до глубины 150 – 200 км
- B) земная кора и мантия
- C) земная кора
- D) земная кора, мантия и ядро

16. Что изображается на контурных картах?

- A) Рельеф различных территорий
- B) Положение и название различных стран, городов
- C) Положение и название рек, озёр, морей
- D) Только очертания материков, морей, озёр, рек, положение городов

17. Земной шар состоит из трёх частей: ядра, мантии и земной коры. Ка-кая из частей самая тонкая?

- A) Ядро
- B) Мантия
- C) Земная кора
- D) Все одинаковой толщины

18. Нулевой меридиан проходит через город:

- A) Лондон
- B) Париж
- C) Берлин
- D) Москва

19. Как называется форма Земли?

- A) Шар
- B) Эллипсоид
- C) Параболоид
- D) Геоид

20. Как называется международный север?

- A) Вест
- B) Ост
- C) Зюйд
- D) Норд

21. Кто первый погрузился в Марианскую впадину?

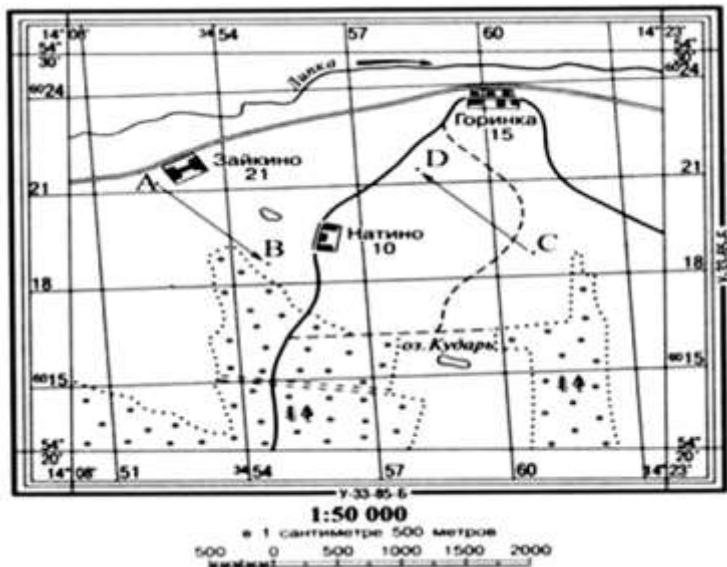
- A) Жак ив Кусто
- B) Жак Пикар

- С) Жан Жак Руссо
- Д) Демис Руссо

22. Наука о горных породах и минералах:

- А) Картография
- В) География
- С) Топография
- Д) Геология

23. Определите азимут из точки А на точку В (рис 1).



- А) 180°
- В) 135°
- С) 90°
- Д) 360°

24. О чем идет речь в тексте?

Бывает в природе серого, розового, красного цвета. Его часто можно увидеть в городах: им облицованы стены некоторых зданий, из него построены набережные рек, изготовлены постаменты для памятников. Это горная порода, состоящая из таких минералов, как полевой шпат, кварц и слюда.

- А) Мрамор
- В) Гранит
- С) Яшма
- Д) Родонит

Атмосфера

Фурманова Валентина Ивановна, учитель
географии, МБОУ «Бехтеевская СОШ»
Корочанского р-на, Белгородской обл.

1. Верхняя граница тропосферы проходит на высоте:

- A) 18 км
- B) 55 км
- C) 80 км
- D) 25 км

2. Укажите, какой ниже из пунктов относится к тропосфере:

- A) Нижний, самый плотный слой воздушной оболочки, где сосредоточено 70-90% всей массы воздуха и почти весь водяной пар;
- B) Слой воздушной оболочки от 50-55 километров до 1000 и более километров, который защищает обитателей земли от чрезмерной радиации. Здесь возникает полярное сияние.
- C) Температура воздуха растёт с высотой и у верхней границы близка к 0.
- D) Воздух сильно ионизирован. Температура воздуха на высоте 300 км достигает + 1200С

3. Атмосферное давление при подъёме вверх:

- A) не изменяется
- B) повышается
- C) повышается на каждые 10,5 метров на 1 мм. рт. столба
- D) понижается на каждые 10,5 метров на 1 мм. рт. столба

4. Простейший и самый древний астрономический инструмент, по длине тени которого определяется высота Солнца и время дня:

- A) барометр
- B) альтиметр
- C) гигрометр
- D) гномон

5. В каких поясах освещённости чётко выражены времена года:

- A) в северном холодном поясе освещённости
- B) в южном полярном поясе освещённости
- C) в умеренных поясах освещённости
- D) в жарком поясе освещённости

6. Сила ветра зависит от:

- A) температуры воздуха
- B) атмосферных осадков

-
- C) направления ветра
 - D) разницы в атмосферном давлении

7. В каком слое атмосферы образуются облака и выпадают осадки:

- A) во всех слоях атмосферы
- B) в стратосфере
- C) в верхних слоях атмосферы
- D) в тропосфере

8. Определите лишнее слово:

- A) бриз
- B) дождь
- C) муссон
- D) ветер

9. Как называется изменение температуры воздуха в течение суток:

- A) изотерма
- B) амплитуда
- C) суточный ход температуры
- D) температурная ступень

10. День летнего солнцестояния:

- A) 21 марта
- B) 22 июня
- C) 23 сентября
- D) 22 декабря

Литосфера

*Драгунова Наталья Львовна,
учитель географии, МБОУ
гимназия №11, г. о. Самара*

1. Как называется оболочка, которая является верхней частью литосферы Земли?

- A) верхняя мантия
- B) земная кора
- C) ядро
- D) мантия

2. Какой слой присутствует в материковой земной коре, но отсутствует в океанической?

- A) гранитный

- В) базальтовый
- С) осадочный

3. Какова максимальная мощность земной коры?

- А) 8 км
- В) 80 км
- С) 800 км
- Д) 8000 км

4. Толщина мантии Земли составляет:

- А) 80 км
- В) 2900 км
- С) 3500 км
- Д) 1800 км

5. Укажите долю мантии от всего объема Земли.

- А) 1/2
- В) 3/4
- С) 5/6
- Д) 2/3

6. Выберите из перечня пород метаморфического происхождения.

- А) гранит
- В) глина
- С) нефть
- Д) мрамор

7. Низменности на географических картах обозначаются:

- А) желтым цветом
- В) зеленым
- С) коричневым
- Д) голубым

8. Прибор для измерения силы землетрясения называется:

- А) барометр
- В) эхолот
- С) сейсмограф
- Д) термометр

9. Самая глубокая скважина мира пробурена в России на:

- А) Кольском полуострове
- В) Полуострове Ямал
- С) Полуострове Таймыр
- Д) Чукотском полуострове

10. Вулкан Фудзияма расположен в:

- A) Греции
- B) Италии
- C) России
- D) Японии

11. Картина К. Брюллова «Последний день Помпеи» посвящена извержению вулкана:

- A) Эльбрус
- B) Везувий
- C) Гекла
- D) Орисаба

12. Высшая точка какой горной системы имеет координату 31° с.ш. 89° в.д.:

- A) Анд
- B) Кордильер
- C) Гималаев
- D) Альп

13. Название «гейзер» пришло из Исландии и в переводе означает:

- A) выбрасывать
- B) хлынуть
- C) нагревать
- D) сопутствовать

14. На достаточно увлажненных холмистых равнинах, сложенных рыхлыми горными породами, временные потоки воды силой своего течения образуют эрозионные формы рельефа:

- A) барханы
- B) карьеры
- C) овраги
- D) речные долины

15. Часть материковой земной коры, продолжающаяся под океаническими водами до глубины 100-200 м, называется:

- A) материковым склоном
- B) материковой отмелью
- C) океаническим желобом
- D) океанической котловиной

Атмосфера

Милакова Татьяна Александровна,
учитель географии, ГБОУ СОШ
№69 им. Б. Ш. Окуджавы

1. Какой слой атмосферы называют «кухней погоды»?

- A) стратосфера
- B) тропосфера
- C) мезосфера
- D) экзосфера

2. Как называют линии, соединяющие на карте точки с одинаковыми тем-пературами?

- A) изобары
- B) изогипсы
- C) изотермы
- D) горизонтали

3. Самая низкая температура воздуха на Земле - 89,2 С была зарегистри-рована:

- A) Австралия
- B) Северная Америка
- C) Гренландия
- D) Антарктида

4. Укажите прибор, с помощью которого измеряется температура воздуха:

- A) гигрометр
- B) сейсмограф
- C) анемометр
- D) термометр

5. Какой газ в составе атмосферы называют «безжизненным»?

- A) азот
- B) углекислый газ
- C) озон
- D) кислород

6. На метеорологических станциях проводят наблюдение

- A) за метеорами и метеоритами
- B) за искусственными спутниками Земли и космонавтами
- C) за планетами Солнечной системы
- D) за процессами, происходящими в тропосфере для прогнозирования погоды

7. При подъеме в гору температура воздуха с каждым километром

- A) понижается на 1 градус
- B) повышается на 1 градус
- C) понижается на 6 градусов
- D) повышается на 6 градусов

8. Укажи верные утверждения:

- A) Солнечные лучи нагревают не атмосферу, а поверхность Земли
- B) Во всех слоях атмосферы температура с высотой понижается
- C) Полярные сияния возникают в нижних слоях атмосферы
- D) Прибор для измерения атмосферного давления называется термометр

9. Расставьте участки земной поверхности в порядке увеличения оказываемого на них атмосферного давления в зависимости от их абсолютной высоты

- A) город Санкт-Петербург
- B) гора Народная
- C) гора Эльбрус
- D) город Москва

10. Количество света и тепла, получаемого земной поверхностью по мере удаления от экватора

- A) не изменяется
- B) постепенно убывает
- C) постепенно увеличивается
- D) увеличивается до полярных широт, а потом постепенно убывает

Литосфера. Горные породы

*Замкова Оксана Александровна,
учитель географии, МАОУ СОШ №
102 г. Нижнего Новгорода*

1. Оболочка Земли, включающая земную кору и верхнюю мантию, называется:

- A) термосферой
- B) астеносферой
- C) литосферой
- D) гидросферой

2. При движении от ядра к земной коре температура:

- A) повышается
- B) не изменяется

- С) понижается
- D) по-разному

3. Мощность земной коры на материке составляет:

- A) 5-15 км
- B) 15-100 км
- C) 10-60 км
- D) 1-5 км

4. Полезные ископаемые - это:

- A) вещества земной коры, используемые человеком
- B) твёрдые вещества земной коры, используемые человеком
- C) жидкие вещества земной коры, используемые человеком
- D) вещества, которые не используются человеком

5. Из твёрдых материалов и горных пород состоит:

- A) мантия
- B) ядро
- C) земная кора
- D) только часть земной коры

6. Магматические горные породы образовались в результате:

- A) накопления животных остатков
- B) застывания лавы
- C) разрушения твёрдых пород
- D) повышения давления и высоких температур на большой глубине

7. К метаморфическим горным породам относится:

- A) торф
- B) кварц
- C) базальт
- D) глина

8. Какая из горных пород используется для получения электроэнергии:

- A) базальт
- B) каменный уголь
- C) каменная соль
- D) кварцит

9. Самая глубокая скважина для изучения земной коры находится:

- A) на полуострове Чукотка
- B) на острове Новая земля
- C) на Кольском полуострове
- D) на Скандинавском полуострове

10. Найдите лишнюю горную породу:

- A) мел
- B) кварцит
- C) глинистый сланец
- D) мрамор

Географическая оболочка Земли

Шамшина Татьяна Валериевна,

учитель географии, МКОУ

Аннинская СОШ №1

1. Компоненты природы в географической оболочке:

- A) растительность, животный мир, почва, воды, климат
- B) растительность, животный мир, рельеф и горные породы, почва, воды, кли-мат
- C) растительность, животный мир, рельеф и горные породы, почва, климат
- D) растительность, животный мир, почва, воды, климат

2. Географическая оболочка – закономерное сочетание взаимосвязанных оболочек:

- A) литосферы, атмосферы, гидросферы и биосферы
- B) литосферы, гидросферы и биосферы
- C) литосферы, атмосферы, гидросферы
- D) литосферы, атмосферы и биосферы

3. Пример, который подтверждает влияние климата на формирование ре-льефа:

- A) Перепады температуры разрушают горные породы
- B) В лесу летом прохладнее, чем на открытой местности
- C) От плодородия почвы зависит богатство флоры
- D) Чем выше в горы, тем холоднее

4. Круговорот воды в природе связывает оболочки:

- A) гидросферу, атмосферу и биосферу
- B) гидросферу, биосферу и литосферу
- C) атмосферу, биосферу и литосферу
- D) гидросферу, атмосферу и литосферу

5. В.В. Докучаев открыл основной закон географии, который называется:

- A) закон всемирного тяготения
- B) закон высотной поясности

- С) закон географической (широтной) зональности
- Д) закон географической оболочки

6. Территория, в пределах которой существует определенное закономерное сочетание взаимосвязанных компонентов природы:

- А) природный комплекс
- В) географическая оболочка
- С) широтная зональность
- Д) высотная поясность

7. Направление, в котором происходит смена природных зон на Земле:

- А) с севера на юг
- В) от экватора к полюсам
- С) с запада на восток
- Д) от нулевого меридиана к 180-му меридиану

8. Природная зона – это крупный природный комплекс, обладающий общностью:

- А) растительного и животного мира
- В) климата, почв, растений и животных
- С) климатических условий и типа растительности
- Д) температурных условий и увлажнения, почв, растительного и животного мира

9. Соответствие между компонентами природного комплекса и объектами природы:

- А) климат
- В) животный мир
- С) рельеф
- Д) горные породы
- 1) звери, рыбы, насекомые
- 2) атмосферные вихри, осадки
- 3) гранит, песок, глина
- 4) овраг, горный склон

10. Природные комплексы, которые являются природными зонами:

- А) тундра
- В) пустыня
- С) болото
- Д) луг

11. Природная зона, в которой наблюдается самый разнообразный видовой состав животных и растений:

- А) тропические пустыни
- В) зона тундры

-
- С) степная зона
 - Д) влажные экваториальные леса

12. Природные зоны, наиболее измененные под влиянием хозяйственной деятельности человека:

- А) пустыни и полупустыни
- В) Тайга и смешанные леса
- С) степи и лесостепи
- Д) тундра и лесотундра

13. Виды хозяйственной деятельности людей, которые наносят наибольший вред природным комплексам:

- А) чрезмерный выпас скота
- В) создание прудов
- С) посадка искусственных насаждений
- Д) распашка земель

14. Самая северная природная зона, расположенная в условиях крайне сурового климата:

- А) арктическая пустыня
- В) антарктическая пустыня
- С) тундра
- Д) лесотундра

15. Коренные жители тундры вынуждены вести кочующий образ жизни, так как:

- А) занимаются собирательством дикорастущих плодов
- В) стада северных оленей перемещаются на большие расстояния в поисках пастбищ
- С) занимаются охотой вдали от дома
- Д) их главным занятием является рыболовство

16. Природная зона, которая занимает наибольшую площадь России:

- А) тайга
- В) степь
- С) тундра
- Д) пустыня

17. Соответствие между представителями растительного и животного мира и природной зоной:

- А) тик, сандаловое дерево, слон, бык
- В) береза, дуб, лось, лиса
- С) ленивец, горилла, колибри, красное дерево
- Д) рысь, россомаха, ель, пихта

- 1) смешанный и широколиственный лес
- 2) тайга
- 3) муссонный лес
- 4) влажный экваториальный

18. Природная зона низких широт в субэкваториальном, тропическом и субтропическом поясах Северного и Южного полушарий. Занимает около 40 % территории Африки (к югу от Сахары), распространена в Южной и Центральной Америке, Юго-Восточной Азии, Австралии:

- A) пустыня
- B) степь
- C) саванна
- D) муссонный лес

19. Вид хозяйственной деятельности, без которого невозможно заниматься земледелием в пустынных и полупустынных областях Земли

- A) орошение полей
- B) осушение земель
- C) борьба с оврагами
- D) внесение удобрений

20. Значение органического мира Мирового океана для человека:

- A) добыча полезных ископаемых со дна океана
- B) использование и развитие морского транспорта
- C) изготовление лекарств
- D) являются ценными продуктами питания

Атмосфера

*Мосина Марина Федоровна,
учитель географии, МБОУ
«Гатчинская СОШ №1»*

1. Определите процент содержания углекислого газа в атмосфере Земли:

- A) 21%
- B) 78%
- C) 0,03%
- D) 0.94%

2. Амплитуда температур – это:

- A) сумма максимальной и минимальной температуры воздуха за определенный период
- B) средняя температура воздуха за сутки

-
- C) разность между максимальной и минимальной температурой воздуха
 - D) средняя многолетняя температура воздуха

3. В каком из приведенных вариантов максимальная амплитуда температура?

- A) 18°C и 4°C
- B) -17°C и -6°C
- C) 4°C и -6°C
- D) 4°C и -19°C

4. В каком варианте правильно показано как дует ветер?

- A) 762 мм рт. ст. → 759 мм рт. ст.
- B) 759 мм рт. ст. → 764 мм рт. ст.
- C) 760 мм рт. ст. → 761 мм рт. ст.
- D) 764 мм рт. ст. → 770 мм рт. ст.

5. Какой вклад в изучение атмосферы внес итальянский ученый Эвандже-листа Торичелли?

- A) изобрел барометр-анероид
- B) предложил шкалу измерения температуры воздуха
- C) предложил шкалу измерения скорости ветра
- D) изобрел ртутный барометр

6. Какова температура воздуха на вершине горы высотой 5 км, если у ее подножья температура воздуха составила 18°C?

- A) 20°C
- B) -12°C
- C) -20°C
- D) 12°C

7. Как называется прибор для измерения влажности воздуха

- A) анемометр
- B) гигрометр
- C) барометр
- D) термометр

8. Определите вид атмосферных осадков, выпадающий из воздуха:

- A) иней
- B) град
- C) дождь
- D) снег

9. Что такое «озоновая дыра»?

- A) Отсутствие слоя озона над некоторыми районами Земли
- B) Участки атмосферы, где отсутствует озон

- С) Избыточное содержание озона над отдельными территориями Земли
- Д) Утончение озонового слоя над отдельными территориями Земли

10. Состояние тропосферы в данной местности и в данное время называется:

- А) климатом
- В) атмосферой
- С) облачностью
- Д) погодой

Земля как планета

*Афанасьева Ольга Анатольевна, учитель географии, МБОУ
лицей №1 г. Усмани Липецкой области им. Героя Советского
Союза Б. А. Котова*

1. В состав Солнечной системы входят:

- А) 5 планет
- В) 7 планет
- С) 8 планет
- Д) 9 планет

2. Географическая широта это -

- А) расстояние от экватора до точки
- В) расстояние от нулевого меридиана до точки
- С) расстояние от нулевого меридиана до экватора
- Д) расстояние от экватора до 180 меридиана

3. Долгота бывает:

- А) северная и восточная
- В) западная и восточная
- С) южная и северная
- Д) северная и западная

4. Какое максимальное значение имеет широта:

- А) 60 градусов
- В) 90 градусов
- С) 180 градусов
- Д) 360 градусов

5. День 22 июня называют:

- А) день весеннего равноденствия
- В) день летнего солнцестояния

-
- С) день летнего равноденствия
 - Д) день зимнего солнцестояния

6. Параллель на карте имеющие координаты 0 градуса долготы называются:

- А) тропики
- В) экватор
- С) полярные круги
- Д) нулевой меридиан

7. Параллели показывают направление:

- А) север-юг
- В) запад-восток
- С) север-запад
- Д) юг-восток

Задание повышенного уровня (оцениваются 16)

8. Выберите верное утверждение.

- А) Времена года в Северном и Южном полушарии не совпадают
- В) Времена года в Северном и Южном полушарии совпадают
- С) В Северном полушарии всегда зима, а в Южном лето
- Д) В Северном полушарии всегда лето, а в Южном зима

9. Выберите верное утверждение. Северный тропик имеет широту:

- А) 66,5 градусов с.ш.
- В) 23,5 градусов с.ш.
- С) 66 градусов с.ш.
- Д) 23 градусов с.ш.

10. Установите соответствие между датой и положением Солнце в зените над Южным тропиком.

- А) 21 марта
- В) 22 июня
- С) 23 сентября
- Д) 22 декабря

Задание высокого уровня (оцениваются 16)

11. О каком поясе освещенности говорится в описании?

Данный пояс освещенности в течение всего года получает большое количество тепла и света. На параллелях, ограничивающих пояс, солнце бывает в зените по одному разу в год, а между данными параллелями – по два.

- А) Северный полярный

- В) Тропический
- С) Северный умеренный
- Д) Южный умеренный

Гидросфера

Ковригина Татьяна

Владимировна, учитель

географии, МОУ Пятницкая ООШ

1. Гидросфера – это:

- А) водная оболочка Земли
- В) воздушная оболочка Земли
- С) земная кора
- Д) живая оболочка

2. Самый большой и глубокий океан

- А) Атлантический
- В) Тихий
- С) Северный Ледовитый
- Д) Индийский

3. Пролив, соединяющий Средиземное море с Атлантическим океаном

- А) Берингов
- В) Суэцкий
- С) Дрейка
- Д) Гибралтарский

4. Уникальное море без берегов

- А) Красное
- В) Саргассово
- С) Балтийское
- Д) Средиземное

5. Самое солёное море

- А) Берингово
- В) Японское
- С) Жёлтое
- Д) Красное

6. Участок суши, со всех сторон окружённый водой

- А) Остров
- В) Полуостров

-
- С) Залив
 - Д) Пролив

7. Самая длинная река мира

- А) Янцзы
- В) Амазонка
- С) Нил
- Д) Волга

8. Самое солёное озеро

- А) Байкал
- В) Ньяса
- С) Мёртвое
- Д) Танганьика

9. Какое из утверждений верно?

- А. Минеральные воды – это подземные воды, содержащие соль
 - Б. Горные реки имеют спокойное и медленное течение
- А) оба верно
 - В) оба неверно
 - С) верно только А
 - Д) верно только Б

10. Установите соответствие:

	река	материк
1.	Конго	А. Евразия
2.	Амазонка	Б. Северная Америка
3.	Енисей	В. Южная Америка
4.	Миссисипи	Г. Африка

11. Как называется низкий уровень воды в реке:

- А) паводок
- В) пойма
- С) режим
- Д) межень

12. Причина приливов и отливов

- А) ветер
- В) притяжение Луны
- С) землетрясение
- Д) человек

География Краснодарского края

Левковец Т.Ю.,

учитель географии, МБОУ СОШ №4, г-к Анапа

1. Чтобы попасть на С из Анапы, нужно двигаться по азимуту:

- A) 0 градусов
- B) 43 градуса
- C) 90 градусов
- D) 340 градусов

2. Западнее остальных расположен объект:

- A) Ставропольская возвышенность
- B) г. Ачишхо
- C) мыс Тузла
- D) Цемесская бухта

3. К группе осадочных горных пород органического происхождения от-носится:

- A) глина
- B) щебень
- C) мел
- D) песок

4. Азовское и Чёрное море соединяет:

- A) Берингов пролив
- B) Гибралтарский пролив
- C) Керченский пролив
- D) Магелланов пролив

5. К рекам Черноморского побережья не относят:

- A) Сочи
- B) Челбас
- C) Мзымта
- D) Псоу

6. Какая река не впадает в Азовское море:

- A) Бейсуг
- B) Соська
- C) Кирпили
- D) Туапсе

7. Из перечисленных объектов полуостровом является:

- A) Ейский
- B) Таманский

-
- C) Таганрогский
 - D) Темрюкский

8. Группа альпинистов, совершив восхождение на самую высокую вершину Краснодарского края г. Цахвоа (3345,9 м), начала спуск вниз. Температура воздуха составляла -6°C . Какая температура воздуха будет у подножия горы (для расчётов её высоту примите за 3 км)?

- A) $+18^{\circ}\text{C}$
- B) -12°C
- C) $+6^{\circ}\text{C}$
- D) $+12^{\circ}\text{C}$

9. Южный ветер – это

- A) ветер, дующий с Ю на С
- B) ветер, дующий с С на Ю
- C) тёплый ветер
- D) ветер с Чёрного моря

10. При измерении показателей погоды не используют прибор:

- A) гигрометр
- B) нивелир
- C) барометр
- D) флюгер

Гидросфера

Николаева Розалия Васильевна,

учитель географии, МКОУ «Люксюгунская ООШ»

1. Самое большое скопление воды на земной поверхности, основная часть гидросферы:

- A) море
- B) океан
- C) залив
- D) пролив

2. Самый широкий пролив на Земле:

- A) Гибралтарский
- B) Магелланов
- C) Дрейка
- D) Мозамбикский

3. Океаническая вода замерзает при температуре:

- A) -2°C
- B) -1°C

С) – 3°C

Д) 0°C

4. Самое мощное течение во всем Мировом океане – это течение:

А) Гольфстрим

В) Лабрадорское

С) Западных Ветров

Д) Северо-Тихоокеанское

5. Кто изобрел акваланг:

А) Геродот

В) Жак Ив Кусто

С) Мартин Бехайм

Д) Фернан Магеллан

6. Река, вытекающая из озера Байкал:

А) Лена

В) Волга

С) Ангара

Д) Обь

7. Начало реки – это ее ...:

А) Исток

В) Устье

С) Водораздел

Д) Бассейн

8. Самое соленое озеро на Земле:

А) Каспийское море

В) Аральское море

С) Мертвое море

Д) Красное море

9. Как называется искусственная река?

А) Канал

В) Водоохранилища

С) Пруд

Д) Водопад

10. Волны, образующиеся при извержении подводных вулканов и землетрясениях - это:

А) приливы

В) отливы

С) цунами

Д) течения

Тесты по географии

7 класс

Входной мониторинг по остаточным знаниям

Никульшина Ильмира Марсовна, учитель географии, МАОУ «СОШ №42», Камчатский край, г. Петропавловск-Камчатский

1. Термин «география» принадлежит греческому учёному

- A) Геродоту
- B) Гомеру
- C) Эратосфену
- D) Аристотель

2. Стороны горизонта определяют при помощи

- A) нивелира
- B) компаса
- C) термометра
- D) линейки

3. Определите, какой из масштабов наибольший

- A) 1 : 1000
- B) 1 : 5000
- C) 1 : 10000
- D) 1 : 500000

4. Превышение точки земной поверхности над другой точкой по отвесной линии называется

- A) относительная высота
- B) абсолютная высота
- C) высота
- D) горизонталь

5. Уменьшенное изображение поверхности Земли на плоскости при помощи условных знаков, называется

- A) рисунок
- B) аэрофотоснимок
- C) географическая карта
- D) схема

6. Географическая широта бывает

- A) западной и северной
- B) западной и южной
- C) южной и северной
- D) западной и восточной

7. Линии, проведенные параллельно экватора называются

- A) параллели
- B) горизонтали
- C) меридианы
- D) изобаты

8. Все неровности земной поверхности образуют

- A) горы
- B) равнины
- C) рельеф
- D) впадины

9. Какую часть земной поверхности занимает Мировой океан

- A) 1/2
- B) 2/5
- C) 3/4
- D) 2/6

Урок-обобщение по Южной Америке

*Иноземцева Елена Александровна,
учитель географии первой
квалификационной категории,
МОАУ «Лицей №6» им. З.Г. Серазетдиновой, город*

Оренбург

Часть А

1. Чему равна площадь материка Южная Америка?

- A) 24,3 млн. км кв.
- B) 18,1 млн. км кв.
- C) 17,8 млн. км кв.
- D) 17,1 млн. км кв.

2. Крайней точкой материка Южная Америка с востока является:

- A) мыс Кабу – Бранку
- B) мыс Париньяс
- C) мыс Горн
- D) мыс Гальинас

3. Какой пролив отделяет Южную Америку от «самого холодного» материка Земли?

- A) Магелланов
- B) Дрейка
- C) Гибралтарский
- D) Лаперуза

4. Русский учёный, изучавший природу материка Южная Америка:

- A) Александр Гумбольдт
- B) Николай Вавилов
- C) Христофор Колумб
- D) Василий Докучаев

5. Самая большая по площади низменность материка Южная Америка:

- A) Амазонская
- B) Лаплатская
- C) Оринокская
- D) Прикаспийская

6. Самая высочайшая точка горной системы Анды:

- A) Чимборасо
- B) Котопахи
- C) Аконкагуа
- D) Льюльяйльяко

7. Что в переводе с языка инков означает слово «анды»?

- A) медные горы
- B) никелевые горы
- C) оловянные горы
- D) золотые горы

8. Какой климатический пояс отсутствует на территории материка?

- A) умеренный
- B) субтропический
- C) тропический
- D) субантарктический

9. Какой океан Земли оказывает существенное влияние на распределение осадков на материке Южная Америка?

- A) Тихий
- B) Атлантический
- C) Южный
- D) Индийский

10. Река Амазонка образуется при слиянии рек:

- A) Мараньон и Укаяли
- B) Мараньон и Мадейра
- C) Мараньон и Риу – Негру
- D) Мараньон и Тапажос

11. Водопад Игуасу расположен на одном из притоков реки:

- A) Ориноко
- B) Парана
- C) Амазонка
- D) Шингу

12. В саванах Южной Америки обитают:

- A) тигры
- B) слоны
- C) пумы
- D) ягуары

13. Эндемиками Южной Америки можно назвать :

- A) шиншиллу
- B) эму
- C) кондора
- D) кенгуру

14. Крупнейшая страна континента по площади:

- A) Аргентина
- B) Чили
- C) Бразилия
- D) Венесуэла

15. Большинство населения континента разговаривает на:

- A) английском языке
- B) испанском языке
- C) португальском языке
- D) французском языке

Часть В

Дать определение:

- 1. Креолы _____
- 2. Метисы _____
- 3. Парамос _____
- 4. Пампа _____
- 5. Самбо _____

Часть С

Заполните пропуски в таблице «Страны и столицы Южной Америки»

№	Страна	Столица
1	Колумбия	
2	Венесуэла	
3	Чили	
4		Кито
5		Монтевидео
6	Аргентина	
7		Джорджтаун
8	Суринам	
9		Асунсьон

Итоговый тест

Ярошенко Елена Алексеевна,

учитель географии, МБОУ СОШ № 10 г. Сальска

ЧАСТЬ А

1. Какой материк пересекается экватором в северной части?
 - A) Северная Америка
 - B) Южная Америка
 - C) Австралия
 - D) Евразия

2. Какой из перечисленных путешественников исследовал внутренние районы Африки?
 - A) Д. Ливингстон
 - B) Дж. Кук
 - C) А. Веспуччи
 - D) А. Макензи

3. Какой материк Земли самый сухой?
 - A) Евразия
 - B) Австралия
 - C) Африка
 - D) Южная Америка

4. Относительно устойчивые и выровненные участки земной коры, лежащие в основании современных материков, - это:

- A) материковые отмели
- B) платформы
- C) сейсмические пояса
- D) острова

5. Какая из перечисленных территорий расположена в пределах сейсмического пояса?

- A) остров Сахалин
- B) острова Новая Земля
- C) полуостров Таймыр
- D) полуостров Ямал

6. Какая из перечисленных горных систем самая протяженная?

- A) Кордильеры
- B) Урал
- C) Альпы
- D) Аппалачи

7. Какой буквой на карте обозначен вулкан Килиманджаро?



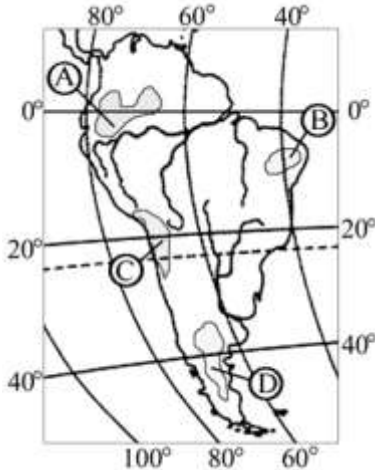
- A) А B) Б C) В D) Г

8. Для какого типа климата умеренного климатического пояса характерны самые низкие зимние температуры?

- A) морского
- B) умеренно-континентального
- C) резко-континентального
- D) муссонного

9. На какой из территорий, обозначенных буквами на карте Южной Америки, среднегодовое количество атмосферных осадков наибольшее?

- A
- B
- C
- D



10. Какое из перечисленных морских течений действует в Тихом океане?

- A) Гольфстрим
- B) Бразильское
- C) Гвинейское
- D) Куроисио

11. В умеренном поясе к югу от лесной зоны расположена зона:

- A) тайги
- B) лесостепей и степей
- C) лесотундр и тундр
- D) высотной поясности

12. Соболь - животное, обитающее в природной зоне:

- A) степей
- B) тайги
- C) пустынь
- D) тундры

13. Укажите ошибку в сочетании «материк - животное».

- A) Африка — гепард
- B) Австралия — вомбат
- C) Южная Америка — пума
- D) Евразия — скунс

-
- 14. Укажите правильный вариант ответа. В Африке — вади, а в Австралии:**
- A) пуны
 - B) крики
 - C) самум
 - D) коала

- 15. Какие координаты имеет самая восточная точка Африки?**
- A) 16° ю.ш.; 3° в.д.
 - B) 10° с.ш.; 51° в.д.
 - C) 51° с.ш.; 11° в.д.
 - D) 16° с.ш.; 3° з.д.

- 16. По карте плотности населения определите, какая из названных территорий заселена больше?**
- A) Европа
 - B) Южная Америка
 - C) Австралия
 - D) север Африки

- 17. Родиной какого культурного растения является Африка?**
- A) кофе
 - B) каучуконосов
 - C) какао
 - D) чая

- 18. Одним из основных современных видов хозяйственной деятельности человека в тундре является:**
- A) заготовка леса
 - B) добыча полезных ископаемых
 - C) разведение скота
 - D) выращивание зерна

ЧАСТЬ В

- 1. Определите, о какой природной зоне говорится:**

«Характерны желтоземные и красноземные почвы. Субтропические вечнозеленые леса и кустарники. Характерные представители животного мира: гепарды, зебры, носороги, слоны».

- 2. Установите соответствие между строением земной коры и рельефом.**

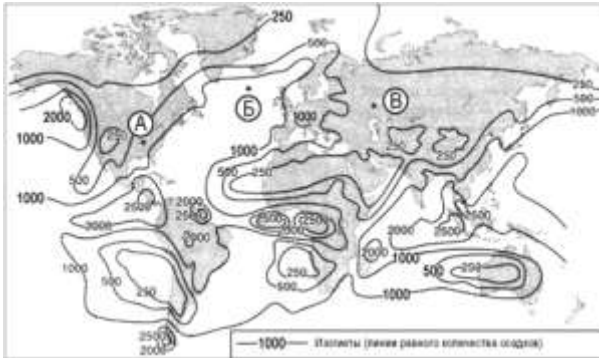
ГОРЫ

- 1) Гималаи
- 2) Урал
- 3) Верхоянский хребет

ВОЗРАСТ СКЛАДЧАТОСТИ

- A. Мезозойский
- Б. Кайнозойский
- В. Герцинский

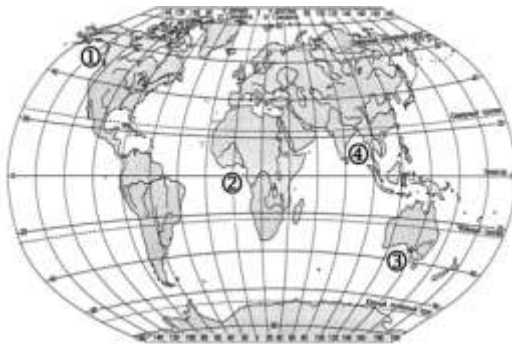
3. С помощью карты сравните среднегодовое количество осадков в точках, обозначенных на карте буквами А, Б, В. Расположите эти точки в порядке увеличения количества осадков, выпадающих в них.



Запишите в таблицу получившуюся последовательность букв. А) А Б) Б В) В Ответ:

--	--	--

4. Установите соответствие между заливом и его расположением на карте, обозначенным цифрой.



ЗАЛИВ	РАСПОЛОЖЕНИЕ НА КАРТЕ
Гвинейский	1) 1
Бенгальский	2) 2
Аляска	3) 3
	4) 4

Запишите в таблицу цифры, соответствующие выбранным ответам.

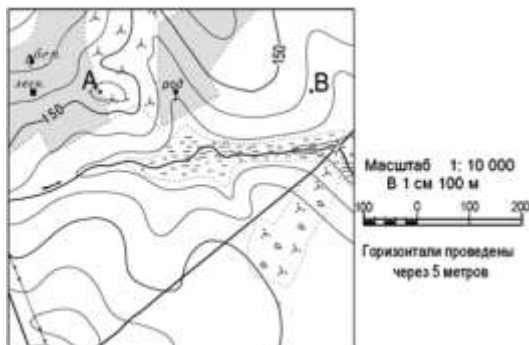
А	Б	В

ЧАСТЬ С

Задания С требуют развёрнутого ответа. Запишите сначала номер задания, а за-тем полный ответ

- 1. Определите по карте расстояние на местности по прямой от родника до дома лесника. Полученный результат округлите до десятков метров. Ответ запишите цифрами.**

Ответ: _____ м.



- 2. Определите страну по ее краткому описанию.**

Это – одна из крупных по площади стран мира, имеет выход к трем океанам. На её территории находится одна из крайних точек материка, на котором она расположена. По земле граничит лишь с одной страной. Большая часть ее населения расположена вдоль южной границы. Страна богата разнообразными полезными ископаемыми, а также лесными, земельными, водными ресурсами.

ИТОГОВЫЙ ТЕСТ

Макарова Антонина Федоровна,

учитель географии, МБОУСОШ №19 г. Тулы

- 1. К какой группе карт по масштабу относится карта, построенная в масштабе 1: 500 000?**

- А) мелкомасштабные
- В) среднемасштабные
- С) крупномасштабные

2. Найдите ошибку. По охвату территории карты делятся на:

- A) материков, океанов и их частей
- B) государств и их частей
- C) общегеографические
- D) мировые и полушарий

3. Гранитный слой характерен для земной коры:

- A) материкового типа
- B) океанического типа

4. Распределите материки по площади в порядке убывания:

- A) Африка
- B) Австралия
- C) Евразия
- D) Южная Америка
- E) Антарктида
- F) Северная Америка

5. Какие потоки воздуха характерны для экваториальных широт?

- A) нисходящие
- B) восходящие

6. В каких географических широтах преобладают западные ветры?

- A) тропических
- B) полярных
- C) арктических
- D) умеренных

7. К постоянным ветрам не относятся:

- A) арктические
- B) пассаты
- C) западные

8. К основным климатическим поясам не относится:

- A) тропический
- B) умеренный
- C) экваториальный
- D) субантарктический

9. В каких географических широтах наибольшая соленость морской во-ды?

- A) полярных
- B) тропических
- C) умеренных
- D) экваториальных

10. Главная причина образования океанических течений:

- A) атмосферные осадки
- B) ветер
- C) землетрясения
- D) вулканы

11. Что не является природным комплексом?

- A) почвы
- B) природные зоны
- C) океаны
- D) озеро

12. Установите соответствие:

- 1) Кордильеры
 - 2) Гималаи
 - 3) Анды
 - 4) Восточно – Африканское плоскогорье
 - 5) Большой Водораздельный хребет
- A) вулк. Килиманджаро
 - B) г. Мак – Кинли
 - C) г. Джомолунгма
 - D) г. Косцюшко
 - E) г. Аконкагуа

13. Самое глубокое озеро мира:

- A) Виктория
- B) Байкал
- C) Танганьика
- D) Онтарио

14. Река Африки, дважды пересекающая экватор:

- A) Нил
- B) Замбези
- C) Конго
- D) Оранжевая

15. Установите соответствие:

- 1) Евразия
 - 2) Южная Америка
 - 3) Австралия
 - 4) Африка
 - 5) Северная Америка
- B) Муррей
 - C) Енисей

- C) Миссисипи
- D) Амазонка
- E) Нил

16. Самый высокий водопад:

- A) Виктория
- B) Ниагарский
- C) Игуасу
- D) Анхель

17. Установите соответствие:

- 1) самый жаркий материк
 - 2) самый влажный материк
 - 3) самый холодный материк
 - 4) самый сухой материк
- B) Антарктида
 - C) Австралия
 - D) Южная Америка
 - E) Африка

18. На каком материке расположена пампа?

- A) Северная Америка
- B) Евразия
- C) Южная Америка
- D) Австралия

19. На каком материке нет природной зоны саванн и редколесий?

- A) Африка
- B) Австралия
- C) Евразия
- D) Антарктида

20. Что называют прериями?

- A) Зона степей
- B) Переходная полоса между лесами и степями Северной Америки
- C) Саванны в Южной Америке
- D) Влажные экваториальные леса Африки

Африка

*Лозовая Ольга Евгеньевна,
учитель географии, МБОУ
г. Иркутска СОШ № 37*

1. Площадь Африки составляет:

- A) 30,3 тыс. км²
- B) 30,3 млн. км²
- C) 303 млн. км²
- D) 33 млн. км²

2. Крайней северной точкой материка является мыс

- A) Рас-Хафун
- B) Рас-Энгела
- C) Альмади
- D) Кабу – Бранку

3. Большая часть территории Африки находится между:

- A) экватором и северным тропиком
- B) экватором и южным тропиком
- C) северным и южным тропиками
- D) северным и южным полярным кругами

4. Пересек Южную Африку с запада на восток, исследовал реку Замбези:

- A) В. да Гама
- B) Д. Ливингстон
- C) Н.И. Вавилов
- D) Ф. Магеллан

5. Африка омывается водами ...

- A) Индийского океана
- B) Тихого и Атлантического океанов
- C) Атлантического и Индийского океанов
- D) Тихого и Индийского океанов

6. В горах Атлас возможны землетрясения, потому что они:

- A) богаты полезными ископаемыми
- B) находятся на стыке литосферных плит
- C) имеют большую высоту
- D) образовались очень давно

7. В рельефе Африки преобладают:

- A) низменности
- B) возвышенности и плоскогорья
- C) горы
- D) впадины

8. Высочайшая вершина Африки

- A) г. Кения
- B) г. Тубкаль
- C) г. Килиманджаро
- D) г. Эверест

9. Образование береговой пустыни Намиб связано:

- A) с горным рельефом на побережье
- B) с влиянием Антарктиды
- C) с холодным Бенгельским течением
- D) с расположением материка симметрично экватора и тропиков

10. Наибольшее количество осадков выпадает ...

- A) на побережье Гвинейского залива
- B) в экваториальной зоне
- C) в горах
- D) в субтропической зоне

11. К какому климатическому поясу относится это описание:

«Каждый день выпадают сильные ливни, средняя температура - +240С, высокая влажность в течение всего года»?

- A) экваториальный
- B) субэкваториальный
- C) тропический
- D) субтропический

12. Самая длинная река Африки:

- A) Конго
- B) Нил
- C) Нигер
- D) Амазонка

13. Самое длинное из пресноводных озер мира:

- A) Виктория
- B) Ньяса
- C) Танганьика
- D) Титикака

14. Природная зона, занимающая 40% площади материка:

- A) экваториальные леса
- B) саванны
- C) пустыни

15. Типичные растения экваториального леса Африки – это:

- A) эвкалипт, травяное дерево
- B) масличная пальма, железное дерево, красное дерево
- C) баобаб, акация
- D) вельвичия, алоэ

16. Самая большая по площади страна Африки:

- A) Алжир
- B) Египет
- C) Судан
- D) Свазиленд

Мировой океан – синяя бездна

*Майоров Альберт Константинович, учитель
географии, МКОУ СОШ № 5 Городского округа
г. Нововоронежа*

1. Площадь Мирового океана составляет:

- A) 220 млн. км²
- B) 361 млн. км²
- C) 412 млн. км²
- D) 100 млн. км²

2. На берегах этого океана находится 2/3 всех морских портов мира

- A) Тихого
- B) Атлантического
- C) Северного Ледовитого
- D) Индийского

3. По образу жизни и способу передвижения морские организмы делятся на группы:

- A) планктон
- B) нектон
- C) бентос
- D) все перечисленное верно

4. Сколько видов животных обитает в Мировом океане?

- A) 125 тыс.
- B) 290 тыс.
- C) 160 тыс.
- D) 500 тыс.

5. По происхождению течения делятся на:

- A) ветровые и горизонтальные
- B) стоковые и вертикальные
- C) горизонтальные и вертикальные
- D) ветровые и стоковые

6. Бентос – это:

- A) общее название обитателей дна, донных организмов
- B) фитопланктон и зоопланктон
- C) животные, активно передвигающиеся в толще воды
- D) растения, которыми питаются рыбы

7. Средняя глубина Мирового океана составляет:

- A) 4.5 тыс. м.
- B) 3.2 тыс. м.
- C) 3.8 тыс. м.
- D) 3.5 тыс. м.

8. К глубинным зонам океана относятся:

- A) материковая отмель
- B) материковый склон
- C) ложе океана
- D) все перечисленное

9. Планктон – это:

- A) животные, активно, передвигающиеся в толще воды
- B) общее название обитателей дна, донных организмов
- C) фитопланктон и зоопланктон
- D) животные, иногда выходящие из воды на сушу

10. Значительная часть этого океана расположена за Северным полярным кругом:

- A) Северный Ледовитый
- B) Атлантический
- C) Тихий
- D) Индийский

11. По свойствам воды течения делятся на:

- A) ветровые и стоковые
- B) теплые и холодные
- C) жаркие и теплые
- D) холодные и умеренные

12. Самый большой океан Земли по площади:

- A) Атлантический
- B) Тихий
- C) Северный Ледовитый
- D) Индийский

13. Острова этого океана имеют исключительно материковое происхождение:

- A) Тихий
- B) Северный Ледовитый
- C) Индийский
- D) Атлантический

14. Сколько видов водорослей обитает в Мировом океане?

- A) 20 тыс.
- B) 15 тыс.
- C) 50 тыс.
- D) 10 тыс.

15. Экватор пересекает этот океан в северной части:

- A) Индийский
- B) Атлантический
- C) Северный Ледовитый
- D) Тихий

Материки, океаны и регионы

*Уразов Александр Александрович,
учитель географии ВКК, МКОУ
«Верхнехавская СОШ № 1»,*

с. Верхняя Хава, Верхнехавский район, Воронежская область

Базовый уровень

1. Самый маленький океан:

- A) Южный
- B) Индийский

- C) Северный Ледовитый
- D) Атлантический

2. Древний материк, существовавший около 200 млн. лет назад:

- A) Пангея
- B) Лавразия
- C) Гондвана
- D) Панталаса

3. Материк, омываемый всеми океанами Земли:

- A) Евразия
- B) Африка
- C) Антарктида
- D) Австралия

4. Океан, пересекаемый всеми меридианами Земли:

- A) Тихий
- B) Атлантический
- C) Индийский
- D) Северный Ледовитый

5. Тихий и атлантический океаны соединяет:

- A) пролив Дрейка
- B) Басов пролив
- C) Гибралтарский пролив
- D) пролив Лаперуза

6. Третий по величине материк:

- A) Африка
- B) Антарктида
- C) Северная Америка
- D) Южная Америка

7. Самый тёплый океан:

- A) Индийский
- B) Тихий
- C) Южный
- D) Атлантический

Повышенный уровень


1. Ряд, в котором правильно представлены материки, входившие в состав Гондваны:

- A) Африка, Евразия, Австралия, Южная Америка
- B) Северная Америка, Австралия, Антарктида

- C) Евразия, Северная Америка, Гренландия
- D) Антарктида, Южная Америка, Австралия

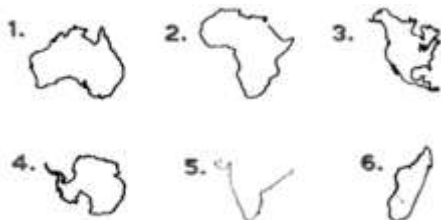
2. Задание: Дополните

Второй по величине материк Земли представлен на рисунке



3. Задание: сопоставьте

Географический объект - название



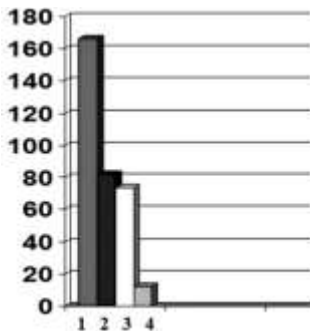
- A - Мадагаскар,
- B - Северная Америка,
- C - Австралия,
- D - Индостан,
- E - Антарктида,
- F - Африка

4. Ряд, в котором даётся верное утверждение о материке и его особенностях

- A) Евразия, Мёртвое море, Гималаи, гора Митчелл
- B) Австралия, река Дарлинг, Город Сидней, южное полушарие
- C) Африка, экватор, горы Атлас, озеро Эйр
- D) Северная Америка, Аппалачи, северный тропик, Гринвич.

5. Задание: Дополните

Атлантический океан представлен на диаграмме под номером



6. Задание: Соответствие океан и его характерная особенность

1) Тихий океан	А) самый солёный
2) Атлантический океан	В) самый мелководный
3) Индийский океан	С) самый экзотический
4) Северный ледовитый океан	Д) самый тёплый

7. Ряд, в котором даётся неверный пункт характеристики географическо-го положения материка

- А) положение относительно экватора, тропиков и полярных кругов
 В) какие океаны и моря омывают
 С) крупные формы рельефа, максимальная и средние высоты
 Д) в каких климатических поясах расположен.

Базовый уровень**1. Самая большая часть света:**

- А) Америка
 В) Африка
 С) Азия
 Д) Австралия

2. Самое маленькое государство на Земле:

- А) Монако
 В) Марокко
 С) Ватикан
 Д) Франция

3. Культурно-исторический район Земли, включающий самое малое количество стран:

- А) Англо-Саксонская Америка
 В) Латинская Америка
 С) Северная Африка
 Д) Юго-Восточная Азия

4. Природный объект, по которому проходит граница Европы и Азии:

- А) Гималаи
 В) Скандинавские горы
 С) Кавказские горы
 Д) Уральские горы

5. Самое большое государство по площади:

- А) Россия
 В) Китай

- C) Индия
- D) Канада

6. Государство, расположенное в двух частях света:

- A) Турция
- B) Италия
- C) Греция
- D) Армения

7. Самая маленькая по площади часть света:

- A) Европа
- B) Австралия
- C) Америка
- D) Антарктида

Повышенный уровень

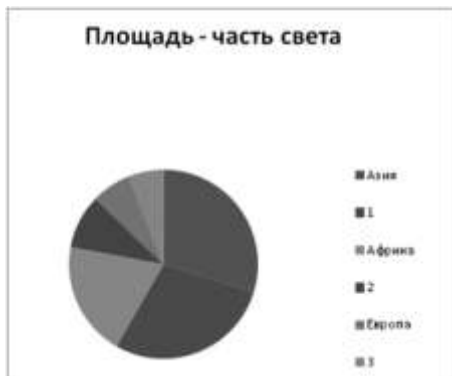
1. Задание: Соответствие часть света – площадь

1) Австралия	A) 10 млн. км. ²
2) Европа	B) 8,9млн. км. ²
3) Америка	C) 42, 1 млн. км. ²
4) Антарктида	D) 13.2млн. км. ²

2. Ряд, в котором даётся верное описание культурно-исторического района и его описания:

- A) Англо-Саксонская Америка, Канада, Оттава
- B) Северная Африка, Эфиопия, Килиманджаро
- C) Западная Европа, Великобритания, Варшава
- D) Юго-Восточная Азия, Монголия Улан-Батор

3. Задание: Определите по диаграмме недостающие части света:



4. Ряд, в котором даётся верный перечень часть света - происхождение названия

- A) Европа,- древнее ассирийское эреб, закат
- B) Австралия-древнее ассирийское асу, восход
- C) Австралия – лежащая противоположно Арктики
- D) Антарктида - неизведанная южная земля.

5. Ряд, в котором даётся верный перечень физико-географических объектов, по которым проходит граница Европы и Азии:

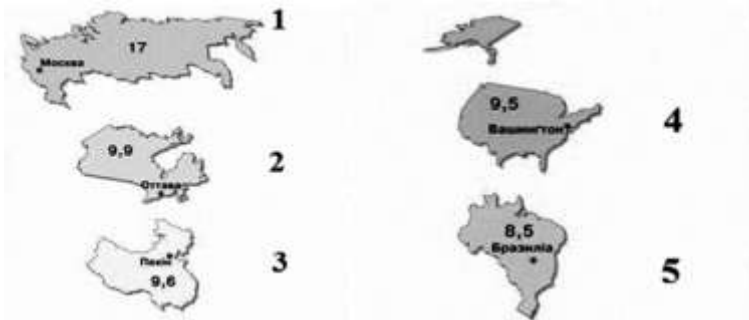
- A) река Эмба, пролив Босфор, Эгейское море, Азовское море
- B) горы Кавказ Каспийское море, горы Урал, река Урал
- C) Кумо-манычская впадина, Чёрное море, керченский пролив, река Волга
- D) горы Кавказ, средиземное море, Скандинавские горы

6. Ряд, в котором даётся верный перечень часть света и характерные страны:

- A) Америка, Эквадор, Перу, Канада, Чили
- B) Африка, Габон, Мексика, Аргентина
- C) Европа, Грузия, Австрия, Франция
- D) Азия, Бруней, Колумбия, Филиппины.

7. Задание: сопоставьте

Контуры и столица - страна и её название



- A) Китай
- B) Канада
- C) Бразилия
- D) Россия
- E) США

Страны Африки

*Кирсанова Екатерина
Юрьевна, учитель географии,
МАОУ «СШ № 3», г. Хабаровск*

1. Столица Мадагаскара:

- A) Яунде
- B) Нуакшот
- C) Масеру
- D) Антананариву.

2. Яунде, Дуала – это крупнейшие города государства:

- A) Камерун
- B) Нигерии
- C) ЮАР
- D) Лесото.

3. Исток Нила расположен в стране:

- A) Уганда
- B) Руанда
- C) Конго
- D) Египет.

4. Африканское государство, которое впервые использовала при создании флага цвета – зеленый, желтый, красный:

- A) Эфиопия
- B) Египет
- C) Алжир
- D) Мадагаскар.

5. Растение вельвичия признана эндемиком в стране:

- A) Камерун
- B) Намибия
- C) Тунис
- D) ЮАР.

6. Знаменитый водопад, названный в честь королевы Виктории, расположен на общей границе государств:

- A) Замбии и Зимбабве
- B) Конго и Камеруна
- C) Алжира и Марокко
- D) Камеруна и Нигерии.

7. Крупнейшее государство Африки, которое по площади соизмеримо с суммой площадей Монголии и Танзании:

- A) Руанда
- B) Конго
- C) Чад
- D) Судан.

8. Потухший в настоящее время вулкан Килиманджаро расположен в пре-делах государства:

- A) Лесото
- B) Мавритания
- C) Танзания
- D) Камерун.

9. Всемирно известная пустыня Сахара не располагается на территории государства:

- A) Египет
- B) Чад
- C) Мозамбик
- D) Мали.

10. Страны, расположенные на политической карте в ряд так, будто напо-минают «африканские зубы»:

- A) Кот-Д'Ивуар, Гана, Того, Бенин
- B) Марокко, Алжир, Тунис, Ливия
- C) Намибия, Ботсвана, Ангола, Замбия
- D) Уганда, Кения, Эфиопия, Сомали.

11. К субрегиону Южная Африка относится государство:

- A) Лесото
- B) Алжир
- C) Египет
- D) Эритрея.

Краеведение Воронежской области

*Шальнева Елена Павловна,
учитель географии, МКОУ
Заводская СОШ,*

Калачеевский муниципальный р-н, п. Пригородный

1. Территория Воронежской области больше территории таких Европей-ских стран как:

- A) Дания
- B) Лихтенштейн
- C) Ватикан
- D) Швеция

2. Главная река Воронежской области:

- A) Волга
- B) Дон
- C) Ока
- D) Толучеевка

3. На территории Воронежской области среди почв преобладают:

- A) чернозёмы
- B) серые лесные
- C) подзолистые
- D) горные

4. Крупный карьер в Воронежской области по добыче гранита на щебень:

- A) Летнереченское
- B) Мансуровское
- C) Шкурлатовское
- D) Гранатовый Амфиболит

5. Крупнейший промышленный город Центрально-Чернозёмного эконо-мического района:

- A) Курск
- B) Тула
- C) Волгоград
- D) Воронеж

6. Город-миллионник в Воронежской области:

- A) Россошь
- B) Калач
- C) Воронеж
- D) Бутурлиновка

7. Городу Воронежу присвоено звание «Город воинской славы»:

- A) 16 февраля 2008 г.
- B) 25 января 2001 г.
- C) 25 января 1945 г.
- D) 8 мая 2008 г.

8. Знаменитый персонаж из мультфильма котенок из города Воронежа проживал на улице:

- A) Ленина
- B) Бахметьева
- C) Лизюкова
- D) Хользунова

9. Этот поэт родился в Воронеже:

- A) Александр Сергеевич Грибоедов
- B) Алексей Кириллович Жуковский
- C) Алексей Васильевич Кольцов
- D) Кондратий Фёдорович Рылеев

10. Традиционный фестиваля «Русь песенная, Русь мастеровая» проходит в селении:

- A) Хутор Ломы
- B) Хутор Горюшкин
- C) Хутор Гринево
- D) Село Лешаное

11. Чем знамениты Костенки:

- A) ведутся раскопки останков манголо-татарского ига
- B) ведутся раскопки боеприпасов Великой Отечественной Войны
- C) ничем не знамениты
- D) была открыта первая стоянка каменного века

12. Одна из главных достопримечательностей Воронежской области - иде-альный дуб, его возраст 155 лет, а высота 35 м, где произрастает:

- A) Шипова дубрава
- B) Пузевская дубрава
- C) Березовая роща
- D) Хреновской бор

13. Макет корабля «Меркурия» установлен на бетонной опоре посреди ка-кого водохранилища у Вогрэсовского моста:

- A) Белгородское
- B) Воронежское
- C) Волгоградское
- D) Волховское

14. Официально годом основания Воронежа считается какой год:

- A) 1711 год
- B) 1832 год
- C) 1605 год
- D) 1586 год

15. Самое большое захоронение времен Великой Отечественной войны в г. Воронеже:

- A) Адмиралтейская площадь
- B) Чижовский плацдарм
- C) Памятник Славы
- D) Песчаный холм

Материки, части света, океаны

*Никитина Ольга Ивановна,
учитель географии, МБОУ СОШ
№26 г. Сургута, ХМАО*

1. Часть света, расположенная в северном полушарии и пересекаемая ну-левым меридианом.

- A) Евразия
- B) Европа
- C) Африка
- D) Азия

2. Самый большой по площади материк.

- A) Африка
- B) Австралия
- C) Евразия
- D) Северная Америка

3. Океан, омывающий северные берега Евразии и Северной Америки.

- A) Тихий
- B) Северный - Ледовитый
- C) Индийский
- D) Атлантический

4. Материк, пересекаемый экватором и начальным меридианом.

- A) Евразия
- B) Африка

- C) Австралия
- D) Южная Америка

5. Океан, омывающий южные берега Евразии.

- A) Тихий
- B) Северный - Ледовитый
- C) Индийский
- D) Атлантический

6. Самый холодный материк.

- A) Евразия
- B) Африка
- C) Австралия
- D) Антарктида

7. Океан, омывающий восточные берега Америки.

- A) Тихий
- B) Северный - Ледовитый
- C) Индийский
- D) Атлантический

8. Самый маленький по площади материк.

- A) Африка
- B) Австралия
- C) Евразия
- D) Северная Америка

9. Часть света, омываемая Индийским океаном с юга.

- A) Евразия
- B) Европа
- C) Африка
- D) Азия

10. Часть света, расположенная целиком в западном полушарии.

- A) Америка
- B) Европа
- C) Африка
- D) Азия

Южная Америка

Сологуб Светлана Даниловна,

учитель географии, МКОУ «Докучаевская СОШ»

1. Назовите путешественника, который составил первое описание новых земель. Позже эти земли были названы его именем?

- A) Александр Гумбольдт
- B) Америго Веспуччи
- C) Христофор Колумб
- D) Франциско Писарро

2. В основании материка Южная Америка лежит крупный тектонический стабильный участок земной коры, лишенный осадочного слоя, - это:

- A) плита
- B) щит
- C) геосинклиналь
- D) горст

3. Назовите крупнейшую реку Южной Америки:

- A) Парана
- B) Ориноко
- C) Амазонка
- D) Сан – Франсиску

4. Выберите верный ответ. В Южной Америке экватор пересекает:

- A) Бразильское плоскогорье
- B) Патагонию
- C) Амазонскую низменность
- D) Ла – Платскую низменность

5. Подчеркните названия стран материка Южной Америки:

- A) ЮАР, Алжир, Сомали
- B) Суринам, Гвиана, Уругвай
- C) Гондурас, Гватемала, Гаити
- D) Коста-Рика, Сальвадор, Никарагуа

6. Большинство населения Южной Америки говорит на языке:

- A) португальском
- B) английском
- C) испанском
- D) кечуа

7. В переводе с языка индейцев эта территория означает «пространство, лишённое древесной растительности». Назовите ее:

- A) сельва
- B) Патагония
- C) пампа
- D) Бразильское плоскогорье

8. Сгруппируйте географические объекты по смыслу:

Бразильское, Лаплатская, Магеланов, Парана, Оринокская, Дрейка, Гвианское, Анды, Маракайбо, Уругвай, Аконкагуа, Патагония, Сельва, Игуасу, Амазон-ская, Анхель, Мадейра, Патус.

9. Установите соответствие:

Государство	Столица
1) Бразилия	A) Сантьяго
2) Чили	B) Буэнос - Айрес
3) Аргентина	C) Бразилиа
4) Перу	D) Лима

10. Какие породы деревьев образуют влажные вечнозеленые экваториальные леса, растущие на красно – желтых ферраллитовых почвах:

- A) осина, береза, ясень, тополь
- B) какао, дуб, клен, сейба
- C) дынное дерево, гевея, сейба, какао
- D) пальмы, вяз, ольха, сосна.

Африка

*Зимина М. Ю., учитель
географии, МБОУ СОШ
№6, г. Кострома*

1. В основании большей части материка находится:

- A) платформа
- B) складчатые области
- C) щит
- D) стык литосферных плит

2. Более приподнятой частью Африки является:

- A) северная и западная
- B) южная и восточная

-
- С) южная
 - Д) северная

3. Полезные ископаемые осадочного происхождения (уголь, нефть) в основном расположены:

- А) в северной части материка
- В) в южной части материка
- С) в южной части материка
- Д) в западной части материка

4. Максимальное количество осадков на территории Африки выпадает:

- А) вдоль экватора
- В) вдоль южного тропика
- С) вдоль нулевого меридиана
- Д) вдоль южного побережья

5. Какие воздушные массы формируются над материком Африка?

- А) экваториальные и умеренные
- В) умеренные и тропические
- С) экваториальные и тропические
- Д) субантарктические и умеренные

6. В Африке наиболее густая речная сеть в климатическом поясе:

- А) субэкваториальном
- В) тропическом
- С) субтропическом
- Д) экваториальном

7. Самая полноводная река в Африке:

- А) река Нил
- В) река Конго
- С) река Замбези
- Д) река Оранжевая

8. Антилопы, львы, гепарды - типичные представители природной зоны:

- А) экваториальных лесов
- В) саванн
- С) пустынь
- Д) жестколистных вечнозеленых лесов и кустарников

9. Типичные растения экваториального леса Африки:

- А) пальма дум, алоэ
- В) масличная пальма, лианы, эбеновое дерево
- С) вельвичия, молочаи
- Д) баобаб, акация

10. Почему Африка - самый жаркий материк?

- A) большая часть Африки находится между тропиками
- B) Африку омывает самый теплый океан- Индийский
- C) здесь расположены крупнейшие пустыни мира
- D) территорию омывает теплое течение

11. Самый благоприятный климатический пояс для жизни африканцев:

- A) экваториальный
- B) тропический
- C) субэкваториальный
- D) субтропический

12. Население Северной Африки относится к расе:

- A) монголоидной
- B) негроидной
- C) европеоидной
- D) австралоидной

13. Самый маленький народ Африки:

- A) тубу
- B) бушмены
- C) пигмеи
- D) готтентоты

14. К странам Восточной Африки относится:

- A) Эфиопия
- B) Марокко
- C) ЮАР
- D) Нигер

15. Побережье какого государства Африки получило в период работоргов-ли печальное известное название: «Невольничий берег»

- A) Чад
- B) Нигерия
- C) Судан
- D) Эфиопия

16. От Европы Африку отделяют:

- A) Гибралтарский пролив и Средиземное море
- B) Мозамбикский пролив и Красное море
- C) Гвинейский залив
- D) Аденский залив

17. О каком климатическом поясе идет речь: «Территория лежит в поясе повышенного давления, осадков выпадает мало (50-100 мм), температура высокая»

- A) экваториальный пояс
- B) тропический пояс
- C) субэкваториальный пояс
- D) субтропический

18. О каком озере идет речь: «Мелководное, глубина 4-7 метров, площадь может меняться в зависимости от осадков. Берега сильно заболочены.»

- A) озеро Чад
- B) озеро Виктория
- C) озеро Ньяса
- D) озеро Танганьика

Природа Африки

*Попова Ирина Ивановна,
учитель географии, МБОУ
«Барабанщиковская СШ № 4»*

1. Выберите проливы, которые отделяют Африку от других материков:

- A) Дрейка
- B) Гибралтарский
- C) Баб-эль-Мандебский
- D) Берингов

2. Выберите климатические пояса, в которых Африка не находится:

- A) экваториальный
- B) тропический
- C) умеренный
- D) субарктический

3. Выберите страны, через которые протянулись Атласские горы:

- A) Марокко
- B) Алжир
- C) Тунис
- D) Западная Сахара

4. Средиземноморский тип климата в Африке встречается в:

- A) субэкваториальном поясе
- B) тропическом поясе

- C) субтропическом поясе
- D) умеренном поясе

5. В какой природной зоне растет дерево баобаб:

- A) полупустыни и пустыни
- B) жестколистные вечнозеленые леса
- C) экваториальные леса
- D) саванны и редколесья

6. Выберите утверждение, которое характеризует материк Африка:

- A) самый сухой материк
- B) самый влажный материк
- C) самый жаркий материк
- D) самый холодный материк

7. Выберите озеро Африки, для которого характерны сезонные колебания воды:

- A) Ньяса
- B) Чад
- C) Виктория
- D) Рудольф

8. Назовите русского исследователя-путешественника, который изучал Северо-восточную Африку:

- A) В. Юнкер
- B) Н.И. Вавилов
- C) Д. Ливингстон
- D) Е. Ковалевский

9. В каком климатическом поясе весь год преобладают влажные воздушные массы:

- A) экваториальный
- B) субэкваториальный
- C) тропический
- D) субтропический

10. Бассейн, какой реки самый большой по площади:

- A) Нил
- B) Конго
- C) Замбези
- D) Нигер

11. В какой пустыне растет удивительное растение - суккулент вельвичия:

-
- A) Сахара
 - B) Намиб
 - C) Калахари
 - D) Атакама

12. Как называется дерево, которое называют хлебом пустыни:

- A) финиковая пальма
- B) фикус
- C) баобаб
- D) акация

Географические объекты

Кириченко Юлия Николаевна,

учитель географии, МКОУ «СОШ № 2 г. Усть-Джегуты»

1. «...Уничтожение ледяного острова ускорит таяние Полярного океана. Бесконечное тёплое лето будет стоять над Арктикой, и пустынные каменные земли покроются девственными лесами». Какой географический объект остро описывается в данном отрывке?

- A) Виктория
- B) Исландия
- C) Гренландия
- D) Великобритания

2. Море, испугавшее спутников Колумба.

- A) Карибское
- B) Саргассово
- C) Лабрадор
- D) Средиземное

3. Африканское чудо, которое называют «гремящий дым».

- A) Килиманджаро
- B) Камерун
- C) Анхель
- D) Виктория

4. Название происходит от слова «амасуну», которое на одном из индейских языков означает «большая вода».

- A) Амазонка
- B) Нил
- C) Ганг
- D) Парана

- 5. Назван по скале на европейской стороне одноимённого пролива.**
- A) Мозамбикский
 - B) Гибралтарский
 - C) Дрейка
 - D) Бассов
- 6. В переводе с тибетского это название означает «богиня – мать Земли».**
- A) Эверест
 - B) Сагарматха
 - C) Джомолунгма
 - D) Аннапурна
- 7. Какое озеро в Африке, по своему режиму напоминает Каспийское море?**
- A) Виктория
 - B) Чад
 - C) Ньяса
 - D) Танганьика
- 8. Вулканический остров в Тихом океане, где жил и работал художник Го-ген.**
- A) Таити
 - B) Галапагос
 - C) Соломоновы
 - D) Гавайские
- 9. Пролив соединяющий два моря и два океана и разделяющий два материка и два государства.**
- A) Девисов
 - B) Берингов
 - C) Гибралтарский
 - D) Магелланов
- 10. На языке индейцев означает «великая река».**
- A) Маккензи
 - B) Миссисипи
 - C) Колорадо
 - D) Миссури

Африка, Австралия

*Даниленко Наталья Владимировна, учитель географии,
ГБОУ « Белгородская общеобразовательная школа-
интернат №23»*

1. Площадь Африки с островами равна млн. кв. км. :

- A) 54
- B) 9
- C) 30
- D) 18

2. Самая длинная река в мире:

- A) Нил
- B) Конго
- C) Амазонка
- D) Амур

3. В рельефе Африки преобладают:

- A) низменности (0 – 200 м)
- B) горы высокие (от 2500 м)
- C) высокие равнины (200 – 1000 м)
- D) впадины (ниже уровня моря)

4. В бассейне реки Конго по обе стороны от экватора расположена природная зона:

- A) пустынь
- B) экваториальных лесов
- C) саванн
- D) тайги

5. В пустыне Сахара проживают:

- A) пигмеи
- B) бушмены
- C) берберы
- D) русские

6. Самый сухой материк:

- A) Африка
- B) Австралия
- C) Мадагаскар
- D) Антарктида

7. Самая высокая гора Австралии:

- A) Косцюшко (2230 м)
- B) Килиманджаро (5895 м)
- C) Фудзияма (3776 м)
- D) Эльбрус (5033 м)

8. Самая большая речная система Австралии:

- A) Амазонка
- B) Волга
- C) Муррей
- D) Конго

9. В Австралии обитают самые примитивные млекопитающие:

- A) ехидна и утконос
- B) зебра и слон
- C) попугаи и кенгуру
- D) коала и страус эму

10. Столица Австралии:

- A) Сидней
- B) Мельбурн
- C) Канберра
- D) Каир

Австралия

*Сулдина Светлана Владимировна,
учитель географии 1 категории,
МБОУ СОШ с. Константиновка*

1. Изображение какого животного Австралии можно увидеть на гербе этой страны?

- A) Кенгуру
- B) Коалы
- C) Ехидны
- D) Утконоса

2. Крики – это:

- A) пересыхающие реки
- B) пересыхающие озёра
- C) болота
- D) заросли кустарника

3. Эндемик Австралии

- A) собака динго
- B) утконос
- C) дикий кролик

4. Какие природные зоны занимают значительную часть австралийского материка?

- A) Саванны и полупустыни
- B) Саванны и вечнозелёные леса
- C) Широколиственные леса и степи

5. Какая отрасль сельского хозяйства наиболее характерна для Австралии?

- A) Земледелие
- B) развитие крупного рогатого скота
- C) овцеводство
- D) рыболовство

6. Особенности природы Новой Зеландии являются:

- A) гейзеры, грязевые вулканы, горячие источники
- B) многочисленные реки и озёра
- C) горные страны
- D) заболоченные территории

7. Большой Водораздельный хребет расположен на:

- A) Северном побережье Австралии
- B) Западном побережье Австралии
- C) Южном побережье Австралии
- D) Восточном побережье Австралии

8. Самая высокая вершина Австралии

- A) Гора Джая
- B) Гора Косцюшко
- C) Гора Джомолунгма
- D) Гора Мак-Кинли

9. Столица Австралийского Союза

- A) г. Сидней
- B) г. Мельбурн
- C) г. Канберра
- D) г. Брисбен

10. Какие из перечисленных понятий имеют отношение к Австралии?

- A) Скрэб
- B) Вади

- С) Эндемик
- Д) Крик
- Е) Оазис
- Ф) Абориген
- Г) Вулкан
- Н) Сумчатые
- И) оледенение
- Ж) Самум

11. По мере продвижения вглубь Австралии количество осадков:

- А) уменьшается
- Б) увеличивается
- С) не изменяется
- Д) остаётся большим

12. Восточное побережье Австралии открыл в 1770 г.:

- А) Джеймс Кук
- Б) Ф.Ф.Беллинсгаузен
- С) Роберт Скотт
- Д) Марко Поло

Африка

*Ржевская Ирина Анатольевна, учитель
географии, ГБОУ СОШ №1 «ОЦ» с.
Кинель Черкасы, Самарской обл.*

1. Большая часть Африки расположена в пределах:

- А) плиты древней платформы
- Б) плиты молодой платформы
- С) щитов
- Д) складчатых областей

2. В пределах складчатых областей расположены:

- А) Капские горы
- Б) Драконовы горы
- С) Эфиопское нагорье
- Д) горы Атлас

3. В области наибольшего среднего количества осадков расположен бас-сейн реки:

- А) Нил
- Б) Конго

-
- C) Замбези
 - D) Нигер

4. Наибольшую площадь материка занимает природная зона

- A) влажные экваториальные леса
- B) пустыни
- C) саванн
- D) жестколистные леса

5. Крупнейшая по площади страна Африка –

- A) Судан
- B) Алжир
- C) Египет
- D) ЮАР

6. Высоту 5895 м имеет:

- A) гора Кения
- B) влк. Килиманджаро
- C) влк. Камерун
- D) гора Эми – Куси

7. Образование нагорий в восточной части Африки связано с:

- A) вулканической деятельностью
- B) континентальными разломами
- C) складкообразованием
- D) разрушением гор

8. Наибольшую площадь имеет озеро:

- A) Ньяса
- B) Чад
- C) Виктория
- D) Танганьика

9. К береговым пустыням Африки относятся:

- A) Сахара
- B) Калахари
- C) Намиб
- D) Ливийская

10. Наибольшую численность населения из стран Африки имеет

- A) ЮАР
- B) Ангола
- C) Мавритания
- D) Нигерия

Особенности природы Африки

Кондрашкина Татьяна Владимировна, учитель географии, ГБОУ гимназия «ОЦ «Гармония», г. о. Отрадный Самарской обл.

1. Какими океанами омывается Африка:

- A) Тихим и Атлантическим
- B) Индийским и Атлантическим
- C) Тихим и Северным Ледовитым
- D) Индийским и Тихим

2. На какой литосферной плите расположен материк Африка:

- A) Африкано-Аравийской
- B) Тихоокеанской
- C) Африканской
- D) Индо-Австралийской

3. В основании большей части материка находится:

- A) Древняя платформа
- B) Области мезозойской складчатости
- C) Области кайнозойской складчатости
- D) Складчатые области

4. Полезные ископаемые осадочного происхождения (уголь, нефть, газ) в основном расположены:

- A) в северной части материка
- B) в южной части
- C) в западной части
- D) в восточной части

5. Из какой точки Африки видна наибольшая территория?

- A) Вулкан Камерун
- B) Вулкан Килиманджаро
- C) Драконовы горы
- D) Атласские горы

6. Исследователь, открывший водопад Виктория, описал верхнее течение реки Конго, исследовал озеро Ньяса и реку Замбези:

- A) Николай Иванович Вавилов
- B) Давид Ливингстон
- C) Василий Васильевич Юнкер
- D) Егор Петрович Ковалевский

7. Самая длинная река Африки:

- A) Конго
- B) Замбези
- C) Нил
- D) Нигер

8. Водопад Виктория расположен на реке:

- A) Замбези
- B) Нил
- C) Конго
- D) Оранжевая

9. Почему озеро Чад на карте показано пунктирной линией:

- A) не имеет стока
- B) мелководное
- C) пресное
- D) площадь озера изменяется в зависимости от осадков и разлива впадающих рек

10. Максимальное количество осадков на территории Африки выпадает:

- A) вдоль экватора
- B) вдоль Южного тропика
- C) вдоль океанских побережий
- D) на севере материка

11. Если в африканской пустыне в июле холоднее, чем в январе, то это пустыня:

- A) Калахари
- B) Сахара
- C) Ливийская
- D) Нубийская

12. Каково происхождение озера Танганьика:

- A) в результате заболачивания территории
- B) в результате деятельности ледников
- C) в результате прогиба платформы
- D) в результате разлома Восточно-Африканского плоскогорья

13. О каком климатическом поясе идёт речь: «Обычно утром бывает яс-ная погода. После полудня идёт ливень, часто сопровождающийся сильнейшей грозой и бурей. Из-за дождя и молний всё превращается в хаос. Через несколько минут ливень утихает. К вечеру опять наступает ясная погода».

- A) Тропический пояс
- B) Экваториальный пояс

- C) Умеренный пояс
- D) Субтропический пояс

14. Вади – это:

- A) полуостров
- B) растение
- C) залив
- D) сухое русло рек и речных долин

15. Можно ли в Африке покататься на лыжах:

- A) нет, нельзя
- B) все ответы неправильные
- C) да, можно
- D) не знаю

16. Какой природной зоны нет в Африке:

- A) саванн и редколесий
- B) полупустынь и пустынь
- C) смешанных и широколиственных лесов
- D) постоянно влажных лесов

17. Самое удивительное растение пустыни Намиб имеет короткий и толстый ствол, от которого отходят плотные листья длиной до 3 метров. Это растение называют осьминогом пустыни. Оно охраняется законом, и как одна из наиболее интересных достопримечательностей Намибии изображается на её марках. О каком растении идёт речь:

- A) маниока
- B) батат
- C) молочай
- D) вельвичия

18. Антилопы, слоны, зебры, жирафы, бегемоты водятся в зоне:

- A) экваториальных лесов
- B) саванн
- C) пустынь
- D) степей

19. Какое растение не растёт во влажных экваториальных лесах?

- A) Масличная пальма
- B) Древовидные папоротники
- C) Лианы
- D) Баобаб

Казачи-некрасовцы на Кубани

*Резниченко Наталия Петровна, учитель истории и
кубановедения, МБОУ гимназии №5 г. Усть-Лабинска
Краснодарского края*

1. Защитники «старой веры» во время церковной реформы патриарха Ни-кона:

- A) игнат-казачи
- B) Некрасовцы
- C) раскольники
- D) никоновцы

2. Руководители кубанских раскольников:

- A) Петр Мурзенко и Лев Манацкий
- B) Игнат Некрасов и Каплан-Гирей
- C) Платон и Ларионов
- D) М. Гулик и С. Белый

3. Внешнеполитический курс переселенцев-казачков в Прикубанье в XVIII веке:

- A) признали покровительство России
- B) восстали против Крымского ханства
- C) признали покровительство Крымского ханства
- D) начали войну против России

4. «Заветы Игната» запрещали:

- A) участие мужчин в походах с 18 лет
- B) абсолютную власть Народного собрания - Круга
- C) установление родственных связей с турками
- D) занятие ремеслами

5. Причиной русско-турецких войн XVIII века было то, что:

- A) Крымское ханство стремилось к союзу с Россией
- B) Россия нуждалась в выходе в Черное море
- C) Турция не стремилась усилить свое влияние на Кавказе
- D) ногайцы и адыги хотели войти в состав России

6. После окончания русско-турецкой войны 1768-1774 гг. был заключен:

- A) Ясский мирный договор
- B) Кючук-Кайнарджийский мирный договор
- C) Стамбульский мирный договор.
- D) Адрианопольский мирный договор

7. Строительством Кубанской оборонительной системы руководил:

- A) А.В. Суворов
- B) П.А. Румянцев-Задунайский
- C) А.Н. Сенянин
- D) Г.А. Потемкин

8. Главная причина возвращения некрасовцев из Турции:

- A) турецкое правительство насаждало среди них мусульманскую религию
- B) турецкое правительство ввело всеобщую воинскую истинность
- C) турецкое правительство объявило войну России
- D) турецкое правительство повысило налоги

9. Как называл некрасовцев крымский хан?

- A) «гирей-казаками»
- B) «девлет-казаками»
- C) «игнат-казаками»
- D) «некрасовцами»

10. Каковы были основные занятия казаков-некрасовцев в н. XVIII в.?

- A) рыбная ловля и судостроение
- B) торговля
- C) земледелие и скотоводство
- D) охота и рыболовство

Страны Африки

*Белоброва Любовь Владимировна,
учитель географии, МБОУ «СОШ
№ 29» г. Череповец*

1. Какие страны Африки пересекаются экватором?

- A) Чад, Нигер, Мали
- B) Намибия, Ботсвана, Мозамбик
- C) Кения, Конго, Габон
- D) Марокко, Мавритания, Тунис

2. Какие из выделенных стран не имеют выхода в океан?

- A) Чад, Руанда, Уганда
- B) Конго, Камерун, Либерия
- C) Судан, Кения, Замбия
- D) Намибия, Ангола, Ливия

-
- 3. На территории какой страны расположена крайняя восточная точка мыс Рас–Хафун?**
- A) Эфиопия.
 - B) Танзания.
 - C) Сомали
 - D) Малави
- 4. В какой стране мира зафиксирована самая высокая на Земле температура воздуха?**
- A) Египет
 - B) Ливия
 - C) Нигерия
 - D) Эфиопия
- 5. На территории какой страны расположено устье реки Нил?**
- A) Судан
 - B) Конго
 - C) Египет
 - D) Уганда
- 6. На границе каких стран расположен водопад Виктория?**
- A) Замбия и Зимбабве
 - B) Кения и Танзания
 - C) Эфиопия и Египет
 - D) Мозамбик и Мадагаскар
- 7. В какой стране учёные считают аборигенами пигмеев, живущих во влажных экваториальных лесах?**
- A) Демократическая республика Конго
 - B) Южно-Африканская Республика (ЮАР)
 - C) Эфиопия
 - D) Буркина-Фасо
- 8. В какой стране находятся национальные парки Калахари-Гемсбок и Крюгера?**
- A) ЮАР
 - B) Алжир
 - C) Намибия
 - D) Кения
- 9. Какая страна в Африке самая крупная по численности населения?**
- A) Алжир
 - B) Ангола
 - C) Намибия
 - D) Нигерия

10. В каких странах совпадает название столицы и страны?

- A) Мали, Малави
- B) Алжир, Тунис
- C) Нигерия, Ангола
- D) Замбия, Зимбабве

11. Антананариву – это столица какого государства?

- A) Мозамбик
- B) Нигерия
- C) Намибия
- D) Мадагаскар

12. В какой стране есть морские порты Дурбан, Кейптаун, Порт Элизабет?

- A) Мадагаскар
- B) ЮАР
- C) Танзания
- D) Марокко

13. Из какой африканской страны привозят в Россию мандарины и апельсины известной марки?

- A) Ангола
- B) Марокко
- C) Гана
- D) Гамбия

14. Какие два свободных государства были в Африке в начале 20 века?

- A) Мавритания, Сенегал
- B) Свазиленд, Лесото
- C) Либерия, Эфиопия
- D) Ангола, Нигерия

15. Какая страна Африки имеет наибольшую площадь?

- A) Алжир
- B) Танзания
- C) Чад
- D) Ангола

Австралия

Шмельтер Лариса Алексеевна, учитель географии, МБОУ Новоангарская СОШ, п. Новоангарск, Красноярский край

1. Кто из путешественников завершил открытие материка Австралия?

- A) Абель Тасман
- B) Джеймс Кук
- C) Фернан Магеллан
- D) Васко да Гама

2. Какое место по площади занимает материк Австралия?

- A) Четвёртое
- B) Пятое
- C) Шестое
- D) Третье

3. Самая высокая вершина Австралии?

- A) гора Джая
- B) гора Мак-Кинли
- C) гора Косцюшко
- D) гора Кения

4. Самый большой остров у берегов Австралии?

- A) Тасмания
- B) Новая Зеландия
- C) Новая Гвинея
- D) Большой Барьерный риф

5. Самый большой климатический пояс в Австралии?

- A) Субэкваториальный
- B) Тропический
- C) Субтропический
- D) Умеренный

6. Самая большая природная зона в Австралии?

- A) Пустыни
- B) Саванны
- C) Леса
- D) Полупустыни

7. Какое животное относится к эндемикам Австралии?

- A) Ленивец
- B) Панда
- C) Коала
- D) Опоссум

8. Самая крупная река Австралии?

- A) Дарлинг
- B) Муррей
- C) Эйр
- D) Оранжевая

9. Какова численность населения материка Австралия?

- A) 20 млн. человек
- B) 100 млн. человек
- C) 120млн. человек
- D) 12 млн человек

10. Какой город является столицей Австралийского Союза?

- A) Сидней
- B) Мельбурн
- C) Канберра
- D) Перт

Африка

*Терехова Зоя Владимировна,
учитель географии, МБОУ
«Перхушковская ООШ»*

1. Частью какого древнего материка является Африка:

- A) пангеи
- B) лавразии
- C) континент
- D) гондваны

2. Каким материкам Африка уступает по размеру:

- A) Антарктиде
- B) Евразии
- C) Северной Америке
- D) Южной Америке

3. Какие формы рельефа преобладают на материке Африка:

- A) Высокие горы
- B) Низкие горы
- C) Возвышенности и плоскогорья
- D) Низменности

4. Какая часть Африки является более высокая:

- A) Южная и западная
- B) Северная и восточная
- C) Южная и восточная
- D) Северная и западная

5. Самые высокие горные вершины Африки находятся:

- A) В горах Атлас
- B) В капских горах
- C) На Восточно-Африканском плоскогорье
- D) В Драконовых горах

6. К бассейну какого океана относится река Нил:

- A) Тихого
- B) Атлантического
- C) Индийского
- D) Северного Ледовитого

7. Самое глубокое озеро Африки:

- A) Виктория
- B) Танганьика
- C) Ньяса
- D) Рудольфа

8. Самая полноводная река Африки:

- A) Нил
- B) Замбези
- C) Конго
- D) Нигер

9. Самая большая по площади страна Африки:

- A) Судан
- B) Египет
- C) Ливия
- D) Заир

10. К каким расам относятся народы Африки:

- A) Негроидной
- B) Монголоидной
- C) Европеоидной
- D) Ко всем перечисленным

Африка

*Потапова Нина Александровна, учитель
географии и биологии, МБОУ ООШ №79 г.
Новошахтинска, Ростовская обл.*

1. Какой из «рекордов» не принадлежит Африке?

- A) самый сухой материк
- B) самый жаркий материк
- C) материк, на котором находится самая длинная в мире река
- D) материк, на котором находится самая большая по площади пустыня мира

2. Какой признак характеризует географическое положение Африки?

- A) пересекается экватором и линией перемены дат
- B) большая часть материка лежит в южном полушарии
- C) часть побережья Африки омывает самое соленое в мире море
- D) самая большая по площади пустыня мира лежит на юге материка

3. Низменности занимают _____% площади Африки

- A) 5
- B) 10
- C) 28
- D) 39

4. Найдите ошибку в списке выпуклых форм рельефа Африки:

- A) Афар
- B) Этбай
- C) Ахаггар
- D) Тибести

5. Какое из полезных ископаемых осадочного происхождения

- A) алмазы
- B) золото
- C) гранит
- D) фосфориты

6. Главной причиной засушливости климата на западном побережье Юж-ной Африки являются

- A) высокие горы
- B) восточные ветры
- C) холодное течение
- D) интенсивное испарение влаги

7. Самая полноводная река Африки

- A) Нил
- B) Нигер
- C) Конго
- D) Замбези

8. Найдите ошибочное высказывание

- A) озеро Ньяса самое глубокое на континенте
- B) озеро Виктория самое большое по площади в Африке
- C) Чад – бессточное озеро
- D) котловина озера Ньяса имеет тектоническое происхождение

9. Какое животное обитает во влажном экваториальном лесу

- A) гиена
- B) окапи
- C) марабу
- D) антилопа

10. Какое растение обитает в субтропическом климатическом поясе

- A) баобаб
- B) маслины
- C) орхидея
- D) вельвичия

Южная Америка

*Кузнецова Надежда Гилларьевна, учитель
географии, МБОУ СОШ №7 «Кадетская школа им.
М. Т. Калашникова»,
г. Воткинск, Удмуртская Республика*

1. Материк Южная Америка по площади занимает ... место среди матери-ков.

- A) 2
- B) 3

С) 4

Д) 5

2. От Северной Америки отделяет Южную Америку:

А) Карибское море

В) Панамский канал

С) пролив Дрейка

Д) Антильские острова

3. Укажите неверное сочетание «мыс - координаты»:

А) Гальинас - 12°ю.ш. 72°з.д.

В) Фроуард - 54°ю.ш. 72°з.д.

С) Париньяс - 5°ю.ш. 82°з.д.

Д) Кабу-Бранку - 7°ю.ш. 35°з.д.

4. Адмирал, совершивший 4 плавания в «Индию»:

А) А. Веспуччи

В) Х. Колумб

С) А. Гумбольдт

Д) Г. И. Лангсдорф

5. Кто исследовал внутренние районы Бразилии?

А) А. Веспуччи

В) Х. Колумб

С) А. Гумбольдт

Д) Г. И. Лангсдорф

6. Процессы, формирующие рельеф Востока материка:

А) землетрясения

В) разломы земной коры

С) вертикальные движения

Д) вулканизм

7. На языке инков горы Анды означают:

А) золото

В) медь

С) идол

Д) божество

8. К основным факторам формирования климата севера Южной Америки относятся:

А) влияние океанов

В) высокое атмосферное давление

С) близость Северной Америки

Д) близость Антарктиды

-
- Е) низкое атмосферное давление
 - Ф) высокогорный рельеф

9. Какому климатическому поясу соответствует климатограмма на рисун-ке 1?

- А) экваториальному
- В) субэкваториальному
- С) тропическому
- Д) субтропическому

10. Водопад Анхель находится на притоке реки:

- А) Параны
- В) Амазонки
- С) Сан-Франсиску
- Д) Ориноко

11. Река разбивается на 300 струй и потоков, разделенных скалистыми островками и густой растительностью - это один из красивейших во-допадов на Земле:

- А) Урубупунга
- В) Анхель
- С) Паулу-Афонсу
- Д) Игуасу

12. Установите соответствие.

- | | |
|----------------|--------------|
| 1. Леса | А) Патагония |
| 2. Степи | В) Пампа |
| 3. Полупустыни | С) Сельва |

13. Найдите ошибку. Индейцы первые в мире начали выращивать:

- А) кукурузу
- В) картофель
- С) арахис
- Д) фасоль
- Е) тыкву
- Ф) огурцы
- Г) томаты

14. В результате процесса смещения рас на материке появилась новая группа народов – самбо. Это ...

- А) потомки от браков европейцев и индейцев
- В) потомки от браков индейцев и негров
- С) потомки от браков европейцев и негров

15. Установите соответствие.

- | | |
|----------|--------------------------|
| 1) Мате | A) Сельские жители пампы |
| 2) Гаучо | B) Побережье в Перу |
| 3) Кечау | C) Индейский народ |
| 4) Коста | D) Парагвайский чай |

A) Какими цифрами на карте обозначены природные объекты:

- мыс Гальинас
- Магелланов пролив
- пустыня Атакама
- река Сан-Франсиску

ИТОГОВЫЙ ТЕСТ

*Ханжина Галина Аркадьевна,
МБОУ «Лицей №2»
г. Нижневартовск*

Часть 1

1. Выберите правильное утверждение:

- A) земная кора состоит из материковой и океанической
- B) материковая и океаническая земная кора имеют одинаковую толщину
- C) в океанической земной коре отсутствует слой гранита
- D) океаническая кора имеет большую мощность, чем материковая

2. Материковым шельфом называется

- A) прибрежная часть океанического дна с глубинами до 200 метров
- B) осадочный чехол древних платформ
- C) базальтовый слой земной коры
- D) узкое и длинное океаническое понижение

3. Распределите приведенные ниже географические объекты на горы (а), равнины (б)

- A) Альпы,
- B) Арвийское,
- C) Гималаи,
- D) Кавказ,
- E) Западно Сибирская

4. Горы Пиренеи расположены в

- A) Австралии
- B) Европе
- C) Южной Америке
- D) Северной Америке

5. Остров Занзибар расположен у берегов

- A) Австралии
- B) Африки
- C) Южной Америки
- D) Евразии

6. На границах литосферных плит наблюдаются:

- A) только землетрясения
- B) землетрясения и вулканы
- C) гейзеры, землетрясения и вулканы
- D) вулканы и гейзеры

7. Установите правильность в последовательность образования гор

- A) Гималаи
- B) Скандинавские
- C) Кордильеры
- D) Уральские

8. Какой тип земной коры располагается под равнинами?

- A) платформы
- B) складчатые пояса
- C) щиты
- D) зоны разломов

9. Мощность океанического типа земной коры составляет:

- A) 5-10км
- B) 35-70км
- C) 70-150км
- D) 7 - 35км

10. Какая из перечисленных территорий расположена в пределах сейсми-ческого пояса?

- A) остров Сахалин
- B) острова Новая Земля
- C) полуостров Таймыр
- D) Западно Сибирская равнина

11. Большая часть Австралии находится в климатическом поясе

- A) субтропическом
- B) тропическом
- C) субэкваториальном
- D) экваториальном

12. Какое из следующих утверждений является верным?

- A) Нижняя, наиболее плотная часть атмосферы высотой до 18 км называется стратосферой.
- B) В составе атмосферы преобладает азот
- C) содержание кислорода в составе атмосферы - 50%
- D) тропосфера - верхняя часть атмосферы

13. Наиболее ярко смена времен года выражена в

- A) экваториальном поясе
- B) тропическом поясе
- C) умеренном поясе
- D) арктическом поясе

14. При движении от полюсов к экватору количество солнечного тепла, получаемого территорией:

- A) уменьшается
- B) увеличивается
- C) не изменяется

15. Минимальное количество осадков выпадает:

- A) в экваториальном климатическом поясе
- B) в умеренном климатическом поясе
- C) в тропиком климатическом поясе
- D) в субтропиком климатическом поясе

16. К постоянным ветрам умеренных широт относятся:

- A) пассаты
- B) западные ветры
- C) стоковые
- D) бризы

17. Если в климатическом поясе в течение всего года господствует одна воздушная масса, то это:

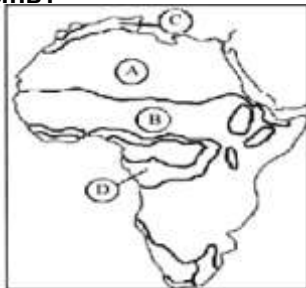
- A) основной
- B) переходный

18. Если в климатическом поясе в течение года господствуют экваториально-альная и тропическая воздушные массы, то это ... пояс:

- A) экваториальный
- B) субэкваториальный
- C) арктический
- D) субтропический

19. Какой буквой обозначена на карте Африки природная зона полупустынь и пустынь?

- A
- B
- C
- D



20. Какая природная зона отсутствует на материках Южного полушария?

- A) жестколистные вечнозелёные леса
- B) саванны и редколесья
- C) полупустыни и пустыни
- D) тундра и лесотундра

Часть 2

1. Установите соответствие между территориями Земли и именами путешественников, которые их исследовали.

ТЕРРИТОРИЯ

ПУТЕШЕСТВЕННИКИ

Антарктида

A) Ф. Магеллан и Марко Поло

Алеутские острова

B) В. Беринг и А. Чириков

Центральная Азия

C) Р. Амундсен и Р. Скотт

D) П.П. Семенов-Тянь-Шанский
и Н.М. Пржевальский

2. Определите, каким из поясов давления соответствуют определенным географическим широтам:

умеренные широты

A) пояса низкого давления

полярные широты

B) пояса высокого давления

3. Сезонными ветрами являются:

- A) бризы
- B) пассаты

- C) западные
- D) муссоны

4. Определите, какие современные материки расположены на месте Лав-разии:

- A) Евразия
- B) Африка
- C) Сев. Америка
- D) Южная Америка
- E) Австралия
- F) Антарктида

5. Как вы считаете, где земная кора имеет наибольшую толщину?

- A) в Марианском желобе
- B) в Гималаях
- C) на Западно - Сибирской низменности
- D) в Андах

Тесты по географии

8 класс

Географическое положение России

Грибова Валентина Фёдоровна,

учитель географии, МОУ

«Калитинская СОШ»

1. Россия расположена:

- A) в северном и западном полушариях;
- B) в северном и восточном полушариях;
- C) в северном, восточном и западном полушариях;
- D) только в северном полушарии.

2. Найдите соответствие:

Крайние точки России:

- | | |
|---------------|------------------------------|
| A) северная; | 1) м. Дежнёва; |
| B) южная; | 2) м. Челюскин; |
| C) западная; | 3) г. Базардюзю; |
| D) восточная; | 4) песчаная коса (Куршская). |

3. На каком из островов находится крайняя восточная точка России?

- A) остров Ратманова
- B) остров Рудольфа
- C) остров Крузенштерна
- D) остров Святого Лаврентия

4. Самая северная точка России находится:

- A) в архипелаге Северная Земля
- B) в архипелаге Шпицберген
- C) в архипелаге Земля Франца Иосифа
- D) в архипелаге Новая Земля

5. На границе, с каким из перечисленных государств расположена крайняя западная точка России?

- A) Норвегия
- B) Молдова
- C) Эстония
- D) Польша

6. Какое утверждение о крайних точках России является верным?

- A) Крайняя южная точка находится в Дагестане на границе с Азербайджаном.
- B) Крайняя восточная материковая точка находится на полуострове Камчатка.
- C) Крайняя северная материковая точка находится на полуострове Ямал.
- D) Крайняя западная точка расположена на песчаной косе Гданьского залива Баренцева моря.

7. С каким из перечисленных государств Россия имеет самую длинную по протяжённости сухопутную границу?

- A) Казахстан
- B) Монголия
- C) Белоруссия
- D) Финляндия

8. С какой из стран Россия не имеет сухопутной границы?

- A) Украина
- B) Норвегия
- C) Япония
- D) Эстония

9. Сухопутную границу с Россией имеют:

- A) Азербайджан, Киргизия
- B) Польша, Белоруссия
- C) Монголия, Молдавия
- D) Туркмения, Грузия

10. Какое утверждение о географическом положении России является верным?

- A) На северо-западе Россия граничит с Норвегией и Швецией.
- B) На юго-востоке Россия граничит с Украиной.
- C) Крайняя северная точка страны находится на полуострове Таймыр.
- D) Протяжённость морских границ России больше сухопутных.

Материки, океаны, народы и страны

*Бочкарева Ольга Сергеевна,
учитель географии, МОУ-
СОШ №1 г. Аткарска*

1. Какую часть поверхности Земли занимает Мировой океан?

- A) 1/2
- B) 4/5
- C) 3/4
- D) 1/8

2. В каком море самая солёная вода?

- A) Балтийском
- B) Охотском

- С) Красном
- D) Средиземном

3. Самый большой материк на Земле:

- A) Евразия
- B) Австралия
- С) Южная Америка
- D) Африка

4. Самый крупный остров, расположенный у берегов Африки:

- A) о. Тасмания
- B) о. Сицилия
- С) о. Мадагаскар
- D) о. Врангеля

5. Определите горную систему, отделяющую Европу от Азии,

- A) Кавказские горы
- B) Уральские горы
- С) Гималаи
- D) горы Альпы

6. Озеро, расположенное в центре Сахары:

- A) озеро Виктория
- B) озеро Танганьика
- С) озеро Чад
- D) озеро Ньяса

7. На реке Замбези расположен один из крупнейших водопадов мира:

- A) Анхель
- B) Виктория
- С) Ниагарский
- D) Игуасу

8. Что образуется в тропосфере?

- A) облака, дождь, снег, град, ветер
- B) полярное сияние
- С) серебристые облака
- D) тайфуны, смерчи

9. Какой материк ближе всего расположен к Антарктиде:

- A) Африка
- B) Южная Америка
- С) Австралия
- D) Евразия

10. Выберите теплое течение в Мировом океане:

- A) Перуанское
- B) Гольфстрим
- C) Лабрадорское
- D) течение Западных ветров

11. Каким океаном омывается материк Африка с запада?

- A) Атлантическим
- B) Индийском
- C) Тихим
- D) Северным Ледовитым

12. Какое животное не встречается в Австралии?

- A) кенгуру
- B) жираф
- C) коала
- D) ехидна

13. Укажите остров, расположенный в Индийском океане?

- A) Гренландия
- B) Тасмания
- C) Мадагаскар
- D) Сахалин

14. Какие государства расположены на материке Евразия?

- A) Бразилия, Чили, Колумбия
- B) Россия, Китай, Индия
- C) Мексика, США, Куба.
- D) Конго, Ливия, Австралия

15. Укажите самую крупную реку Австралии:

- A) Муррей
- B) Нил
- C) Амазонка
- D) Волга

16. В каком городе США расположен детский парк Диснейленд?

- A) Вашингтон
- B) Лос-Анджелес
- C) Чикаго
- D) Сан-Франциско

Исследование территорий России

Уразалиева Алтыншаш

Джанбербаевна, учитель географии,

МБОУ г. Астрахани «СОШ №27»

- 1. На берег Тихого океана первыми вышли казаки из отряда:**
 - A) Е. Хабаров
 - B) Седова
 - C) И. Москвитина
 - D) Атласова

- 2. Город, посёлок, субъект РФ назван в честь русского землепроходца:**
 - A) И. Камчатого
 - B) Е Хабарова
 - C) Атласова
 - D) С. Челюскина

- 3. Закон географической зональности впервые сформулировал русский учёный:**
 - A) Докучаев
 - B) Н. Татищев
 - C) Обручев
 - D) Вилькицкий

- 4. Крайнюю северную точку материка Евразии открыл:**
 - A) Д. и Х. Лаптевы
 - B) Чириков
 - C) С. Челюскин
 - D) Беринг

- 5. I Камчатская экспедиция под руководством Беринга была организова-на по:**
 - A) указу Петра I
 - B) проекту М. Ломоносова
 - C) предложению русского Географического общества
 - D) инициативе землепроходцев

- 6. В 1932 году за одну навигацию Северный морской путь прошла экспе-диция под командованием:**
 - A) О. Ю. Шмидта
 - B) Вилькицкого
 - C) Я. Седова
 - D) Дж. Де-Лонга

7. Русское Географическое общество было организовано:

- A) в 1701
- B) в 1845
- C) в 1741
- D) в 1910

8. Маршрут Северного морского пути составил русский учёный:

- A) М. Ломоносов
- B) Н. Татищев
- C) Докучаев
- D) Н.Э. Норденшельд

9. Столицей Сибири считался город:

- A) Новосибирск
- B) Иркутск
- C) Тобольск
- D) Красноярск

10. Поморы плавали на Мангазею за:

- A) пушниной
- B) золотом
- C) древесиной
- D) янтарём

Горжусь своим Отечеством

*Муртазина Надежда Александровна,
учитель географии, МБОУ СОШ №12, г.
Ноябрьск, Тюменская область, ЯНАО*

1. Это самое холодное море, омывающее Россию:

- A) Баренцево
- B) Восточно-Сибирское
- C) Карское
- D) Лаптевых

2. Самая северная материковая точка России:

- A) мыс Челюскин
- B) мыс Диксон
- C) мыс Флигели
- D) с. мыс Лопатка

3. Это самое горячее озеро России:

- A) Фумарольное
- B) Карымское
- C) Кроноцкое
- D) Курильское

4. Самый обеспеченный гидроэнергетическими ресурсами природный район РФ:

- A) Восточно-Европейская равнина
- B) Западная Сибирь
- C) Средняя и Северо-Восточная Сибирь
- D) Дальний Восток

5. Самая высокая вершина России:

- A) Народная
- B) Белуха
- C) Эльбрус
- D) Победа

6. Самое «промерзающее» из крупных озёр России:

- A) Ладожское
- B) Таймыр.
- C) Ханка
- D) Ильмень

7. С каким государством у России самая протяжённая в мире сухопутная граница:

- A) Финляндия
- B) Китай.
- C) Казахстан
- D) Украина

8. Самая большая река России, не имеющая стока в Мировой океан.

- A) Дон
- B) Волга
- C) Северная Двина
- D) Печора

9. Самое большое и глубокое море у берегов России.

- A) Берингово
- B) Чёрное
- C) Баренцево
- D) Восточно-Сибирское

10. Самый высокий действующий вулкан России:

- A) Карымская сопка
- B) Ключевская сопка
- C) Кроноцкая сопка
- D) Ичинская сопка

11. Самый северный архипелаг на нашей планете:

- A) Баффинова Земля
- B) Земля Франца-Иосифа
- C) Британские острова
- D) Алеутские острова

12. Какая российская плотина является самой мощной:

- A) Чебоксарская
- B) Саяно-Шушенская
- C) Богучанская
- D) Эвенкийская

13. Самая длинная река России, целиком протекающая по её территории:

- A) Обь
- B) Енисей
- C) Лена
- D) Амур

14. Самое мелководное море на Земле:

- A) Жёлтое
- B) Карибское
- C) Азовское
- D) Тасманово

15. Какая крепость нашей страны является самой крупной?

- A) Московский Кремль
- B) Нижегородский Кремль
- C) Тульский Кремль
- D) Новгородский детинец

16. Самая длинная горная система России:

- A) Уральские горы
- B) Хибины
- C) Алтай
- D) Сихотэ-Алинь

17. В каком городе России находятся самые большие башенные часы:

- A) Москва
- B) Санкт-Петербург

- С) Казань
- Д) Нижний Новгород

18. Самое большое озеро:

- А) Байкал
- В) Каспийское
- С) Ладожское
- Д) Онежское

19. На этом архипелаге располагаются самые крупные ледники России:

- А) Северная Земля Острова
- В) Белая Земля
- С) Новая Земля
- Д) Земля Франца Иосифа

20. Самый высокий водопад в России находится на острове:

- А) Сахалин
- В) Врангеля
- С) Итуруп
- Д) Вайгач

21. Самые высокие приливы у берегов России:

- А) Гижигинская губа
- В) Тауйская губа
- С) Пенжинская губа
- Д) Обская губа

22. Самые необычные в России нефтепромыслы находятся близ:

- А) города Махачкала (Дагестан)
- В) поселка Ярега (Коми)
- С) города Ноябрьск (ЯНАО)
- Д) города Ханты-Мансийск (ХМАО)

23. Поэт Р. Державин о самом крупном в России равнинном водопаде:

*«Алмазна сыплется гора С
высот четыремя скалами.
Жемчугу бездна и сребра
Кипит внизу, бьет вверх буграми...»*

О каком водопаде идет речь:

- А) Гирвач
- В) Кивач
- С) Куми
- Д) Ахенокоски

24. Самая большая низменная равнина России:

- A) Прикаспийская
- B) Западно-Сибирская
- C) Колымская
- D) Северо-Сибирская

25. Самый сейсмоактивный район России:

- A) Урал
- B) Курильские острова
- C) Алтай
- D) Кавказ

26. Это самый длинный пролив у берегов России:

- A) Берингов
- B) Татарский
- C) Лаперуза
- D) Крузенштерна

27. Самое глубокое озеро мира:

- A) Ильмень
- B) Имандра
- C) Байкал
- D) Таймыр

28. Самое крупное скопление гейзеров (Долина Гейзеров) России:

- A) остров Сахалин
- B) полуостров Камчатка
- C) полуостров Таймыр
- D) Курильские острова

29. Самая извилистая река России:

- A) Ветлуга
- B) Сережа
- C) Пьяна
- D) Лотинка

30. Самый большой полуостров в России:

- A) Камчатка
- B) Таймыр
- C) Чукотка
- D) Кольский

31. Крупнейшее месторождение нефти и газа в России находится:

- A) на о. Сахалин
- B) в Прикаспийской низменности

- C) на шельфе Баренцева моря
- D) в Западной Сибири

32. У какой реки в России самая большая дельта:

- A) Волга
- B) Северная Двина
- C) Лена
- D) Обь

33. Самое холодное место (самые низкие t) в России:

- A) Омолон
- B) Оймякон
- C) Усть-Щугор
- D) Верхоянск

34. Самый большой остров нашей страны:

- A) Врангеля
- B) Сахалин
- C) Колгуев
- D) Беринга

35. Самый большой залив, омывающий берега России:

- A) Шелихов
- B) Анадырский
- C) Олюторский
- D) Сахалинский

36. Самое распространенное лиственное дерево в России:

- A) осина
- B) дуб
- C) берёза
- D) клён

37. Самая высокая статуя в стране:

- A) Родина-мать
- B) Памятник Ленину
- C) Монумент Победы
- D) Памятник Петру 1

38. Самая «переменчивая» по направлению течения река России:

- A) Сура
- B) Урал
- C) Белая
- D) Шуя

Природные зоны России

Архипова Наталья Анатольевна,

учитель географии, МОУ

«Калитинская СОШ»

1. Основной причиной исчезновения некоторых видов животных в настоящее время является...

- A) браконьерство и нерегулируемая охота
- B) разрушение человеком естественных мест обитания организмов
- C) глобальное потепление климата
- D) появление озоновых дыр

2. На видовой состав органического мира конкретной территории определяющее влияние оказывает...

- A) рельеф
- B) климат
- C) внутренние воды
- D) особенности почвенного покрова

3. Самым крупным из наземных хищников является ...

- A) уссурийский тигр
- B) белый медведь
- C) снежный барс
- D) полярный волк

4. Бумагу изготавливают главным образом из древесины...

- A) сосны
- B) ели
- C) березы
- D) осины

5. Наиболее богата промыслово-охотничьими ресурсами зона...

- A) тундры
- B) тайги
- C) смешанных и широколиственных лесов
- D) степей

6. Среди хвойных пород к востоку от Енисея преобладает...

- A) ель
- B) сосна
- C) лиственница
- D) пихта

7. Зона арктических пустынь располагается в основном...

- A) на островах Северного Ледовитого океана
- B) на полуостровах
- C) во внутриматериковых районах

8. Зоны тундр и лесотундр в России дальше всего на юг опускаются...

- A) в Сибири
- B) на Дальнем Востоке
- C) в европейской части

9. Тундры занимают ... территории России

- A) 10 %
- B) 30 %
- C) 20 %

10. Высокое заболачивание в зоне тундр связано в первую очередь с...

- A) большим количеством осадков
- B) особенностями геологического строения
- C) низкой испаряемостью и наличием многолетней мерзлоты

11. Арктические пустыни располагаются в ... климатическом поясе

- A) арктическом
- B) субарктическом
- C) умеренном

12. Тундры располагаются в ... климатическом поясе

- A) арктическом
- B) субарктическом
- C) умеренном

13. Безлесье тундр обусловлено...

- A) низкими температурами и коротким безморозным периодом
- B) наличием многолетней мерзлоты
- C) низкими температурами, многолетней мерзлотой и сильными ветрами

14. Наибольшее видовое разнообразие в зоне тундр характерно для...

- A) млекопитающих
- B) птиц
- C) рептилий

15. Для зоны тундр характерны следующие животные: ...

- A) песец, белый медведь, северный олень
- B) белый медведь, лемминг, песец
- C) лемминг, песец, северный олень

-
- 16. Причиной смены природных зон в горах является изменение климата в зависимости от...**
- A) географической широты
 - B) высоты места
 - C) удаленности территории от океана
- 17. Зона полупустынь и пустынь расположена на ... Восточно-Европейской равнины**
- A) северо-востоке
 - B) северо-западе
 - C) юго-востоке
 - D) юго-западе
- 18. Зона полупустынь и пустынь занимает в России часть ... низменности**
- A) Северо-Сибирской
 - B) Прикаспийской
 - C) Лено-Виллюйской
 - D) Яно-Индигорской
- 19. Главной причиной формирования зоны пустынь и полупустынь является...**
- A) избыток тепла
 - B) недостаток влаги
 - C) скудное увлажнение
 - D) бедные перегноем почвы
- 20. Наибольшие площади степи и лесостепи занимают в...**
- A) Европейской части России и Западной Сибири
 - B) Западной и Восточной Сибири
 - C) Восточной Сибири
- 21. Лесостепи и степи России располагаются в ... климатическом поясе**
- A) субарктическом
 - B) умеренном
 - C) субтропическом
- 22. Главная причина безлесья степей состоит в...**
- A) сильных ветрах
 - B) высоких летних температурах
 - C) недостаточном увлажнении
- 23. Водная и ветровая эрозия почв более характерна для зоны...**
- A) лесов
 - B) степей
 - C) лесостепей

24. Основные сельскохозяйственные угодья лесостепей и степей ...

- A) сенокосы
- B) пашня
- C) пастбища

25. Самым распространенным типом растительности на территории Рос-сии является:

- A) лесной;
- B) тундровый;
- C) степной;
- D) болотный.

26. Существование безлесных зон на юге России обусловлено прежде все-го:

- A) суровым климатом;
- B) большой сухостью;
- C) особенностями почвенного покрова;
- D) хозяйственной деятельностью человека.

27. Значительные природные различия на территории тайги объясняются прежде всего:

- A) положением в двух климатических областях;
- B) континентальностью климата;
- C) избыточным увлажнением;
- D) характером рельефа.

Внутренние воды и водные ресурсы

Рудомётова Наталья

Петровна, учитель географии,

МБОУ г. Астрахани СОШ №23

1. Наибольшая часть территории России принадлежит бассейну ...

- A) Северного Ледовитого океана
- B) Тихого океана
- C) Атлантического океана
- D) внутреннего стока

2. Подавляющее большинство рек России имеет смешанное питание с пре-обладанием ...

- A) грунтового
- B) снегового

-
- C) ледникового
 - D) дождевого

3. По годовому стоку Лена ...

- A) превышает Енисей и Обь
- B) уступает Енисею и превышает Обь
- C) превышает Енисей и уступает Оби
- D) уступает Енисею и Оби

4. Дождевое питание является преобладающим для рек ...

- A) европейской части
- B) юга Дальнего Востока
- C) Западной Сибири
- D) Восточной Сибири

5. Благодаря какому питанию реки не пересыхают во время ледостава

- A) Снеговому
- B) Ледниковому
- C) Дождевому
- D) Грунтовому

6. Озера с ледниковым происхождением котловины расположены главным образом на ..

- A) северо-западе европейской части
- B) юге Западной Сибири
- C) юго-востоке Восточной Сибири
- D) юге Восточно -Европейской равнины

7. Онежское и Ладожское озера по типу происхождения котловины относятся к ...

- A) ледниковым (моренным)
- B) старичным
- C) ледниково-тектоническим
- D) тектоническим

8. Наибольшей уникальностью и разнообразием характеризуется органический мир озера ...

- A) Онежского
- B) Ханка
- C) Ильмень
- D) Байкал

9. Основной причиной отсутствия наводнений на Волге является ...

- A) недостаток грунтовых вод
- B) равномерное распределение осадков в течение года

- С) наличие водохранилищ
- Д) малое количество снега на территории бассейна

10. Наиболее сильная заболоченность в России характерна для бассейнов ...

- А) Ангары и Енисея
- В) Амура и Уссури
- С) Волги и Оки
- Д) Оби и Иртыша

Кавказские горы

*Овчарова Людмила Леонидовна,
учитель географии, ОГБОУ КШИ
«Северский кадетский корпус»*

1. Между какими морями находятся эти горы?

- А) Каспийским и Аральским морями
- В) Черным и Азовским морями
- С) Каспийским и Черным морями
- Д) Черным и Аральским морями

2. Между какими полуостровами?

- А) между Апшеронским и Пиренейским
- В) между Таманским и Керченским
- С) между Крымским и Апшеронским
- Д) между Таманским и Апшеронским

3. Как называется самая южная точка России?

- А) Дыхтау
- В) Эльбрус
- С) Казбек
- Д) Базардюзю

4. Какая складчатость лежит в основании гор?

- А) Кайнозойская
- В) Герцинская
- С) Мезозойская
- Д) Каледонская

5. Как называются гряды хребтов, у которых один склон крутой, а другой пологий?

- А) Лакколиты
- В) Куэсты

-
- C) Гольцы
 - D) Грабен

6. Определи соответствие республика – столица:

- | | |
|-----------------------------|----------------|
| 1. Дагестан | A) Магас |
| 2. Ингушетия | B) Махачкала |
| 3. Адыгея | C) Майкоп |
| 4. Алания (Северная Осетия) | D) Нальчик |
| | E) Владикавказ |

7. Какие станы граничат с Россией на Кавказе?

- A) Армения
- B) Грузия
- C) Турция
- D) Азербайджан
- E) Казахстан
- F) Абхазия
- G) Иран
- H) Южная Осетия

8. Как называется город в котором погиб Лермонтов?

- A) Кисловодск
- B) Пятигорск
- C) Ессентуки
- D) Георгиевск

9. У какой горы произошла дуэль поэта?

- A) Машук
- B) Фишт
- C) Дыхтау
- D) Бештау

10. Найти соответствия:

Западный Кавказ Восточный Кавказ

- A) Атмосферных осадков выпадает от 220-250 мм в год.
- B) В горных долинах высота снежного покрова зимой 10-12 метров.
- C) Частые пыльные или черные бури.
- D) Индоло-Кубанский предгорный прогиб.
- E) Частые снежные лавины в горах
- F) Обилие тепла, света и влаги.
- G) Частые засухи и суховеи.
- H) В предгорьях преобладание плодородных черноземных почв.

- I) В предгорьях преобладание засушливых каштановых почв.
- J) Зона интенсивного земледелия.
- K) зона пастбищного животноводства.

Часовые пояса России

*Зайцева Ирина Анатольевна, учитель географии
высшей категории, МБОУ гимназии №39 г. Уфы,
Республика Башкортостан*

1. Земной шар разделен меридианами на:

- A) 23 часовых пояса
- B) на 24
- C) на 25
- D) на 20

2. Разница между часовыми поясами составляет:

- A) 15 градусов долготы
- B) 2 часа времени
- C) 1 час времени
- D) 15 градусов широты

3. Поясное время впервые было введено:

- A) в Канаде
- B) в США
- C) в Великобритании
- D) в СССР

4. За нулевой часовой пояс принят:

- A) меридиан 180 градусов
- B) Гринвичский меридиан
- C) меридиан 90 градусов
- D) меридиан 100 градусов

5. Начало новых суток – меридиан:

- A) 90 градусов
- B) 180 градусов
- C) 0 градусов
- D) 100 градусов

6. Линия перемены дат – это меридиан:

- A) 0 градусов
- B) 90 градусов

С) 180 градусов

Д) 100 градусов

7. Пересекая линию перемены дат, меняются:

А) даты

В) часы

С) минуты

Д) ничего не происходит

8. Какие утверждения верны:

А) время каждого часового пояса отличается от времени соседних на 2 часа

В) время каждого часового пояса больше, чем в последующем, и меньше, чем в предыдущем

С) время каждого часового пояса отличается от времени соседних на 1 час

Д) больше, чем в предыдущем, и меньше, чем в последующем

9. В каждый момент суток одинаковое время бывает:

А) в точках, расположенных на одном меридиане

В) в точках, расположенных на одной параллели

С) оно одинаково вдоль всего меридиана от Северного до Южного полюса

Д) в точках, расположенных на экваторе

10. За 1 час Земля поворачивается:

А) на 20 градусов

В) на 15 градусов

С) на 10 градусов

Д) на 30 градусов

11. Какова разница во времени между пунктами, удаленными друг от друга на:

А) 15 градусов -

В) на 30 градусов -

С) на 60 градусов -

Д) на 1 градус -

Е) на 5 градусов -

Внутренние воды России

*Левченко Алексей Иванович, учитель
географии, МАОУ Омутинская СОШ №2,
Тюменская область, Омутинский район*

1. Место впадения реки в море, озеро или другую реку называется:

- A) пойма
- B) дельта
- C) устье
- D) исток

2. Граница между бассейнами двух или нескольких рек называется:

- A) речная система
- B) водораздел
- C) долина
- D) изобата

3. Территория, с которой вода стекает в данную реку путём поверхностно-го и подземного стока, называется:

- A) падение реки
- B) речная система
- C) равнина
- D) бассейн реки

4. Самый низкий уровень воды в реке называется:

- A) наводнение
- B) обмеление
- C) паводок
- D) межень

5. Воронкообразное устье реки, расширяющееся в сторону моря, называется:

- A) дельта
- B) эстуарий
- C) меандра
- D) старица

6. Объём воды, который протекает за определённое время через поперечное сечение реки, называется:

- A) расход воды
- B) годовой сток

-
- C) водоносность реки
 - D) межень

7. Работа реки по расширению и изменению долины называется:

- A) речной сток
- B) речная эрозия
- C) террасирование
- D) оползень

8. Превышение отметки истока над отметкой устья называется:

- A) уклон реки
- B) падение реки
- C) абсолютная высота
- D) относительная высота

9. Часть речной долины, затопливаемая водой при половодьях и паводках, называется:

- A) русло
- B) дельта
- C) пойма
- D) терраса

10. Углубление в речной долине, по которому река течёт постоянно, называется:

- A) русло
- B) пойма
- C) водораздел
- D) дельта

Климат

*Овчинникова Ольга Ивановна,
учитель географии, МБОУ СОШ
№15 Тюменская обл., Сургут*

1. Суммарная радиация - это:

- A) излучение солнцем тепла и света
- B) количество солнечной энергии, достигающие поверхности Земли
- C) все виды солнечного излучения
- D) радиационный баланс

2. Виды солнечной радиации:

- A) рассеянная
- B) солнечная
- C) прямая
- D) поглощенная

3. Наибольшую отражательную способность имеют:

- A) песок
- B) лес
- C) чернозем
- D) снег

4. Воздушные массы, влияющие на климат России:

- A) экваториальная
- B) арктическая
- C) умеренная
- D) антарктическая

5. Морской воздух умеренных широт господствует над территориями:

- A) Восточно-Европейской равнины
- B) На юге Дальнего Востока
- C) Среднесибирского плоскогорья
- D) П-ова Таймыр

6. Какую погоду приносит циклон?

- A) Ясную, морозную погоду
- B) Снег потепление
- C) Дождь, похолодание
- D) Ясную, теплую погоду

7. Полюс холода северного полушария:

- A) Якутск
- B) Оймякон
- C) Верхоянск
- D) Иркутск

8. Территория России лежит в пределах климатических поясов:

- A) Арктического и умеренного
- B) Субарктического и субтропического
- C) Арктического и субантарктического
- D) Тропического и субтропического

9. Установите соответствие:

Тип климата	Территория
1) Умеренно-континентальный	А) Западно-Сибирская равнина
2) Континентальный	В) Среднесибирское плоскогорье
3) Резко-континентальный	С) Восточно-Европейская равнина
4) Муссонный	Д) п-ов Камчатка
	Е) Южная часть Дальнего Востока

10. Неблагоприятные климатические явления:

- А) засуха
- В) землетрясение
- С) гололедица
- Д) ураган

Северный Кавказ

*Сивкова Светлана Викторовна, учитель географии,
МКОУ Октябрьской СОШ Ольховского
муниципального р-на, Волгоградской обл.*

1. Кавказские горы сформировались в эпоху:

- А) герцинской складчатости
- В) каледонской складчатости
- С) альпийской складчатости
- Д) байкальской складчатости

2. Какие из перечисленных горных вершин расположены на Кавказе?

- А) Казбек, Фишт, Победа, Ямантау
- В) Белуха, Фишт, Казбек, Народная
- С) Домбай-Ульген, Фишт, Шхара, Казбек
- Д) Победа, Мунку-Сардык, Казбек, Белуха

3. Наивысшей точкой Кавказских гор является потухший вулкан:

- А) Эльбрус;
- В) Машук;
- С) Победа;
- Д) Народная;

4. На Кавказе хребты Пастбищный и Скалистый являются:

- А) куэстами;
- В) лакколитами;

- С) грабенами;
- D) сбросами.

5. Крупнейшими реками Кавказа являются:

- A) Тура;
- B) Кубань;
- С) Вычегда;
- D) Терек.

6. В низовьях Кубани и Терека находятся плавни. Это –

- A) край песков, болот и сосен;
- B) заболоченные, покрытые камышом участки земли;
- С) обломки горных пород, переносимые ледником;
- D) массовая гибель речной рыбы.

7. Найдите ошибку в перечне характеристик Кавказа:

- A) на Большом Кавказе добывают полиметаллические руды, молибденовые руды, вольфрамовые руды, ртутные руды;
- B) в Предкавказье открыты месторождения нефти и газа;
- С) наиболее урожайной культурой на Кавказе является лен;
- D) Кавказ район массового отдыха, лечения, туризма.

8. Какая часть Кавказа более увлажнена?

- A) южные районы;
- B) восточные районы;
- С) северные районы;
- D) западные районы.

9. Как называется теплый, а иногда и горячий ветер, нисходящий с гор в долины, возникающий при перетекании воздуха через гребень хребта?

- A) бора;
- B) фен;
- С) торнадо;
- D) суховей.

10. Какие из перечисленных заповедников располагаются на Кавказе?

- A) Тебердинский;
- B) Ильменский;
- С) Вишерский;
- D) Эрзи.

11. Выберите правильную последовательность смены природных зон от подножия к вершине?

- A) хвойные леса – широколиственные леса – вечные снега;
- B) степи- субальпийские луга – хвойные леса – смешанные леса;

-
- С) смешанные леса – широколиственные леса – альпийские луга;
 - Д) широколиственные леса - смешанные леса - хвойные леса - субальпийские луга - альпийские леса – вечные снега.

12. Выберите города-курорты на Кавказе, знаменитые своими минераль-ными водами:

- А) Пятигорск;
- В) Ессентуки;
- С) Волгодонск;
- Д) Кисловодск.

Рельеф России

Акимова Надежда Вячеславовна, учитель географии, МОАУ «Лицей № 6» им. З. Г. Серазетдиновой г. Оренбурга

1. На какой из перечисленных территорий России наиболее вероятны зем-летрясения?

- А) остров Сахалин
- В) полуостров Таймыр
- С) острова Новая Земля
- Д) Кольский полуостров

2. Огромные валуны, встречающиеся на полях в северной части Восточно-Европейской равнины, попали туда в результате деятельности

- А) моря
- В) ледника
- С) ветра
- Д) текучих вод

3. Дюны относятся к формам рельефа, созданным

- А) ветровыми процессами
- В) текучими водами
- С) деятельностью ледников
- Д) вулканической деятельностью

4. Фундамент Сибирской платформы выходит на поверхность в виде ши-та

- А) Балтийского
- В) Алданского
- С) Украинского
- Д) Анабарского

5. Действующие вулканы в России расположены...

- A) на Кавказе
- B) на Урале
- C) на Камчатке и Курильских островах
- D) на Алтае

6. Самой высокой точкой Росси является гора

- A) Эльбрус
- B) Народная
- C) Казбек
- D) Белуха

7. По добыче какого из перечисленных полезных ископаемых выделяется Западная Сибирь?

- A) калийные соли
- B) природный газ
- C) медные руды
- D) бокситы

8. Барханы относятся к формам рельефа, созданным

- A) ветровыми процессами
- B) деятельностью ледников
- C) текучими водами
- D) вулканической деятельностью

9. Овраги относятся к формам рельефа, созданным

- A) ветровыми процессами
- B) деятельностью ледников
- C) текучими водами
- D) вулканической деятельностью

10. Высшая точка России расположена в пределах...

- A) Кавказа
- B) Алтая
- C) Саян
- D) Урала

11. Самый высокий из действующих вулканов России...

- A) Кроноцкая Сопка
- B) Ключевская Сопка
- C) Авачинская Сопка
- D) Шивелуч

География Ненецкого автономного округа

*Хатанзейская Ирина Николаевна,
учитель географии, МБОУ «СОШ
п. Харута», Ненецкий АО*

1. Крайние точки НАО имеют:

- А) южную широту и восточную долготу
- В) северную широту и западную долготу
- С) северную широту и восточную долготу
- Д) западную широту и северную долготу

2. Какими морями омывается территория Ненецкого АО:

- А) Беринговым и Карским
- В) Печорским, Белым, Баренцевым, Карским
- С) Печорским, Белым, Мезенским
- Д) Онежским, Карским, Двинским

3. Самая высокая точка Ненецкого АО:

- А) г. Нядэйта
- В) г. Народная
- С) г. Моховая
- Д) г. Море-из

4. Какие воздушные массы господствуют в течение года на территории НАО:

- А) круглый год – арктические
- В) субарктические и субтропические
- С) летом - умеренные, зимой - арктические
- Д) умеренные

5. Главной «водной артерией» округа является река:

- А) Северная Двина
- В) Печора
- С) Мезень
- Д) Вижас

6. Выделите тип почв, наиболее распространенный на территории НАО:

- А) серые лесные
- В) тундрово-глеевые
- С) дерново-подзолистые
- Д) каштановые

7. Выберите группу типичных представителей животного мира тундры:

- A) лось, бурый медведь, рысь
- B) дрофа, песчаный удавчик, кулан
- C) полярная сова, песец, олень, россомаха
- D) зебра, носорог, гепард

8. Выберите пару «растение- животное», в которой верно указаны «биоло-гические символы Ненецкого АО:

- A) родиола розовая - морж
- B) клевер - корова
- C) мох кукушкин лен - олень
- D) морошка - куропатка

9. Какой вред природе наносит прохождение тяжелой гусеничной техники по тундре:

- A) от шума транспортных средств разбегаются олени
- B) разрушается растительный покров, который в условиях Севера восстанавливается очень долго
- C) территория загрязняется выхлопными газами транспорта образуются глубокая колея
- D) разрушается и вымывается почва

10. Сколько заповедников создано на территории Ненецкого АО:

- A) 1
- B) 2
- C) 3
- D) 7

Географическое краеведение

*Даминева Альфия Фатыховна,
учитель географии и биологии,
МБОУ «СОШ с. Чесноковка»*

Перволюцкого района Оренбургской обл.

2. Общий Сырт – это:

- A) горы
- B) плоскогорье
- C) возвышенность
- D) плато

-
- 10. Самое высокое место в рельефе Оренбургской области:**
- A) гора Медвежий Лоб
 - B) хребет Накас
 - C) хребет Шайтан – Тау
 - D) Саринское плато
- 11. Одной из основных черт климата Оренбургской области является:**
- A) длительный весенний период и постепенный переход от зимы к лету
 - B) теплая зима, жаркое дождливое лето
 - C) мягкая зима, жаркое лето
 - D) короткий весенний период, быстрый переход от зимы к лету
- 12. Основную массу осадков в Оренбургской области приносят:**
- A) южные ветры
 - B) муссоны
 - C) ветры западного переноса
 - D) антициклоны
- 13. Максимальное количество осадков в Оренбургской области выпадает:**
- A) на Общем Сырте
 - B) на востоке
 - C) на хребте Малый Накас
 - D) на Урало – Тобольском плато
- 14. Коэффициент увлажнения в Оренбургской области:**
- A) 0, 8- 0,9
 - B) равен 1
 - C) равен 0
 - D) 0,2-0,3
- 15. Реки Оренбургской области относятся к бассейнам:**
- A) Атлантического и Северного Ледовитого океанов
 - B) Атлантического океана и Каспийского моря
 - C) Северного Ледовитого океана и Каспийского моря
 - D) только Каспийского моря
- 16. К рекам бассейна Волги в Оренбургской области относятся:**
- A) Большой Кинель
 - B) Сакмара
 - C) Илек
 - D) Салмыш
- 17. Река Тобол относится к бассейну:**

- A) Каспийского моря
- B) Атлантического океана

- E) Северного Ледовитого океана
- F) Индийского океана

16. Для рек Оренбургской области характерны:

- A) крайняя неравномерность годового стока
- B) высокий подъем по время летних паводков
- C) значительная заболоченность поймы
- D) водопады и пороги

17. Шиханы – это:

- A) сыртовые увалы
- B) останцы на вершинах сыртов
- C) сопки низкогорий
- D) скальные обрывы

18. Основными типами почв в Оренбургской области являются:

- A) черноземы типичные
- B) черноземы южные
- C) темно – каштановые
- D) светло – каштановые

19. Преобладающие типы ландшафтов в Оренбургской области:

- A) степные
- B) лесостепные
- C) полупустынные
- D) пойменные

20. Оренбургской «Швейцарией» называют:

- A) Бузулукский бор
- B) ландшафты Губерлинских гор
- C) район озера Развал
- D) долину реки Урал

21. Крупный грызун, обитающий в основном на востоке области, имеющий промысловое значение:

- A) норка
- B) бобр
- C) суслик
- D) сурок

Рельеф и недра России

*Владимирова Любовь Викторовна,
учитель географии, МОУ СОШ №2 г.
Пугачева Саратовская обл.*

1. В рельефе России преобладают:

- A) горы
- B) равнины
- C) возвышенности
- D) плоскогорья

2. Моренный рельеф образовался в результате геологической деятельности ...

- A) ветра
- B) оползней
- C) ледника
- D) текучих вод

3. Южнее всего четвертичные покровные оледенения на территории России распространялись ...

- A) на Дальнем Востоке
- B) на Камчатке
- C) в европейской части
- D) в Сибири

4. В России районами проявления сильных землетрясений являются ...

- A) Камчатка, Курильские острова, Кавказ
- B) Кольский полуостров, Западно-Сибирская низменность
- C) Урал, Среднесибирское плоскогорье
- D) Восточно-Европейская равнина

5. Самым крупным действующим вулканом на территории России является ...

- A) Авчинская сопка
- B) Казбек
- C) Ключевская сопка
- D) Кроноцкая сопка

6. Полезными ископаемыми, преобладающими в горах, являются ...

- A) горючие (газ, нефть, уголь)
- B) метаморфические
- C) рудные магматические
- D) рудные осадочные

7. Гора Эльбрус, являющаяся самой высокой точкой России, имеет высоту ...

- A) 5642 м
- B) 1895 м
- C) 5895 м
- D) 6900 м.

8. Горы в России занимают около ...

- A) половины территории
- B) двух трети территории
- C) третьей части территории
- D) четвертой части территории

9. В виде, каких щитов выходит на поверхность фундамент Сибирской платформы?

- A) Алданского и Анабарского
- B) Балтийского и Воронежского
- C) Алданского и Балтийского
- D) Балтийского и Анабарского

10. Какая складчатость протекала в первой половине палеозоя?

- A) Альпийская
- B) Мезозойская
- C) Герцинская
- D) Каледонская

11. В мезозойскую складчатость образовалось складчатое основание ...

- A) Урала, Алтая, Саян
- B) Срединный хребет
- C) Кавказа, Коряжского нагорья
- D) хребтов Черского, Верхоянского, Сихотэ-Алиня

Итоговый тест

*Головкина Ирина Борисовна,
МКОУ «Чернореченская СОШ», п.
Черноречье, Челябинская обл.*

1. Укажите крайнюю северную материковую точку России

- A) Мыс Челюскин
- B) Мыс Диксон
- C) Мыс Флигели
- D) Мыс Лопатка

-
- 2. Выявите, какое время показывают часы в Москве (II часовой пояс), если известно, что в г. Норильске (VI часовой пояс) в данный момент 20 ч.**
- A) 16 ч.
 - B) 24 ч.
 - C) 2 ч.
 - D) 17 ч.
- 3. Западная Сибирь, Волго-Уральский район, Европейский Север, шельф Сахалина - это крупные ресурсные районы. Определите, запасы какого полезного ископаемого здесь сосредоточены**
- A) угля
 - B) нефти и газа
 - C) железных руд
 - D) руд цветных металлов
- 4. Летом в Центральной России установилась прохладная дождливая по-год Укажите, вторжением каких воздушных масс это может быть обусловлено**
- A) морской арктический воздух
 - B) континентальный воздух умеренных широт
 - C) морской воздух умеренных широт
 - D) морской тропический воздух
- 5. Определите, какие из перечисленных рек относятся к бассейну Северного Ледовитого океана**
- A) Дон, Кубань
 - B) Волга, Терек, Урал
 - C) Амур
 - D) Лена, Енисей, Обь
- 6. Какой зональный тип почв формируется под хвойными лесами в условиях избыточного увлажнения и умеренно-теплого лета**
- A) тундрово-глеевые
 - B) подзолистые
 - C) серые лесные
 - D) черноземные
- 7. Укажите природную зону, которая в настоящее время практически лишена естественной растительности из-за хозяйственной деятельности человека**
- A) тундра
 - B) тайга
 - C) зона смешанных и широколиственных лесов
 - D) зона степей

- 8. Укажите причину незначительного распространения многолетней мерзлоты на севере Восточно-Европейской равнины по сравнению с Азиатской частью России**
- А) более высокие летние температуры
 - В) большая мощность снежного покрова
 - С) вследствие массовой вырубki лесов
- 9. Для зоны тундр характерны животные**
- А) песец и белый медведь,
 - В) белый медведь и лемминг
 - С) лемминг и песец
- 10. Определите, какой из типов климата характеризуется следующим набором свойств: годовая амплитуда температур 50-60 °С, небольшая (0,2-0,3м) высота снежного покрова, господство антициклональных типов погоды**
- А) морской
 - В) умеренно-континентальный
 - С) континентальный
 - Д) резко континентальный

Часть II

Прочитайте задание и выполните его письменно на бланке, указав номер задания.

- 11. В степной и лесостепной зонах поля ограничены лесозащитными поло-сами. Объясните их назначение**
- 12. Дальний Восток и юг России заняты горными сооружениями. Укажи-те, почему современные вулканические процессы активно проявляют-ся лишь на Дальнем Востоке.**

Тесты по географии

9 класс

Лесная промышленность

*Петухова Наталия Валентиновна,
учитель географии и химии, МБОУ
«СОШ №12 г. Йошкар-Олы»*

1. Крупный лесопромышленный комплекс находится:

- A) в Мурманске
- B) Архангельске
- C) Нижнем Новгороде
- D) Санкт- Петербурге

2. Укажите район, отличающийся большими запасами лесных ресурсов:

- A) Северный Кавказ
- B) Поволжье
- C) Урал
- D) Дальний Восток

3. Определите, какой район России занимает первое место по объему ле-созаготовок:

- A) Уральский
- B) Западно - Сибирский
- C) Восточно - Сибирский
- D) Дальневосточный

4. Укажите лесоизбыточный район России:

- A) Ростовская область
- B) Оренбургская область
- C) Пермский край
- D) Чукотский АО

5. Определите, какой район России лидирует по производству бумаги и целлюлозы:

- A) Северный
- B) Поволжский
- C) Западно - Сибирский
- D) Дальневосточный

6. На какой реке нет крупных центров целлюлозно-бумажной промышленности:

- A) Каме
- B) Северной Двине
- C) Лене
- D) Амуре

7. Какой фактор учитывается при размещении предприятий мебельной промышленности:

- A) энергетический
- B) водный
- C) потребительский
- D) сырьевой

8. Укажите города, где находятся крупнейшие лесопромышленные ком-плексы:

- A) Усть – Илимск Братск
- B) Балахна Сегежа
- C) Саратов Самара
- D) Киров Волгоград

9. Какое производство лесной промышленности является наиболее водо- и энергоемкими:

- A) бумаги и целлюлозы
- B) мебели
- C) пиломатериалы
- D) фанеры

10. Укажите центр производства бумаги и целлюлозы:

- A) Краснокамск
- B) Ижевск
- C) Воронеж
- D) Краснодар

Европейский север

Мишина Юлия Михайловна, учитель географии, МБОУ «Лицей №9 имени К.Э. Циолковского» г. Калуги

1. В состав Европейского Севера не входит:

- A) Карелия
- B) Вологодская область
- C) Коми
- D) Ямало-Ненецкий автономный округ

2. Какой из перечисленных городов Европейского Севера является самым крупным по числу жителей?

- A) Вологда
- B) Мурманск
- C) Архангельск
- D) Сыктывкар

3. Какая из перечисленных территорий Европейского Севера имеет самую низкую плотность населения?

- A) Ненецкий АО
- B) Мурманская обл.
- C) Карелия
- D) Коми

4. Где производится выплавка алюминия?

- A) Мурманске
- B) Надвоицах
- C) Котласе
- D) Ухте

5. Лесодефицитные территории в составе Европейского Севера-

- A) Архангельская обл. и респ. Коми
- B) респ. Карелия и Вологодская обл.
- C) Мурманская обл. и Ненецкий АО
- D) респ. Карелия и Архангельская обл.

6. Установите соответствие между производством и центром его размещения

Производство Центр размещения

- | | |
|-------------------------------|-----------------|
| A) тракторостроение | 1) Мончегорск |
| B) производство алюминия | 2) Архангельск |
| C) производство меди и никеля | 3) Петрозаводск |
| | 4) Кандалакша |

7. В Северном экономическом Районе действует единственная в России

- A) Ветряная электростанция
- B) Гидроаккумулирующая электростанция
- C) Приливная электростанция
- D) Геотермальная станция

8. Установите соответствие между городом и его основной функцией

- | | |
|--------------|-------------------------------|
| 1) Плисецк | A) Незамерзающий порт |
| 2) Череповец | B) Космодром |
| 3) Мурманск | C) Алюминиевая промышленность |

-
- 4) Надвоицы D) Центр лесной промышленности
5) Архангельск E) Центр черной металлургии

Топливо-энергетический комплекс

*Железнова Наталья Георгиевна,
учитель географии, высшей
квалификационной категории,
МАОУ Гимназия №1 г. Балаково*

1. На снижение добычи нефти в России влияет:

- A) снижение средств геологической разведки
- B) 50% пробуренных скважин не эксплуатируется
- C) недостаток современного оборудования
- D) все варианты верны.

2. Основная нефтяная база России:

- A) Уральская
- B) Волго-Ахтубинская
- C) Центральная
- D) Западно-Сибирская

3. Важнейшие угольные бассейны нашей страны:

- A) Кузнецкий, Канско-Ачинский, Печорский
- B) Кузнецкий, Подмосковский, Печорский
- C) Курский, Канско-Ачинский, Кузнецкий
- D) Ленский, Кузнецкий, Печорский

4. Крупнейшая по мощности ТЭС России:

- A) Сургутская
- B) Красноярская
- C) Билибинская
- D) Саяно-Шушенская

5. Какое место занимает Россия в мире по величине гидроэнергетического потенциала, который может быть использован в энергетике:

- A) 1
- B) 7
- C) 2
- D) 5

6. Главное достоинство ГЭС:

- A) создание крупных водохранилищ
- B) использование возобновимого вида энергоресурсов
- C) создание единой энергосистемы
- D) производство дешевой электроэнергии

7. Где построена первая в России ГАЭС?

- A) Северный Кавказ
- B) Северо-Запад России
- C) В Подмосковье
- D) Западная Сибирь

8. Главные проблемы, возникающие при работе АЭС:

- A) нехватка топлива
- B) хранение радиоактивных отходов
- C) переработка отходов
- D) обеспечение радиационной безопасности, переработка и хранение радиоактивных отходов

9. Способы добычи угля:

- A) Открытый. Закрытый
- B) Карьерный. Шахтный
- C) Открытый, шахтный
- D) Все ответы верны.

10. Нетрадиционные источники энергии

- A) солнечная
- B) ветровая
- C) приливная
- D) солнечная, ветровая, приливная и геотермальная

Лесная промышленность

*Цветкова Любовь Викторовна,
учитель географии, МОУ «СОШ
№3», г. Ржев*

1. В основе Европейской России лежит:

- A) Западно-Сибирская равнина
- B) Восточно-Европейская равнина
- C) Среднерусская возвышенность
- D) Окско-Донская равнина

2. Древний Псков смотрится в воды реки:

- A) Волга
- B) Северная Двина
- C) Великая
- D) Нарва

3. В Европейской России находятся:

- A) 9
- B) 10
- C) 11
- D) 12 городов – миллионеров

4. Самый большой по площади район в составе Европейской России:

- A) Европейский Центр
- B) Поволжье
- C) Европейский Юг
- D) Европейский Север

5. Месторождение энергетических углей в Печорском угольном бассейне:

- A) Интинское
- B) Воркутинское
- C) Вогдашорское
- D) Усинское

6. Год основания императорской (ныне Российской) академии наук:

- A) 1757
- B) 1647
- C) 1747
- D) 1807 год

7. «Золотое кольцо» древних городов Центральной России:

- A) Москва, Муром, Ростов, Ярославль, Суздаль, Владимир
- B) Москва, Муром, Иваново, Курск, Суздаль, Владимир
- C) Москва, Ростов, Ливны, Иваново, Суздаль, Владимир
- D) Москва, Муром, Фатож, Суздаль, Владимир, Троицк

8. Охлажденный воздух высокогорий спускается вниз по узким межгор-ным долинам Северного Кавказа, нагревается, становится теплым, а иногда даже горячим. Так образуется местный ветер:

- A) бора
- B) баргузин
- C) фён
- D) верховик

9. Поволжье занимает первое место в стране по уровню развития:

- A) чёрной металлургии
- B) цветной металлургии
- C) химической промышленности
- D) лесной и дерево-обрабатывающей промышленности

10. На Урале расположена 1/6 часть российских городов, в которых ПДК загрязняющих веществ превышены в 10 и более раз. Среди них:

- A) Чердынск
- B) Челябинск
- C) Кунгур
- D) Салават

Агропромышленный комплекс

Плешивцева Татьяна

*Алексеевна, учитель географии,
МОАУ «СОШ№67», г. Оренбург*

1. Какая отрасль не входит в первое звено АПК?

- A) производство удобрений
- B) производство сельскохозяйственных машин
- C) транспортировка продукции сельского хозяйства
- D) пищевая промышленность

2. Какие особенности характерны для сельского хозяйства?

- A) сезонность работ
- B) зависимость от природных условий
- C) использование земли в качестве средства и предмета труда
- D) все перечисленное верно

3. Земли, используемые в сельском хозяйстве – это...

- A) земельные участки
- B) земельные территории
- C) земельные угодья
- D) земельные пространства

4. Какая техническая культура требовательна к теплу, плодородию, увлажнению почв, выращивают ее в Центральном Черноземье и на Северном Кавказе?

- A) подсолнечник
- B) лен-долгунец

-
- C) сахарная свекла
 - D) картофель

5. Где выращивается основная часть картофеля России?

- A) в центральных районах европейской части страны
- B) на Урале
- C) на Кавказе
- D) на востоке страны

6. Какая культура не относится к зерновым?

- A) пшеница
- B) гречиха
- C) рожь
- D) подсолнечник

7. Какой фактор учитывается при размещении заводов по производству сахара?

- A) потребительский
- B) энергетический
- C) сырьевой
- D) водный

8. Какой район лидирует по производству тканей?

- A) Поволжье
- B) Центральная Россия
- C) Урал
- D) Европейский Север

9. Отрасли пищевой промышленности, ориентирующиеся на сырьё:

- A) рыбная
- B) мясная
- C) кондитерская
- D) сахарная

10. Какой район занимает ведущее мест по улову рыбы?

- A) Европейский Север
- B) Европейский Север- Запад
- C) Дальний Восток
- D) другие регионы

Северо-Кавказский экономический район

Сипкина Алена Алексеевна,
учитель географии, МБОУ
Арбатская СОШ

1. Северо –Кавказский экономический район граничит с:

- A) Центральным районом
- B) Уральским районом
- C) Поволжьем
- D) Западно-Сибирским

2. Северо–Кавказский экономический район имеет сухопутную границу с:

- A) Украиной
- B) Арменией
- C) Грузией
- D) Турцией

3. Северо-Кавказский экономический район имеет выход к морям:

- A) Средиземному
- B) Черному
- C) Аральскому
- D) Каспийскому

4. В состав Северо-Кавказского Экономического района входят - субъек-ты Российской Федерации:

- A) Калмыкия
- B) Ставропольский край
- C) Чувашия
- D) Республика Адыгея

5. Сделай правильное соотношение Субъект- административный центр:

- | | |
|------------------------------------|----------------|
| 1. Ингушская Республика | A) Владикавказ |
| 2. Республика Алания | B) Грозный |
| 3. Чеченская Республика | C) Нальчик |
| 4. Кабардино-Балкарская Республика | D) Магас |

6. На территории Северо-Кавказского района расположены:

- A) Приволжская Возвышенность
- B) Ставропольская Возвышенность
- C) Кума- Манычская впадина
- D) Армянское нагорье

-
- 7. Равнинные территории Северного-Кавказа находятся в следующих климатических поясах:**
- A) Субарктический
 - B) Умеренный
 - C) Субтропический
 - D) Тропический
- 8. На Северном-Кавказе сосредоточены крупные запасы природных ре-сурсов:**
- A) Каменный уголь
 - B) Нефть
 - C) Железные руды
 - D) Алмазы
- 9. Запасы нефти на территории Северного-Кавказа сосредоточены в:**
- A) Дагестане
 - B) Чечне
 - C) Краснодарском край
 - D) Ставропольском крае
- 10. На территории Северного-Кавказского района находится часть уголь-ного бассейна:**
- A) Кузнецкого
 - B) Подмосковного
 - C) Донецкого
 - D) Канско-Ачинского
- 11. Две религии, исповедуемые на Северном-Кавказе:**
- A) Буддизм
 - B) Ислам
 - C) Иудаизм
 - D) Православие
- 12. Курортные центры Северо-Кавказского экономического района:**
- A) Пятигорск
 - B) Туапсе
 - C) Сочи
 - D) Сухуми
- 13. Основные зерновые культуры, выращиваемые на территории Севе-ро-Кавказского экономического района:**
- A) Рожь
 - B) Кукуруза
 - C) Озимая пшеница
 - D) Гречиха

14. Крупные центры сельско - хозяйственного машиностроения района:

- A) Адлер
- B) Ростов на Дону
- C) Сочи
- D) Таганрог

15. Самый крупный морской порт Северо-Кавказского района:

- A) Анапа
- B) Прикаспийск
- C) Новороссийск
- D) Геленджик.

16. Ведущими отраслями Северо-Кавказского экономического района являются:

- A) Лесная промышленность
- B) Химическая промышленность
- C) Агропромышленный комплекс
- D) Топливо-энергетический

17. На территории Северного Кавказа имеется АЭС:

- A) Белоярская
- B) Ростовская
- C) Смоленская
- D) Балаковская

18. «Воротами Кавказа» называют город:

- A) Таганрог
- B) Ростов-на-Дону
- C) Ставрополь
- D) Краснодар

19. Завод «Атоммаш» находится в городе:

- A) Таганроге
- B) Волгодонске
- C) Владикавказе
- D) Грозном

20. Самолеты-амфибии выпускает единственный в России авиационный завод расположенный в городе:

- A) Новочеркасск
- B) Таганрог
- C) Майкоп
- D) Новороссийск

Водные ресурсы

*Галенко Елена Павловна,
учитель географии, МБОУ
Кулешовская СОШ №17с.
Кулешовка, Азовский район, Ростовская обл.*

1. Какое море называют Виноградным?

- A) Белое
- B) Черное
- C) Саргассово
- D) Средиземное

2. В каком океане находится самый длинный в мире пролив?

- A) В Индийском
- B) В Тихом
- C) В Атлантическом
- D) В Северном Ледовитом

3. Какое течение имеет название, обозначающее «река из залива».

- A) Курссио
- B) Перуанское
- C) Гольфстрим
- D) Западных ветров

4. Какое море называют озером?

- A) Азовское
- B) Балтийское
- C) Белое
- D) Каспийское

5. Какое озеро имеет отметку глубины 1620м?

- A) Виктория
- B) Верхнее
- C) Байкал
- D) Онежское

6. На каком полуострове находится самое горячее озеро?

- A) на Аравийском полуострове
- B) на Камчатке
- C) на полуострове Индокитай
- D) на полуострове Индостан

7. В каком море нет живых организмов?

- A) Лаптевых
- B) Красное
- C) Северное
- D) Мертвое

8. Название какого животного носит река в Евразии?

- A) Тигр
- B) Лев
- C) Рысь
- D) Барс

9. Сколько морей в Северном Ледовитом океане?

- A) 8
- B) 9
- C) 10
- D) 11

10. Какое из цветных морей самое соленое?

- A) Красное
- B) Белое
- C) Желтое
- D) Черное

11. На каком континенте нет рек?

- A) Австралия
- B) Антарктида
- C) Африка
- D) Южная Америка

12. Назовите причину приливов и отливов.

- A) вращение планеты
- B) океанические течения
- C) постоянные ветры
- D) притяжение воды Луной

13. Для какого океана характерны самые гигантские и разрушительные волны?

- A) Атлантического
- B) Индийского
- C) Тихого
- D) Северного Ледовитого

14. Какой водопад местные жители называют «гремящая вода»?

- A) Игуасу
- B) Эри
- C) Ниагарский
- D) Виктория

15. В какой стране находится озеро Лох-Несс?

- A) Дания
- B) Великобритания
- C) Ирландия
- D) Исландия

Топливо-энергетический комплекс России

*Хабибярлова Ания Адгамовна, учитель
географии, МБВОУ «Излучинский
центр образования»,
Тюменская область, ХМАО – Югра*

1. В состав топливо-энергетического комплекса входят:

- A) нефтяная промышленность
- B) газовая промышленность
- C) нефтяная, газовая и угольная промышленность
- D) нефтяная, газовая, угольная промышленность и электроэнергетика.

2. В состав топливной промышленности входят:

- A) нефтяная промышленность
- B) газовая промышленность
- C) нефтяная, газовая и угольная промышленность
- D) нефтяная, газовая, угольная промышленность и электроэнергетика.

3. Угли Кузбасса не вполне конкурентоспособны на мировом рынке из-за:

- A) высокой себестоимости его добычи
- B) низкого качества
- C) низкой себестоимости его добычи
- D) высокой стоимости транспортировки

4. Наибольшее количество гидроэлектростанций сооружено на реке:

- A) Енисей
- B) Волга
- C) Ангара
- D) Обь

5. Бурый уголь добывается в бассейнах:

- A) Печёрском и Подмосковном
- B) Подмосковном и Канско-Ачинском
- C) Канско-Ачинском и Таймырском
- D) Подмосковном и Таймырском

6. Наиболее крупные запасы гидроэнергии сосредоточены:

- A) в Поволжье
- B) в Западной Сибири
- C) на Урале
- D) в Восточной Сибири

7. Наиболее низкая себестоимость добычи угля:

- A) в Печерском бассейне
- B) в Таймырском бассейне
- C) в Канско-Ачинском бассейне
- D) все ответы верны

8. К энергетическим ресурсам относятся:

- A) нефть, газ, уголь
- B) ядерное топливо
- C) гидроэнергоресурсы
- D) все ответы верны

9. Основным районом добычи природного газа является:

- A) Волго-Уральская провинция
- B) Западно-Сибирская провинция
- C) Тимано-Печёрская провинция
- D) Прикаспийская провинция

10. Какие электростанции вырабатывают большую долю электроэнергии в России:

- A) гидроэлектростанции
- B) тепловые
- C) атомные
- D) приливные

Тесты по географии

10 класс

География населения мира

Беликова Елена Геннадьевна,
учитель географии,
МБОУСОШ №2, Тверская обл.,
ЗАТО Озерный

1. Численность населения мира:

- A) 10 млрд
- B) 3 млрд
- C) 6,5 млрд
- D) 12 млрд

2. Совокупность процессов рождаемости, смертности, естественного прироста населения:

- A) демография
- B) воспроизводство
- C) естественное движение
- D) естественный отбор

3. Уменьшение населения страны, района в результате суженного воспроизводства, приводящего к его абсолютной убыли:

- A) депопуляция
- B) демографический кризис
- C) этнология
- D) демография

4. Система административных, экономических, пропагандистских мер, с помощью которых государство воздействует на естественное движение населения:

- A) демографическая политика
- B) демографическая ситуация
- C) экономическая политика
- D) экономическая реформа

5. Страна: «Нас двое - нам двоих»:

- A) КНР
- B) Турция
- C) Индия
- D) Бангладеш

6. Страна: «Одна семья - один ребенок»:

- A) Монголия
- B) Япония

-
- C) КНР
 - D) Индия

7. Самый высокий в мире показатель ожидаемой продолжительности жизни:

- A) Германия
- B) Швеция
- C) Швейцария
- D) Япония

8. Наиболее распространенная из религий:

- A) буддизм
- B) ислам
- C) христианство
- D) конфуцианство

9. Страна, где плотность населения – 16400 человек на кв.км.:

- A) Мальдивские острова
- B) Бангладеш
- C) Монако
- D) Филиппины

10. Рост городов, повышение удельного веса городского населения в стране, регионе, мире:

- A) урбанизация
- B) агломерация
- C) миграция
- D) ирригация

11. Городские агломерации с населением свыше 10 млн. человек:

- A) Бостон, Вашингтон, Рим
- B) Вашингтон, Токио, Париж
- C) Токио, Нью-Йорк, Шанхай
- D) Токио, Нью-Йорк, Рим

12. Крупнейшие «смогополисы» мира:

- A) Дели, Претория
- B) Стокгольм, Хельсинки
- C) Лос-Анджелес, Мехико
- D) Токио, Рим

Численность и воспроизводство населения

Ларионова Галина Станиславовна,
учитель географии, МБОУ СОШ №
15 г. Калуги

1. Наука о происхождении народов и их характерных особенностях и взаимоотношениях:

- A) палеонтология
- B) демография
- C) этнология
- D) миграция

2. Совокупность процессов рождаемости, смертности, естественного при-роста:

- A) воспроизводство
- B) восстановление
- C) депопуляция
- D) демографический переход

3. Уменьшение населения страны за счет суженного воспроизводства, приводящий к убыли населения:

- A) миграция
- B) депортация
- C) ассимиляция
- D) депопуляция

4. Процесс быстрого роста населения:

- A) урбанизация
- B) демографический переход
- C) демографический взрыв
- D) демографическая политика

5. Система административных, экономических и других мероприятий, с целью государственного воздействия на естественное движение населения:

- A) миграция
- B) воспроизводство
- C) демографическая политика
- D) урбанизация

6. Какова была средняя продолжительность жизни женщин в России в 2000 годах:

- A) 70 лет
- B) 79 лет
- C) 72 года
- D) 75 лет

7. Количество людей родившихся на Земле:

- A) более 30 млрд.
- B) более 50 млрд.
- C) более 150 млрд.
- D) более 100 млрд.

8. Какая из стран имеет нулевой прирост:

- A) США
- B) Дания
- C) Украина
- D) Россия

9. Какая страна имеет отрицательный естественный прирост:

- A) США
- B) Украина
- C) Словакия
- D) Польша

10. В какой стране естественный прирост составляет 0. 5 %:

- A) Канада
- B) Белоруссия
- C) Дания
- D) Бельгия

11. На сколько человек в год увеличивается население Азии:

- A) 400млн
- B) 45 млн
- C) 70 млн
- D) 67 млн

12. В какой из стран преобладает второй тип воспроизводства:

- A) Китай
- B) Бразилия
- C) Канада
- D) Австралия

- 13. В какой из перечисленных стран проводится активная демографическая политика:**
- A) Казахстан.
 - B) Индия
 - C) Франция
 - D) Италия
- 14. В какой стране самый низкий показатель продолжительности жизни:**
- A) Монако
 - B) Сьерра-Леона
 - C) Сан- Марино
 - D) Бангладеш
- 15. В какой из стран высокий показатель ожидаемой средней продолжительности жизни:**
- A) Россия
 - B) Швейцария
 - C) Индия
 - D) Китай

География культуры

*Тихонова Ирина
Леонидовна, учитель
географии, МОУ СОШ № 4
г. Усть-Кута, Иркутская обл.*

- 1. География культуры изучает:**
- A) элементы материальной культуры
 - B) элементы духовной культуры
 - C) элементы экологической культуры
 - D) все вместе.
- 2. К субъективным признакам цивилизации относят:**
- A) общность истории
 - B) самосознание
 - C) религии
 - D) формы материальной культуры
- 3. Какая цивилизация не относится к современным цивилизациям?**
- A) индуистская
 - B) конфуцианская

-
- C) египетская
 - D) православная

4. Какая организация занимается охраной всемирного культурного и при-родного наследия человечества?

- A) АСЕАН
- B) ВОЗ
- C) ЮНЕСКО

5. Какая религия не относится к мировым?

- A) иудаизм
- B) буддизм
- C) ислам
- D) христианство

6. Среди мировых религий по числу приверженцев доминирует:

- A) христианство
- B) буддизм
- C) ислам
- D) синтоизм

7. Страны Северной Европы исповедуют:

- A) кальвинизм
- B) лютеранство
- C) англиканство
- D) православие

8. Назовите вторую по численности мировую религию:

- A) христианство
- B) буддизм
- C) ислам
- D) иудаизм

9. Суннизм – это религиозное направление:

- A) христианства
- B) буддизма
- C) ислама
- D) синтоизма

10. Цивилизации, где жизненный уклад отличается высокой устойчивостью, называют:

- A) постиндустриальными
- B) традиционными
- C) аграрными
- D) индустриальными

11. Закончите фразу: «Ислам проповедует большинство жителей...»

- A) Мьянмы
- B) Индонезии
- C) Италии
- D) Израиля
- E) ЮАР

12. Сколько в мире на данный момент насчитывают цивилизаций?

- A) 8
- B) 12
- C) 21
- D) 27

13. Какая форма государства характерна для древних цивилизации Востока?

- A) военная диктатура
- B) монархия
- C) деспотия
- D) республика

14. Кастовый строй – общая черта многих древневосточных цивилизаций.

Где кастовый строй получил классическое воплощение?

- A) в Китае
- B) в Индии
- C) в Вавилоне
- D) в Египте

15. Совокупность материальных и духовных ценностей, а также способов их создания - это

- A) Религия
- B) Культура
- C) Цивилизация
- D) традиции

Региональная характеристика мира

*Чумакова Ирина Николаевна, учитель
географии, МБОУ СОШ №12, г. Новый
Уренгой, ЯНАО*

1. Лидер химической промышленности в Европе:

- A) Германия
- B) Великобритания

-
- C) Чехия
 - D) Румыния

2. «Торговать или умереть» – эпитафия к экономике:

- A) Сингапура
- B) Австралии
- C) Японии
- D) Китая

3. Рыболовство – отрасль международной специализации:

- A) Исландия
- B) Испания
- C) Франция
- D) Великобритания

4. «Чайные» ландшафты типичны для стран:

- A) Китай, Япония и Индия
- B) Монголия, Сингапур, Индия
- C) Малайзия, Шри-Ланка, Индонезия
- D) Вьетнам, Непал, Китай

5. Страна – мировой банкир

- A) Швеция
- B) Швейцария
- C) Австрия
- D) США

6. Главное богатство стран Юго-Западной Азии

- A) Нефть
- B) Медь
- C) Уголь
- D) Медь

7. На государственном гербе Японии изображена:

- A) рыба тунец
- B) хризантема
- C) икэбана
- D) священна корова

8. Австралия занимает 1-е место в мире по производству

- A) мяса
- B) шерсти
- C) пшеницы
- D) стали

9. США занимают ведущее место в мире:

- A) только в промышленности
- B) во всех отраслях хозяйства
- C) в сельскохозяйственном производстве
- D) только в новейших отраслях

10. Страны Африки выделяются запасами:

- A) рыбы
- B) никеля
- C) лесных ресурсов
- D) руд

Тесты по географии

11 класс

Зарубежная Европа

*Кузьмина Марина Валерьевна,
учитель географии, МБОУ
«СОШ №9 г. Йошкар-Олы»*

- 1. Найдите вариант, в котором верно указано название морей и стран, ко-торые они омывают:**
 - A) Норвежское, Балтийское – Швеция
 - B) Северное, Средиземное – Великобритания
 - C) Северное, Балтийское – Германия
 - D) Средиземное, Балтийское – Польша
- 2. Какая из указанных агломераций является самой южной?**
 - A) Лондонская
 - B) Миланская
 - C) Парижская
 - D) Рурская
- 3. Выберите вариант, где верно указана принадлежность страны к субре-гиону Зарубежной Европы:**
 - A) Дания – Южная Европа
 - B) Греция – Восточная Европа
 - C) Швеция – Северная Европа
 - D) Эстония – Западная Европа
- 4. Высокоразвитым районом Зарубежной Европы является:**
 - A) Рур
 - B) Северное море
 - C) Португалия
 - D) Большой Париж
- 5. Выберите вариант, где верно указана страна, в которой находится дан-ная агломерация:**
 - A) Рурская – в Германии
 - B) Миланская – во Франции
 - C) Лионская – в Италии
 - D) Мадридская – в Великобритании
- 6. Старопромышленным районом Зарубежной Европы является:**
 - A) Рур
 - B) Северное море
 - C) Португалия
 - D) Большой Париж

7. Какая из европейских стран по производству автомобилей уступает только Японии и США?

- A) Великобритания
- B) Франция
- C) Германия
- D) Швеция

8. Какая страна занимает 1 место в Зарубежной Европе по добыче нефти?

- A) Германия
- B) Норвегия
- C) Франция
- D) Нидерланды

9. Какая страна Зарубежной Европы занимает 1 место по добыче железной руды?

- A) Швеция
- B) Великобритания
- C) Польша
- D) Норвегия

10. Страны какого субрегиона Зарубежной Европы экспортируют бумагу, целлюлозу, пиломатериалы?

- A) Западная Европа
- B) Восточная Европа
- C) Северная Европа
- D) Южная Европа

11. Страны какого субрегиона Зарубежной Европы экспортируют цитру-совые, вина, оливковое масло?

- A) Западная Европа
- B) Восточная Европа
- C) Северная Европа
- D) Южная Европа

Занимательная география

Булгакова Любовь Михайловна,

учитель географии и биологии, МАОУ «Гимназия №6»

1. Для какой природной зоны характерны чернозёмные почвы?

- A) смешанные леса
- B) степи

- С) тайга
- D) широколиственные леса

2. В какой из перечисленных стран доля лиц старше 65 лет в возрастной структуре населения наибольшая?

- A) Бразилия
- B) Алжир
- С) Бангладеш
- D) Норвегия

3. В какой из перечисленных стран доля городского населения в общей численности населения наибольшая?

- A) Бельгия
- B) Турция
- С) Индонезия
- D) Египет

4. В каком из перечисленных регионов России средняя плотность населения наибольшая?

- A) Магаданская область
- B) Республика Коми
- С) Воронежская область
- D) Республика Карелия

5. Какие товары преобладают в структуре экспорта России?

- A) сельскохозяйственное сырьё и продовольствие
- B) минеральное сырьё и топливо
- С) древесина и целлюлоза
- D) машины и оборудование

6. Какая особенность характерна для населения Европейского Севера России?

- A) высокий естественный прирост
- B) преобладание сельского населения
- С) неравномерное размещение по территории региона
- D) высокая средняя плотность

7. В какой из перечисленных стран большинство верующих исповедуют буддизм?

- A) Иран
- B) Монголия
- С) Эквадор
- D) Сомали

8. В каких трёх из перечисленных стран основная часть электроэнергии производится на ТЭС? Обведите соответствующие цифры и запишите их в таблицу.

- A) Кувейт
- B) Россия
- C) Бразилия
- D) Норвегия
- E) Франция
- F) Саудовская Аравия

9. Для какой из перечисленных стран характерен миграционный прирост населения?

- A) Франция
- B) Мексика
- C) Китай
- D) Индия

10. В каком из перечисленных регионов России густота автомобильных дорог наибольшая?

- A) Красноярский край
- B) Республика Коми
- C) Краснодарский край
- D) Тюменская область

11. В каком из перечисленных городов России среднегодовое количество атмосферных осадков наименьшее?

- A) Астрахань
- B) Владивосток
- C) Москва
- D) Калининград

12. На какой из перечисленных территорий наиболее вероятны сильные землетрясения?

- A) Японские острова
- B) Остров Шри-Ланка
- C) Остров Мадагаскар
- D) Канадский Арктический архипелаг

13. В какой из перечисленных стран средняя ожидаемая продолжительность жизни населения наибольшая?

- A) Египет
- B) Украина
- C) Россия
- D) Германия

14.Какая из перечисленных стран входит в число крупнейших производителей хлопка-волокна?

- A) Португалия
- B) Чехия
- C) Чили
- D) Индия

15.Какой из перечисленных городов России является наибольшим по численности населения?

- A) Новосибирск
- B) Томск
- C) Петрозаводск
- D) Ставрополь

Зарубежная Европа

*Ильсова Лилия Тимербулатовна,
учитель географии, МОБУ
Башкирская гимназия №9 им. Кинзи
Арсланова*

1. Верхнее-Силезский угольный бассейн расположен в:

- A) Германии
- B) Польше
- C) Великобритании
- D) Франции

2. Многонациональным государством является:

- A) Дания
- B) Бельгия
- C) Швейцария
- D) Швеция

3. К Уральской семье относятся:

- A) Венгры
- B) Болгары
- C) Немцы
- D) Чехи

4. Гидроэнергоресурсами богаты страны:

- A) Западной Европы
- B) Северной Европы

-
- C) Южной Европы
 - D) Восточной Европы

5. Какая религия преобладает в Южной Европе?

- A) Католицизм
- B) Протестантство
- C) Мусульманство
- D) Православие

6. Крупнейшим городом Зарубежной Европы является

- A) Лондон
- B) Берлин
- C) Париж
- D) Рим

7. Какая страна занимает первое место по выплавке алюминия?

- A) Франция
- B) Дания
- C) Норвегия
- D) Финляндия

8. Нефтехимические предприятия построены на трассах нефтепроводов в:

- A) Западной Европе
- B) Восточной Европе
- C) Южной Европе
- D) Северной Европе

9. Первое место по экспорту апельсинов занимает:

- A) Испания
- B) Италия
- C) Болгария
- D) Албания

10. В энергетике какой страны преобладает ГЭС?

- A) Франция
- B) ФРГ
- C) Италия
- D) Норвегия

11. Первое место по производству розового масла занимает:

- A) Болгария
- B) Италия
- C) Греция
- D) Испания

12. Какая страна имеет самый высокий естественный прирост в Европе?

- A) Венгрия
- B) Словения
- C) Румыния
- D) Албания

13. Крупнейший порт Роттердам расположен в:

- A) Нидерландах
- B) Швейцарии
- C) Италии
- D) Дании

14. Угольные комбайны выпускают в:

- A) Болгарии
- B) Польше
- C) Албании
- D) ФРГ

15. Какую страну называют «Молочной фермой» Европы:

- A) Венгрию
- B) Нидерланды
- C) Австрию
- D) Данию

Экономика стран Азии

*Васильева Татьяна Сергеевна,
учитель географии, ГБОУ СОШ
№268 г. Санкт-Петербурга*

1. Эта страна обладает самыми большими гидроэнергоресурсами

- A) Россия
- B) Китай
- C) Индия
- D) Япония

2. Китай является мировым лидером по добыче

- A) нефти
- B) газа
- C) угля
- D) горючих сланцев

3. В тихоокеанском промышленном поясе Японии проживает

- A) 1/4 населения
- B) 1/3 населения
- C) 1/2 населения
- D) 2/3 населения

4. Индустриализация Индии началась с развития

- A) чёрной металлургии
- B) цветной металлургии
- C) машиностроения
- D) лёгкой промышленности

5. Эта страна лидирует в мире по поголовью свиней

- A) Индия
- B) Китай
- C) Россия
- D) Япония

6. В Китае наиболее развитый в социально-экономическом отношении регион – это

- A) Приморье
- B) центральные провинции
- C) западные территории
- D) северо-западные территории

7. В Японии более 60% ВВП приходится на

- A) добывающую отрасль
- B) сельское хозяйство
- C) обрабатывающую промышленность
- D) сферу услуг

8. В долине реки Хуанхэ преимущественно выращивается

- A) рис
- B) соя
- C) пшеница
- D) просо

9. В промышленности Японии доминирует

- A) чёрная металлургия
- B) цветная металлургия
- C) машиностроение
- D) химическая промышленность

10. Эта страна – крупнейший в мире производитель сахарного тростника

- A) Индия
- B) Китай
- C) Индонезия
- D) Япония

11. В растениеводстве Японии по сборам доминирует

- A) рис
- B) пшеница
- C) соя
- D) овощные культуры

12. Наиболее мощный промышленный комплекс Индии сформировался

- A) на западе страны
- B) на востоке страны
- C) в центральных районах страны
- D) на юге страны

13. Главный морской порт Индии

- A) Дели
- B) Бомбей
- C) Калькутта
- D) Бхилаи

14. В этой стране невысокий уровень урбанизации сочетается с большим количеством городов-миллионеров

- A) Индия
- B) Китай
- C) Россия
- D) Япония

Австралия и Океания

*Проняшина Вера Викторовна, учитель географии, МОУ
«СОШ с углубленным изучением отдельных предметов
№39»,
Республика Мордовия, г. Саранск*

1. Соотнесите государства Африки и Латинской Америки с их столицами:

- | | |
|------------|------------|
| A) Сенегал | 1) Манагуа |
| B) Нигерия | 2) Киншаса |
| C) Конго | 3) Абуджа |

-
- | | |
|--------------|-------------|
| D) Парагвай | 4) Дакар |
| E) Камерун | 5) Асунсьон |
| F) Замбия | 6) Яунде |
| G) Никарагуа | 7) Лусака |

2. Австралия: кем был открыт южный континент:

- A) голландцами
- B) англичанами
- C) французами
- D) португальцами

3. Определите долю городского населения в Австралии:

- A) 65%
- B) 75%
- C) 85%
- D) 95%

4. Какое побережье Австралии в наибольшей степени освоено:

- A) северо-восточное
- B) южное
- C) юго-восточное
- D) юго-западное

5. Укажите факторы, способствующие ускоренному росту экономики в стране:

- A) обилие земельных ресурсов
- B) богатство минеральным сырьем
- C) большое население
- D) объединение разрозненных территорий в единое целое
- E) широкий приток иностранного капитала
- F) удаленность от «горячих точек» планеты

6. Назовите основные центры черной и цветной металлургии Австралии:

- A) Мельбурн и Сидней
- B) Ньюкасл и Порт-Пири
- C) Порт-Пири и Сидней
- D) Мельбурн и Броккен-Хилл

7. Какой остров в Океании располагает значительными запасами фосфоритов:

- A) Новая Зеландия
- B) Фиджи
- C) Тонга
- D) Науру
- E) Тувалу

8. Страны Океании имеют богатый:

- A) минерально-сырьевой потенциал
- B) рекреационный потенциал
- C) биологический потенциал морей
- D) почвенно-растительный потенциал

9. Какой вид транспорта доминирует в пассажирообороте:

- A) морской
- B) железнодорожный
- C) автомобильный
- D) авиационный

10. Какие климатические показатели характерны для Австралии:

- A) сухостью и континентальностью;
- B) большой суммой выпадающих осадков и солнечной радиации;
- C) максимальной расположенностью в тропическом климатическом поясе;
- D) недостаточной увлажненностью.

Тесты по обществознанию
6 класс

Сферы общественной жизни

Старкова Татьяна Владимировна,
учитель обществознания,
МБОУ СОШ № 8 г. Тулы

1. Какой сферы общества не выделяют ученые?

- A) духовной,
- B) образовательной,
- C) социальной,
- D) политической

2. Производство, потребление, распределение и обмен, - характеризуют:

- A) производственную сферу,
- B) экономическую сферу,
- C) политическую сферу,
- D) культурную сферу.

3. Примером духовной сферы считают:

- A) выступление артистов детского театра,
- B) строительство стадиона,
- C) выплату пенсии учителю,
- D) митинг по защите городского зоопарка.

4. Имеется ли связь между сферами общественной жизни и потребностями людей?

- A) нет связи между этими понятиями,
- B) потребности людей сформировали сферы общества,
- C) сферы общественной жизни – это области, в которых удовлетворяются важнейшие потребности людей,
- D) связь имеется, но она отлична от предложенных вариантов.

5. Выберите верный ответ. В экономической жизни ...

- A) участвует всё население,
- B) не участвуют пенсионеры,
- C) не участвуют дети,
- D) не участвуют инвалиды.

6. Какая взаимосвязь установилась между сферами общественной жизни?

- A) в обществе господствующей сферой является экономическая сфера, а остальные ей подчиняются,
- B) первыми в обществе являются политическая и духовная сферы, остальные второстепенные,

-
- С) все сферы существуют самостоятельно, и никакой связи между ними нет,
 - Д) каждая из сфер оказывает равное влияние на другие.

7. Что является основной задачей политической сферы?

- А) повседневные взаимоотношения граждан,
- В) организация деятельности по распределению товаров и услуг,
- С) принятие новых законов,
- Д) накопление и передача духовных богатства общества.

8. Какая из структур не является органом государственной власти и управления, а значит, не относится к политической сфере?

- А) налоговая служба,
- В) пассажирский транспорт,
- С) парламент,
- Д) таможенная служба.

9. К социальной сфере относятся учреждения по обеспечению жизнедеятельности людей. Найдите лишнее учреждение.

- А) поликлиники,
- В) химчистки,
- С) столовые,
- Д) школы

10. Допишите предложение: Важное место в социальной сфере занимают органы социального обеспечения ...

- А) социальной защиты,
- В) социального взаимодействия,
- С) социальной опеки,
- Д) социальной культуры

11. Именно в этой сфере люди и целые общества находят ответ на вопрос о смысле жизни и своего существования.

- А) это социальная сфера,
- В) это политическая сфера,
- С) это духовная сфера,
- Д) это экономическая сфера.

Человек в социальном измерении

*Богуславская Ирина Альбертовна,
учитель истории и обществознания,
ГБОУ Школа №814*

1. Как наука называет совокупность качеств человека, которые приобретаются им в процессе жизни в обществе:

- A) сознание,
- B) эмоции,
- C) личность,
- D) характер.

2. Что характеризует человека как биологическое существо:

- A) доброта,
- B) прямохождение,
- C) забота,
- D) предприимчивость.

3. Какие качества характеризуют человека как существо социальное:

- A) целеустремленность,
- B) голубые глаза,
- C) рост,
- D) наличие речевого аппарата.

4. Закончите фразу «Слово – серебро, молчание - ...»:

- A) добро,
- B) успех,
- C) платина,
- D) золото.

5. Признаком какой части понятия «человек» является индивидуальность:

- A) социальной,
- B) биологической,
- C) социально-биологической
- D) математической.

6. Главная деятельность школьника:

- A) труд,
- B) учение,

-
- C) игра,
 - D) пение.

7. Соотнесите виды потребностей и их проявления:

- A) познание окружающего мира, А – биологические,
- B) сон, Б – духовные,
- C) общение, В – социальные.
- D) получение знаний,
- E) пища,
- F) труд,
- G) тепло,
- H) чтение.

8. Что определяет настроение человека в определенный момент:

- A) чувства,
- B) эмоции,
- C) идеи,
- D) действия.

9. Кто может стать личностью:

- A) собака,
- B) человек,
- C) хомяк,
- D) заяц.

10. Закончите определение: «Человек – существо»:

- A) доброе,
- B) биосоциальное,
- C) красивое,
- D) фантастическое.

ИТОГОВЫЙ ТЕСТ

*Минсагирова Гелюзе Насыховна,
учитель истории и обществознания,
МБОУ «Татарско-Бурнаевская ООШ»,
Алькеевский муниципальный р-н,
Республика Татарстан*

1. Политическая организация общества с определенной формой правления называется:

- A) страна
- B) общество
- C) государство
- D) народ

2. Что объединяет слова: игра, учение, труд?

- A) это потребность организма человека
- B) это виды деятельности
- C) это качества человека
- D) это способ получения заработка

3. Слово «экономика» в переводе с греческого означает:

- A) закон ведения домашнего хозяйства
- B) закон, как тратить деньги
- C) правило, как добывать деньги
- D) правило, как получать выгоду

4. Потребность в отдыхе относится к:

- A) духовной потребности
- B) моральной потребности
- C) биологической потребности
- D) социальной потребности

5. К малым социальным группам относятся:

- A) горожане
- B) нищие
- C) семья
- D) молодежь

6. Закон предусматривает наказание за нарушение:

- A) обрядов
- B) традиций
- C) правовых норм
- D) этикета

7. Государство, власть в котором находится у царя и передается по наследству, называется:

- A) монархия
- B) республика
- C) демократия
- D) тирания

8. Конституция РФ была принята в:

- A) 1990 г.
- B) 1991 г.
- C) 1993 г.
- D) 1994 г.

9. Государственным гербом РФ является:

- A) серп и молот
- B) двуглавый орел
- C) Георгий Победоносец
- D) Щит и меч

10. Паспорт обязаны получать граждане РФ, достигшие:

- A) 16 лет
- B) 18 лет
- C) 14 лет
- D) 15 лет

11. Общечеловеческие ценности:

- A) обязательны для граждан одного государства
- B) обязательны для всех современных людей, живущих на планете
- C) важны во все исторические эпохи
- D) не обязательны

12. В РФ является обязательным:

- A) общее образование
- B) профессиональное образование
- C) начальное образование
- D) высшее образование

13. К характеристикам современной школы можно отнести:

- A) низкий уровень знаний учащихся
- B) обязательное религиозное образование
- C) доступность обучения широким слоям населения
- D) платное образование

14. К глобальным проблемам человечества относятся:

- A) экологические проблемы
- B) проблемы безработицы
- C) проблемы алкоголизма и курения
- D) экономические проблемы

Общество – большой «дом» человечества

*Шкиря Наталья Борисовна,
учитель, МБОУ гимназия №3 г.
Ставрополя*

- 1. Как называется наука, изучающая устройство общества?**
 - A) политология;
 - B) психология;
 - C) социология;
 - D) правоведение.
- 2. Какая сфера общественной жизни считается самой важной?**
 - A) экономическая;
 - B) политическая;
 - C) духовная;
 - D) в обществе нет господствующих сфер.
- 3. Что является основой экономики?**
 - A) производство;
 - B) распределение;
 - C) обмен;
 - D) потребление.
- 4. Согласно принципу разделения властей существует три ветви государственной власти. А какую власть называют «четвертой»?**
 - A) законодательную;
 - B) исполнительную;
 - C) судебную;
 - D) средства массовой информации (СМИ).
- 5. Что из нижеперечисленного НЕ является государственным символом?**
 - A) государственный язык;
 - B) флаг;
 - C) герб;
 - D) гимн.
- 6. Как называются социальные группы, различающиеся по величине дохода, уровню образования, профессии, характеру труда?**
 - A) этносы;
 - B) классы;

-
- C) народы;
 - D) сообщества.

7. К какой сфере общественной жизни относятся наука и образование?

- A) экономической;
- B) политической;
- C) духовной;
- D) социальной.

8. Для какого типа общества характерно преобладание промышленности?

- A) для аграрного;
- B) для индустриального;
- C) для постиндустриального;
- D) для общества охотников и собирателей.

9. Что из данного списка относится к материальной культуре?

- A) поэзия;
- B) верования;
- C) здания;
- D) музыка.

10. Какие исторические события служат примером общественного регресса?

- A) совершенствование законодательства;
- B) переход от присваивающего хозяйства к производящему;
- C) развитие архитектуры и живописи;
- D) разрушение варварами Римской империи.

Тесты по обществознанию

7 класс

Личность подростка

*Миринова Жанна Александровна,
учитель истории и обществознания,
МБОУ СОШ №160 г. Нижнего Новгорода*

1. В общественно-гуманитарных науках под подростковым возрастом по-нивается период:

- A) От 9 до 11 лет
- B) От 10 до 14 лет
- C) От 10 до 15 лет
- D) От 11 до 16 лет

2. В общественно-гуманитарных науках старший подростковый период – это возраст:

- A) От 11 до 14 лет
- B) От 12 до 15 лет
- C) От 12 до 16 лет
- D) От 13 до 15 лет

3. Период в жизни человека, когда он становится взрослым физически, социально и духовно называется:

- A) Детство
- B) Юность
- C) Зрелость
- D) Старость

4. Эпоха сформировавшая понятие подросткового возраста и юности:

- A) Древнего мира
- B) Возрождения
- C) Просвещения
- D) Нового времени

5. Имя французского писателя утверждавшего, что общество портит че-ловека, поэтому детство и юность следует защищать от его пагубного влияния:

- A) Вольтер
- B) Жан Жак Руссо
- C) Монтескье
- D) Д. Дидро

6. Расставьте в нужной последовательности процесс преодоления трудно-стей в подростковом возрасте:

- A) оценка собственных возможностей, включая возможную поддержку со стороны окружающих;
- B) оценка проблемы, включающей новую постановку задачи и новые варианты поведения;
- C) «первичная оценка» ситуации;
- D) овладение ситуацией;

7. Общественно-гуманитарные науки дают четкое определения всем типам темперамента человека, соотнесите тип с его характеристикой:

- 1) Сангвиник
- 2) Холерик
- 3) Флегматик
- 4) Меланхолик

- A) неуравновешенный тип, энергичный, целеустремленный, но конфликтный и вспыльчивый
- B) подвижный тип, жизнерадостный, общительный, но легкомысленный и поверхностный
- C) слабый неуравновешенный тип, легкоранимый чувствительный, но мнительный и замкнутый
- D) неподвижный тип, терпеливый, надежный, но медлительный и порой без-различный

8. Необходимо соотнести понятие с определением:

- 1) Интеллект
- 2) Аффект
- 3) Эмоция
- 4) Чувства
- 5) Настроение
- 6) Стресс

- A) бурные кратковременные реакции человека на сильный раздражитель
- B) длительные реакции человека на свершившиеся, предполагаемые и вспоминаемые события
- C) способность к познанию и логическому мышлению
- D) длительное состояние, отражающее общие переживания человека
- E) отношения человека к конкретным событиям и людям
- F) физиологическая реакция организма в ответ на неожиданную и напряженную обстановку, выражающаяся в мобилизации резервных возможностей организма

9. Верны ли следующие суждения о выдающейся личности?

- А) Выдающаяся личность не рождается, а воспитывается.
- Б) Чтобы стать выдающейся личностью, надо обязательно быть гениальным человеком.

- А) верно только А
- Б) верно только Б
- С) верны оба суждения
- Д) оба суждения неверны

10. Верны ли следующие суждения об одаренности?

- А) Умственная одаренность - биологически приращенное качество.
- Б) Необходимы сила воли, трудолюбие и мотивация к достижению, чтобы та-лант стал гением.

- А) верно только А
- Б) верно только Б
- С) верны оба суждения
- Д) оба суждения неверны

Человек и экономика

*Симонова Людмила Михайловна,
учитель истории и
обществознания, МБОУ «Лицей
№1», г. Воронеж*

1. Для какой профессии необходимо иметь особые способности, талант?

- A) инженера
- B) бухгалтера
- C) художника
- D) продавца

2. Трудовое денежное вознаграждение:

- A) заработная плата
- B) рента
- C) капитал
- D) налог

3. Верны ли суждения о потребителе:

- a) потребителем является тот, кто использует товары и услуги для удовлетворения потребностей;
- б) потребитель — человек, приобретающий нужные ему товары в магазинах?

- A) верно только а
- B) верно только б
- C) верны оба суждения
- D) оба суждения неверны

4. Что из перечисленного характеризует товарное хозяйство?

- A) изготовление предметов на продажу
- B) стремление к разнообразию ассортимента производимой продукции
- C) максимальное удовлетворение потребностей людей
- D) низкий жизненный уровень

5. Ниже приведен перечень терминов. Все они, за исключением одного, соответствуют понятию «заработная плата». Укажите термин, относящийся к другому понятию.

- A) труд
- B) вознаграждение
- C) время
- D) подарок

6. Процесс создания новых видов продукции:

- A) производство
- B) потребление
- C) торговля
- D) распределение

7. Что из перечисленного относится к переменным затратам производства?

- A) заработная плата
- B) расходы на закупку сырья
- C) плата за пользование помещением
- D) транспортные расходы

8. Превышение выручки от продажи над затратами на производство товаров:

- A) заработная плата
- B) издержки
- C) прибыль
- D) расходы

9. К каким последствиям приведет разумное внедрение новых технологий на производстве?

- A) увеличится число рабочих
- B) повысится производительность труда
- C) вырастут затраты на единицу продукции
- D) снизятся объемы производства

10. Ценная бумага, дающая владельцу право на управление предприятием и получение части прибыли:

- A) облигация
- B) акция
- C) прокламация
- D) вексель

Тесты по обществознанию

8 класс

ОСНОВЫ КОНСТИТУЦИОННОГО СТРОЯ

*Венидиктова Л.В., учитель истории,
обществознания и права, ГБОУ Школа
№ 717 (2)*

1. Что составляет содержание раздела Конституции РФ об основах конституционного строя:

- A) идеологические декларации
- B) главные принципы, на которых базируется жизнь государства, общества
- C) главные принципы, определяющие организацию и проведение выборов органов государственной власти
- D) информация об основных правах и свободах граждан

2. Система способов и методов реализации власти – это:

- A) политический режим
- B) форма правления
- C) форма государственного устройства
- D) форма государства

3. Политологи выделяют следующие виды политических режимов:

- A) демократический
- B) авторитарный
- C) тоталитарный
- D) все перечисленные выше

4. Форма правления определяется тем:

- A) как организованы высшие органы государственной власти
- B) в чьих интересах осуществляется государственная власть
- C) какие цели ставят перед собой высшие руководители государства
- D) способы и методы осуществления власти

5. Основные формы государственного правления:

- A) анархия
- B) монархия
- C) республика
- D) охлократия

6. Форма правления, при которой осуществляется выборность на определенный срок главы государства и органов законодательной (представительной) власти, называется:

- A) монархия
- B) республика

-
- C) анархия
 - D) охлократия

7. Соедините перечисленные ниже формы правления с их характеристиками:

- A) президентская республика
- B) объединены черты парламентской и президентской республики
- C) парламентская республика
- D) соединение в руках президента полномочий главы государства и главы правительства
- E) смешанная республика
- F) слабая власть президента, сильная власть премьер-министра, назначаемого парламентом

8. Признаками правового государства являются:

- A) верховенство права
- B) принцип разделения властей
- C) гарантированность прав и свобод граждан
- D) взаимная ответственность гражданина и государства

9. В статье 1 Конституции РФ Россия определена как государство:

- A) демократическое
- B) социалистическое
- C) союзное
- D) федеративное
- E) конфедеративное
- F) с республиканской формой правления
- G) правовое

10. В какой демократической стране нет конституции, а есть отдельные конституционные (государственные) акты:

- A) Германии
- B) Великобритании
- C) Бельгии
- D) Дании

11. Режим, при котором осуществляется полный контроль государства над всеми сферами жизни общества, и фактически отсутствуют конституционные права и свободы, и часто применяются репрессии в отношении оппозиции – это:

- A) демократический режим
- B) тоталитарный режим
- C) авторитарный режим
- D) монархический режим

Экономика

*Неронова Татьяна Михайловна,
учитель истории и обществознания,
МОУ «СОШ с. Багаевка», Саратовский
район, Саратовская обл.*

1. Главной проблемой экономики является:

- A) низкий уровень экономических знаний
- B) ограниченность ресурсов
- C) взаимодействие спроса и предложения
- D) высокая степень специализации в мировом хозяйств

2. Экономика — это область знаний, изучающая

- A) поведение человека
- B) методы рационального хозяйствования
- C) действие объективных законов истории
- D) природные процессы и явления

3. В государстве А. производственные ресурсы распределяются государ-ственными органами через плановые задания. Эти черты характерны для экономики

- A) рыночной
- B) традиционной
- C) командной
- D) смешанной

4. В рыночной экономике, в отличие от командной

- A) свободно продаются и покупаются ресурсы производства
- B) устанавливается твердый курс официальной валюты
- C) ведущие позиции занимает государственная собственность
- D) складываются хозяйственные пропорции

5. Верны ли следующие суждения о частной собственности?

- A. Частная собственность является основой командной экономики.
 - Б. Передача государственной собственности в частные руки называется наци-онализацией.
- A) верно только А
 - B) верно только Б
 - C) верны оба суждения
 - D) оба суждения неверны

6. Организация деятельности частной школы относится к такому факто-ру производства, как

- A) земля
- B) предпринимательские способности
- C) труд
- D) капитал

7. Производителю в условиях конкуренции выгодно увеличивать предло-жение товаров, если

- A) снижаются доходы потребителя
- B) государство регулирует обмен
- C) растет рыночная цена товара
- D) используются все факторы производства

8. На рынке, где существует конкуренция, рыночная (равновесная) цена определяется

- A) предприятиями оптовой торговли
- B) производителями, желающими получить прибыль
- C) решением платежеспособных покупателей, желающих купить товар
- D) желанием и возможностью покупателей купить все товары, которые про-давцы захотят продать

9. Верны ли следующие суждения о безработице?

- A. Численность занятых трудом людей и численность трудоспособного насе-ления всегда совпадает.
- B. К безработным относятся все люди трудоспособного возраста, не имеющие работы.

- A) верно только А
- B) верно только Б
- C) верны оба суждения
- D) оба суждения неверны

10. Верны ли следующие суждения о государственном бюджете?

- A. За исполнение государственного бюджета отвечает правительство.
- B. Государственный бюджет утверждается высшей законодательной властью

- A) верно только А
- B) верно только Б
- C) верны оба суждения
- D) оба суждения неверны

Предпринимательская деятельность

*Гаврилов Владислав Геннадьевич,
учитель обществознания и истории,
Школа ГБУЗ «ДС – РЦ «Детские Дюны»,
Сестрорецк, г. Санкт-Петербурга*

1. Самостоятельная, инициативная деятельность людей, направленная на получение прибыли:

- A) изворотливость
- B) ушлость
- C) предприимчивость
- D) предпринимательство

2. Верны ли следующие суждения:

- а) предпринимательской деятельностью могут заниматься граждане, достигшие возраста 16 лет;
- б) предпринимательство не несет риска и угрозы потерь?

- A) верно только а
- B) верно только б
- C) оба суждения верны
- D) оба суждения неверны

3. Верны ли следующие суждения:

- а) к характерным чертам предпринимательства относятся хозяйственное новаторство, экономическая свобода, инициатива и поиск;
- б) фирма – это коммерческая организация, приобретающая факторы производства с целью создания и продажи благ и получения на этой основе прибыли?

- A) верно только а
- B) верно только б
- C) оба суждения верны
- D) оба суждения неверны

4. Верны ли следующие суждения:

- а) предпринимательскую деятельность можно вести только совместно с другими людьми;
- б) «три кита» рыночного предпринимательства – индивидуальное частное предприятие, хозяйственное товарищество и акционерное общество?

-
- A) верно только а
 - B) верно только б
 - C) оба суждения верны
 - D) оба суждения неверны

5. Верны ли следующие суждения:

- а) индивидуальное частное предприятие – это самый древний и простой тип предпринимательства;
- б) меньше четверти всех частных предприятий в мире относится к индивиду-альным?

- A) верно только а
- B) верно только б
- C) оба суждения верны
- D) оба суждения неверны

6. Объединение двух или более лиц для организации и совместного веде-ния дела:

- A) акционерное общество
- B) товарищество
- C) концерн
- D) некоммерческая организация

7. Хозяйственная организация, созданная на основе объединения денеж-ных средств посредством продажи акций:

- A) унитарное предприятие
- B) бюджетное учреждение
- C) акционерное общество
- D) общество с ограниченной ответственностью

8. Ценная бумага, свидетельствующая о вложении капитала в акционерное общество и подтверждающая право на получение части его прибыли:

- A) акция
- B) ваучер
- C) чековая книжка
- D) квитанция

9. Верны ли следующие суждения:

- а) мелкий бизнес является основой экономики по численности предприятий;
- б) крупные предприятия придают экономике стабильность и устойчивость?

- A) верно только а
- B) верно только б
- C) оба суждения верны
- D) оба суждения неверны

10. Предприятие любой формы собственности, характеризующееся ограниченным числом работников и незначительным объемом выпускаемой продукции:

- A) товарищество
- B) малое предприятие
- C) учреждение
- D) контора

Экономическая сфера

*Краснова Татьяна Викторовна,
учитель истории и обществознания,
МБОУ «Дубровская СОШ»,
Оренбургская обл.*

1. Строительная фирма Б. в срок закончила все работы, и строительный объект (школа) к 1 сентября была готова к открытию. Какую сферу экономической деятельности иллюстрирует данный факт?

- A) распределения
- B) потребления
- C) обмена
- D) производства

2. Верны ли следующие утверждения:

- A) Информация иногда выделяется как один из основных экономических ре-сурсов
- B) Земля, труд, капитал и предпринимательская деятельность являются основ-ными факторами производства.

- A) верно только А
- B) верно только Б
- C) верны оба суждения
- D) оба суждения неверны

3. Переполнение сферы обращения бумажными деньгами из-за чрезмерного их выпуска по сравнению с потребностями в действительных деньгах – золоте – это:

- A) экономический кризис
- B) маркетинговые исследования
- C) инфляция
- D) производство

4. Верны ли следующие утверждения:

- А) Когда спрос растет, то растет и предложение Б) Когда растет предложение, обязательно вырастет спрос
- А) верно только А
В) верно только Б
С) верны оба суждения
D) оба суждения неверны

5. На праздновании 850-летия Москвы фирма Н. договорилась с местной администрацией, что обслуживать население мороженым во время праздника города будет только она. Данная ситуация является примером:

- А) конкуренции
В) монополии
С) дефицита
D) олигополии

7. Основным мотивом деятельности предпринимателя является:

- А) стремление улучшить жизнь окружающих людей
В) стремление к получению новых знаний
С) стремление продать свой товар
D) стремление к получению прибыли

8. Государство в командно-административной экономической системе:

- А) обеспечивает правовую защиту частной собственности
В) жестко регулирует производство, обмен и распределение продукции
С) предоставляет свободу производителям
D) не вмешивается в экономические отношения

9. Прямые налоги характеризуются тем, что они:

- А) взимаются непосредственно с дохода и имущества
В) не взимаются с граждан
С) используются только для сокращения государственного долга
D) взимаются только с предприятий

10. К косвенным налогам относится:

- А) подоходный налог с физических лиц
В) налог на прибыль предприятий
С) таможенные пошлины
D) налог на имущество предприятий

11. Роспись доходов и расходов государства на определенный период (на год) – это:

- А) бухгалтерский отчет
В) государственный бюджет

- С) финансовый план
- Д) экономический расчет

12. Государство постоянно берет деньги у населения и не возвращает дол-ги. Эта ситуация является примером:

- А) профицита бюджета
- В) дефицита бюджета
- С) положительного сальдо
- Д) сбалансированного бюджета

13. Верны ли суждения:

А) Труд шахтера, хлебороба, токаря является производительным Б)
Непроизводительный труд не создает товары, он оказывает услуги

- А) верно только А
- В) верно только Б
- С) верны оба суждения
- Д) оба суждения неверны

14. Что не является причиной безработицы?

- А) экономическая конкуренция, в частности на рынке труда
- В) несовпадение спроса и предложения рабочей силы по профессиям, специ-альностям
- С) спад производства
- Д) заботы по уходу за детьми

Тесты по обществознанию

9 класс

Духовная жизнь общества

*Рудько Юлия Александровна, преподаватель
истории и обществознания, ГБОУ СПО
«Выксунский металлургический колледж»*

1. Массовая культура:

- A) появилась с развитием средств массовой информации;
- B) сопровождает всю историю человечества;
- C) является продуктом тоталитарных обществ с их стремлением к контролю, в том числе и средствами культуры;
- D) зародилась в Древнем Риме как зрелище для народа.

2. Культура в широком смысле слова - это:

- A) производство духовных ценностей;
- B) виды искусства;
- C) все виды преобразовательной деятельности;
- D) образованность человека

3. К духовным ценностям относится:

- A) микроскоп;
- B) научное открытие;
- C) компьютер;
- D) телевидение.

4. Искусство от других форм духовной деятельности отличает:

- A) влияние на все сферы общественной жизни;
- B) решение фундаментальных проблем бытия;
- C) выявление законов человеческой психики;
- D) образное восприятие окружающего мира.

5. Верны ли следующие суждения о религии?

- A. Специфическим свойством религии является связь с миром переживаний человека.
- B. Специфическим свойством религии является вера в сверхъестественное.

- A) верно только А;
- B) верно только Б;
- C) верны оба суждения;
- D) оба суждения неверны.

6. Общим для научного и художественного творчества является:

- A) стремление к осмыслению действительности;
- B) обоснованность предположений;
- C) стремление к достоверности;
- D) формирование чувства прекрасного.

7. Верны ли следующие суждения?

- A. Наука - это система знаний.
- Б. Наука - это производство знаний.

- A) верно только А;
- В) верно только Б;
- С) верно А и Б;
- D) оба суждения неверны.

8. К мировым религиям не относится:

- A) христианство;
- В) буддизм;
- С) иудаизм;
- D) ислам.

Демократические выборы и политические партии

*Чешенова Татьяна Валерьевна, кандидат
политических наук, учитель обществознания,
ГБОУ Новороссийский казачий кадетский корпус*

1. Критерий демократичности страны:

- A) Многопарийность
- B) Однопартийность
- C) Беспартийность
- D) Аполитичность

2. Представительная форма участия граждан в политике реализуется по-средством:

- A) представления гражданина о разделении властей
- B) Выборов

-
- C) Представления к государственной награде
 - D) Обращения в государственные органы власти

3. Политическое право гражданина избирать, называется:

- A) Пассивным
- B) Активным
- C) Инертным
- D) Пассионарным

4. Часть конституционного права, закрепляющая права гражданина избирать и быть избранным в органы государственной власти и местного самоуправления:

- A) Административное право
- B) Гражданское право
- C) Обязательственное право
- D) Избирательное право

5. Укажите нижний порог возрастного ценза кандидата на выборах главы администрации субъекта РФ:

- A) 8 лет
- B) 21 год
- C) 30 лет
- D) 35 лет

6. Контингент избирателей, голосующих за партию или кандидата:

- A) Выборщики
- B) Агитаторы
- C) Имиджмейкеры
- D) Электорат

7. Расположите по порядку стадии избирательного процесса: 1. Подсчет голосов 2. Составление списка избирателей 3. Выдвижение и регистрация кандидатов 4. финансирование выборов

- A) 1234
- B) 2341
- C) 4312
- D) 3412

8. Определите тип формирования гражданами органа представительной власти МО, если известно, что граждане голосуют за личность, а не за партию, и от одного округа избирается только один депутат:

- A) Мажоритарный
- B) Пропорциональный
- C) Смешанный
- D) Смешанно-пропорциональный

9. Определите тип партии по идеологическому признаку, если известно, что она отстаивает ценности свободы личности, идею естественных, неотчуждаемых прав человека, его ответственность перед самим собой и обществом:

- A) Радикальная
- B) Социал-демократическая
- C) Либеральная
- D) Коммунистическая

10. Укажите страну, в которой сложилась двухпартийная система:

- A) США
- B) Франция
- C) Китай
- D) Россия

Избирательное право

Мишенива Надежда Николаевна, Республика Коми

1. Уклонение избирателей от участия в голосовании - это

- A) популизм
- B) абсентеизм
- C) анархизм
- D) пацифизм

2. Каким избирательным правом пользуется гражданин, выдвигая свою кандидатуру на выборах в качестве кандидата?

- A) активным избирательным правом
- B) пассивным избирательным правом
- C) активным и пассивным избирательным правом
- D) ничего из перечисленного выше

3. Термин «президент» происходит от латинского слова *Praesidens*, что в переводе это слово означает...

- A) сидящий впереди
- B) впереди всех
- C) ответственный
- D) 4)стоящий впереди

4. Размещаются ли в помещении для голосования или непосредственно перед ним информацию обо всех кандидатах?

- A) размещаются только при наличии письменного согласия кандидата
- B) не размещаются

-
- C) размещаются только по решению участковой избирательной комиссии
 - D) должны быть размещены

5. Федеральное Собрание Российской Федерации – это

- A) законодательный орган России
- B) исполнительный орган России
- C) высший представительный и законодательный орган Российской Федерации
- D) представительный орган России

6. Когда была принята Конституция Российской Федерации?

- A) 12 июня 1991 года
- B) 12 июня 1993 года
- C) 17 июня 1994 года
- D) 12 декабря 1993 года

7. Кто был избран первым Президентом Российской Федерации?

- A) Дмитрий Анатольевич Медведев
- B) Михаил Сергеевич Горбачев
- C) Борис Николаевич Ельцин
- D) Владимир Владимирович Путин

8. При получении избирательного бюллетеня избиратель проставляет в списке избирателей:

- A) фамилию, имя, отчество
- B) серию и номер паспорта, дату рождения
- C) только свою подпись
- D) серию и номер своего паспорта

9. Форма правления, при которой народ является источником власти – это

- A) теократия
- B) демократия
- C) монархия
- D) анархия

10. Какой избирательной системы не существует в Российской Федерации?

- A) законодательной
- B) смешанной
- C) пропорциональной
- D) мажоритарной

Итоговое контрольное тестирование

Клементьева Елена Михайловна,

Тверская обл.

1. Восприятие – это

- A) форма рационального познания;
- B) присущее только человеку психическое свойство;
- C) способ объяснения мира;
- D) форма чувственного познания.

2. Социализация личности – это

- A) общение с окружающими;
- B) изменение социального статуса;
- C) усвоение накопленного людьми социального опыта;
- D) переход из одной социальной группы в другую.

3. Исчерпывающе, раз и навсегда установленное знание – это

- A) научное понятие;
- B) относительная истина;
- C) народная истина;
- D) абсолютная истина.

4. Общность исторического пути, единство территории, литературного языка, устойчивости экономических связей являются признаками

- A) нации;
- B) государства;
- C) класса;
- D) народности.

5. Наличие в обществе различных социальных групп – это проявление

- A) социальной несправедливости;
- B) социальной дифференциации;
- C) социальной мобильности;
- D) уровня социальной мобильности.

6. Какая из перечисленных особенностей свойственна человеку и отсутствует у животного?

- A) действие механизмов наследственности;
- B) работа органов чувств;
- C) способность адаптироваться к окружающей среде;
- D) целенаправленная деятельность.

7. Нравственные нормы, в отличие от правовых

- A) возникли позднее;
- B) отражают сложившееся в обществе представление о добре и зле;
- C) поддерживаются государством;
- D) являются способом регулирования общественных отношений.

8. В отличие от природы, общество

- A) обладает свойствами системы;
- B) находится в развитии;
- C) выступает в качестве творца культуры;
- D) развивается закономерно.

9. Верны ли следующие суждения о социализации личности?

- A. Процесс социализации продолжается у человека всю жизнь.
- B. Важным институтом социализации выступают СМИ.
- A) верно только А;
- B) верно только Б;
- C) верны оба суждения;
- D) оба суждения неверны

10. Понятие «страта», «отклоняющееся поведение», «маргиналы» относятся к характеристике сферы общества

- A) экономической;
- B) социальной;
- C) политической;
- D) духовной.

11. К мировым религиям относятся

- A) христианство;
- B) синтоизм;
- C) индуизм;
- D) конфуцианство.

12. Совершение преступления – это пример

- A) социальной нормы;
- B) формальной негативной санкции;
- C) конформного поведения;
- D) девиантного поведения.

13. К отличительным признакам правового государства относится

- A) избрание законодательного органа;
- B) суверенитет;
- C) наличие конституции;
- D) разделение властей.

14. К числу подзаконных актов относится

- A) Конституция РФ;
- B) федеральный закон РФ;
- C) закон субъекта РФ;
- D) указ Президента РФ.

15. К главным политическим институтам относится

- A) партия;
- B) государство;
- C) семья;
- D) парламентаризм.

16. Установите соответствие между правоотношениями и отраслями права, которые их регулируют: к каждой позиции в первом столбце подберите соответствующую позицию из второго столбца.

- | | |
|--------------------------|--|
| Правоотношения | Отрасли права |
| A) гражданское право | A) заключена сделка |
| B) государственное право | B) приняты поправки в федеральный закон |
| B) трудовое право | C) подписан коллективный договор |
| | D) гражданин вступил в права наследника |
| | E) президент подписал указ о помиловании |

17. Установите соответствие между понятиями: к каждой позиции в первом столбце подберите соответствующую позицию из второго столбца.

- | | |
|---------------------|--|
| Характеристики | Понятия |
| A) индивид | A) человек, активно осваивающий и целенаправленно преобразующий природу, |
| B) индивидуальность | B) общество, самого себя |
| B) личность | C) отдельно взятый представитель всего человеческого рода |
| | D) человек в комплексе его неповторимых, уникальных свойств |
| | E) человек, способный сознательно и ответственно делать выбор |

18. Установите соответствие между видами познания и отдельными познавательными операциями: к каждой позиции в первом столбце подберите соответствующую позицию из второго столбца.

- | | |
|-------------------------|--|
| Познавательные операции | Виды познания |
| A) рациональное | A) зрительное восприятие предмета |
| B) чувственное | B) формирование представления о предмете |
| | C) выдвижение гипотезы |
| | D) формирование понятия о предмете |
| | E) обобщение полученных данных |

19. Найдите в приведенном ниже списке положения, относящиеся к основам конституционного строя РФ, и запишите цифры, под которыми они указаны.

- А) признание прав и свобод человека высшей ценностью
- В) условия и порядок заключения трудового договора
- С) верховенство Конституции и федеральных законов РФ на всей ее территории
- Д) обстоятельства, исключающие уголовную ответственность
- Е) идеологическое многообразие

20. Найдите в приведенном ниже списке отличительные признаки тоталитарного государства, и запишите цифры, под которыми они указаны.

- А) общеобязательные нормы права
- В) сращивание партийного и государственного аппарата
- С) поддержка патриархального уклада жизни
- Д) превращение партийной идеологии в общегосударственную
- Е) ликвидация политической оппозиции.

21. Завершите фразу: «Переживаемая и осознаваемая человеком нужда в том, что необходимо для поддержания организма и развития личности – это...»

22. Дайте определение понятия «юридическая ответственность»

23. Раскройте на примерах проявление тенденции к международной интеграции. Дайте развернутый ответ.

Тесты по обществознанию

11 класс

Экономика

*Масленникова Екатерина Леонидовна, научный
руководитель, учитель истории,
обществознания высшей категории, эксперт по
проверке работ ЕГЭ, ГБОУ СОШ № 162*

Мировая экономика

1. К преимуществам открытия внутреннего рынка для иностранных про-изводителей относится:

- A) зависимость экономики страны от импортных товаров
- B) расширение выбора потребителей
- C) банкротство ряда отечественных предприятий
- D) рост оборота транснациональных корпораций

2. Верны ли следующие суждения о мировой экономике?

- A. Современный этап международного разделения труда связан переводом промышленного производства в развивающиеся страны.
- B. Свободное движение капитала усиливает интеграцию мировой экономики.

- A) верно только А
- B) верно только Б
- C) верны оба суждения
- D) оба суждения неверны

3.3. Что относится к рискам открытия внутреннего рынка иностранных фирм?

- A) рост конкуренции производителей
- B) расширение выбора потребителей
- C) увеличение доходов государственного бюджета
- D) углубление социального неравенства

4. Верны ли следующие суждения о мировой экономике?

- A. В мировой экономике действует международное разделение труда
- B. Экономическая специализация стран определяется наличием в них факто-ров производства.

- A) верно только А
- B) верно только Б
- C) верны оба суждения
- D) оба суждения неверны

5. Основным институтом международной финансовой системы является:

- A) Международная организация труда
- B) Всемирная торговая организация
- C) Международный валютный фонд
- D) Организация экономического сотрудничества и развития

6. Три страны договорились о снятии таможенных тарифов и квот в отношении друг друга. Какой тип экономической интеграции возник в этом случае?

- A) зона свободной торговли
- B) общий рынок
- C) таможенный союз
- D) экономический союз

7. Если правительство согласилось удовлетворить требования директоров автомобильных заводов закрыть внутренний рынок от зарубежных легковых автомашин, то это пример:

- A) свободной торговли
- B) протекционизма
- C) экспортирования товаров
- D) бартера

8. Одним из субъектов мировых хозяйственных отношений является (-ются):

- A) любое открытое акционерное общество
- B) сектор домашних хозяйств
- C) муниципальные унитарные предприятия
- D) транснациональные банки

9. Верны ли следующие суждения о тарифных методах регулирования международной торговли?

- A. К тарифным методам регулирования международной торговли относится лицензия.
- B. К тарифным методам регулирования международной торговли относится эмбарго
- A) верно только А
- B) верно только Б
- C) верны оба суждения
- D) оба суждения неверны

10. Протекционизм:

- A) предоставляет благоприятный торговый режим зарубежным фирмам
- B) охраняет авторские права отечественных производителей
- C) стимулирует рост отечественного ВВП
- D) обеспечивает снижение цен на импорт

СОДЕРЖАНИЕ

ИСТОРИЯ

Тесты по истории 5 класс	3
Тесты по истории 6 класс	39
Тесты по истории 7 класс	75
Тесты по истории 8 класс	117
Тесты по истории 9 класс	141
Тесты по истории 10 класс.....	185
Тесты по истории 11 класс.....	219

география

Тесты по географии 5 класс	245
Тесты по географии 6 класс	263
Тесты по географии 7 класс	309
Тесты по географии 8 класс	371
Тесты по географии 9 класс	407
Тесты по географии 10 класс	423
Тесты по географии 11 класс	433

обществознание

Тесты по обществоведению 6 класс.....	445
Тесты по обществоведению 7 класс.....	455
Тесты по обществоведению 8 класс.....	461
Тесты по обществоведению 9 класс.....	471
Тесты по обществоведению 10 класс.....	495
Тесты по обществоведению 11 класс.....	531

Учебное издание

Сборник тестов

История 5-11 класс

География 5-11 класс

Обществознание 6-11 класс

Редактор-составитель

Игорь Жаборовский

Редактор

Иван Котляник

Координатор проекта

Марина Емельянова

Контент-менеджеры

Кирилл Храповицкий

Александр Орешкевич

Корректурa

Надежда Кремлевская

Кристина Орлова

Елена Розум

Компьютерная верстка

Александр Криницкий

Дизайн обложки

Александр Криницкий

Подписано в печать 14.05.2015 г. Формат 60 x 84
1/16. Бумага офсетная. Печать цифровая.
Усл. печ. л.32,20. Уч.-изд. л. 12,03.
Тираж 90 экз. Заказ № 1572.

Издатель: ООО «Витпостер».

Свидетельство о государственной регистрации издателя,
изготовителя, распространителя печатных изданий
№ 1/98 от 02.12.2013.

Полиграфическое исполнение: УП «Донарит»

Свидетельство о государственной регистрации издателя, изготовителя,
распространителя печатных изданий № 2/108 от 07.04.2014.

ул. Октябрьская, д. 25, 220030, г. Минск