


СВОЯ ИГРА

Нагорная Ольга Валентиновна


Категория 1

Задачи Шутки



Категория 2

Железная логика



**Нужно делать так, как нужно.
А как не нужно, делать не нужно!**

- Винни Пух

Категория 3
Всякая Всячина



Категория 4
Геометрия вокруг нас



Категория 5
Быстрый счет



СВОЯ

игра

Категория 1

Задачи Шутки

10

20

30

40

50

Категория 2

Железная Логика

10

20

30

40

50

КАТЕГОРИЯ 3

ВСЯКАЯ ВСЯЧИНА

10

20

30

40

50

Категория 4

Геометрия вокруг нас

10

20

30

40

50

Категория 5

Быстрый счет

10

20

30

40

50



Категория 1

10

Задачи Шутки

- Четверо играли в домино 4 часа.
- Сколько часов играл каждый?

Ответ

Категория 1

Задачи Шутки

10



4

A small icon of a grid or table with a blue header and white cells, located in the bottom right corner of the slide.

Категория 1	20	20	20	20	20
Категория 2	20	20	20	20	20
Категория 3	20	20	20	20	20
Категория 4	20	20	20	20	20
Категория 5	20	20	20	20	20

Категория 1

20

Задачи Шутки

- Горело 7 свечей.
- 2 из них потушили
- Сколько свечей
останется ?

Ответ

Категория 1

Задачи Шутки

20



2

A small icon of a grid or table with a blue header and white cells, located in the bottom right corner of the slide.

Категория 1	20	20	20	20
Категория 2	20	20	20	20
Категория 3	20	20	20	20
Категория 4	20	20	20	20
Категория 5	20	20	20	20

Категория 1

30

Задачи Шутки

- *Петух, стоя на одной ноге, весит 3 кг.*
- *Сколько он весит стоя на
на
2х ногах?*

Ответ

Категория 1

Задачи Шутки

30



3 кг

A small icon of a grid or table with a blue header and white cells, located in the bottom right corner of the slide.

Категория 1	20	20	20	20	20
Категория 2	20	20	20	20	20
Категория 3	20	20	20	20	20
Категория 4	20	20	20	20	20
Категория 5	20	20	20	20	20

Кот в мешке

40



Вопрос

Категория 1

40

Задачи Шутки

- По дороге шли 2 мальчика
 - И нашли 2 рубля.
- За ними ещё четверо идут.
 - Сколько они найдут?

Ответ

Категория 1

Задачи Шутки

40

- **Ничего**



Категория 1	20	30	40	50
Категория 2	20	30	40	50
Категория 3	20	30	40	50
Категория 4	20	30	40	50
Категория 5	20	30	40	50

Категория 1

50

Задачи Шутки

- *На грядке сидели 4 воробья.*
- *К ним прилетели ещё 2 воробья.*
 - *Кот Васька поймал одного воробья*
- *Сколько воробьёв осталось*
 - *НА ГРЯДКЕ*

Ответ

Категория 1

Задачи Шутки

50

- Ниодного



Категория 1	20	30	40	50
Категория 2	20	30	40	50
Категория 3	20	30	40	50
Категория 4	20	30	40	50
Категория 5	20	30	40	50

Категория 2

Железная Логика

10

- *3 мальчика играли в шашки.*
- *Всего было сыграно три партии.*
- *По сколько партий сыграл каждый мальчик?*


Ответ

Категория 2

Железная Логика

10

- По две партии



Категория 1	20	20	20	20
Категория 2	20	20	20	20
Категория 3	20	20	20	20
Категория 4	20	20	20	20
Категория 5	20	20	20	20

Категория 2

20

Железная Логика

- *Одного человека спросили-*
 - *Сколько Вам лет?*
- *-Я старше некоторых своих*
 - *Родственников в 600 раз.*
 - *Может ли так быть?*


Ответ

Категория 2

20

Железная Логика

- **Бывает очень часто**
 - **Деду 50 лет, а**
 - **Внуку 1 месяц**



Кот в мешке

30



Вопрос

Категория 2

30

Железная Логика

- *Волк и Лиса*
- *соревновались в беге.*
- *Волк был одним из первых,*
- *а Лиса была предпоследней.*
- *Кто какое место занял*

Ответ

Категория 2

Железная Логика

30

- Лиса- первое,
- Волк- второе



A small thumbnail of the game board, showing a grid with categories and points.

Категория	1	2	3	4	5
Категория 1	10	20	30	40	50
Категория 2	10	20	30	40	50
Категория 3	10	20	30	40	50
Категория 4	10	20	30	40	50
Категория 5	10	20	30	40	50

Категория 2

40

Железная Логика

- *5 ворохов и 7 ворохов сена*
 - *свезли в месте.*
- *Сколько получилось*
 - *ворохов сена?*


Ответ

Категория 2

Железная Логика

40

- **Один**



Категория 1	20	30	40	50
Категория 2	20	30	40	50
Категория 3	20	30	40	50
Категория 4	20	30	40	50
Категория 5	20	30	40	50

Категория 2

50

Железная Логика

- *За книгу заплатили*
 - *Один рубль. И*
 - *ещё половину*
 - *стоимости книги.*
- *Сколько стоит книга?*


Ответ

Категория 2

Железная Логика

50

- Два рубля



Категория 1	10	20	30	40	50
Категория 2	10	20	30	40	50
Категория 3	10	20	30	40	50
Категория 4	10	20	30	40	50
Категория 5	10	20	30	40	50

ВСЯКАЯ ВСЯЧИНА

- ***Мороженное стоит 27 рублей.***
- ***Сколько можно купить***
 - ***на 100 рублей***

Ответ

КАТЕГОРИЯ 3

10

ВСЯКАЯ ВСЯЧИНА

• Не больше трёх



Категория 1	20	20	20	20
Категория 2	20	20	20	20
Категория 3	20	20	20	20
Категория 4	20	20	20	20
Категория 5	20	20	20	20

ВСЯКАЯ ВСЯЧИНА

- *Сколько получится*
 - *Десятков, если*
- *Два десятка умножить*
на
 - *Три десятка?*

Ответ

КАТЕГОРИЯ 3

20

ВСЯКАЯ ВСЯЧИНА

- 60 (шестьдесят)



Категория	1	2	3	4	5
Категория 1	10	20	30	40	50
Категория 2	10	20	30	40	50
Категория 3	10	20	30	40	50
Категория 4	10	20	30	40	50
Категория 5	10	20	30	40	50

- *Что тяжелее,*
- *Килограмм ваты или*
- *Килограмм железа*


Ответ

КАТЕГОРИЯ 3

30

ВСЯКАЯ ВСЯЧИНА

- **ОДИНАКОВЫ**



Категория 1	20	30	40	50
Категория 2	20	30	40	50
Категория 3	20	30	40	50
Категория 4	20	30	40	50
Категория 5	20	30	40	50

ВСЯКАЯ ВСЯЧИНА

- *У отца 6 сыновей. У*
- *Каждого сына есть одна*
сестра.
- *Сколько всего детей у*
отца?

Ответ

- **7(сестра одна)**



Категория 1	20	30	40	50
Категория 2	20	30	40	50
Категория 3	20	30	40	50
Категория 4	20	30	40	50
Категория 5	20	30	40	50

Кот в мешке

50



Вопрос

ВСЯКАЯ ВСЯЧИНА

- *Тройка лошадей пробежала 30 км.*
- *Сколько километров пробежал каждый конь?*

Ответ

КАТЕГОРИЯ 3

50

ВСЯКАЯ ВСЯЧИНА



Нисколко
(в тройке лошади)

	1	2	3	4	5
Категория 1	00	00	00	00	00
Категория 2	00	00	00	00	00
Категория 3	00	00	00	00	00
Категория 4	00	00	00	00	00
Категория 5	00	00	00	00	00

Кот в мешке

10



Вопрос

Категория 4

10

Геометрия вокруг нас

- *Могут ли*
- *смежные углы*
быть
- *равными?*


Ответ

Категория 4

10

Геометрия вокруг нас

- Да ,
- если они по 90
градусов



Категория 1	20	30	40	50
Категория 2	20	30	40	50
Категория 3	20	30	40	50
Категория 4	20	30	40	50
Категория 5	20	30	40	50

Категория 4

20

Геометрия вокруг нас

- *Верно ли,*
- *если угол 54° , то*
- *вертикальный с ним*
- *равен 34°*

Ответ

Категория 4

20

Геометрия вокруг нас

- Нет



Категория 1	20	20	20	20
Категория 2	20	20	20	20
Категория 3	20	20	20	20
Категория 4	20	20	20	20
Категория 5	20	20	20	20

Категория 4

30

Геометрия вокруг нас

- *В каком треугольнике*
- *все высоты , медианы*
- *и биссектрисы имеют*
 - *равные длины?*

Ответ


Категория 4

30

Геометрия вокруг нас

- В

РАВНОСТОРОННЕМ



Категория 1	20	30	40	50
Категория 2	20	30	40	50
Категория 3	20	30	40	50
Категория 4	20	30	40	50
Категория 5	20	30	40	50

Категория 4

40

Геометрия вокруг нас

- *Верно ли, что если при*
- *пересечении 2х прямых третьей,*
- *внутренние накрест лежащие*
 - *углы равны, то прямые*
 - *параллельны?*

Ответ

Категория 4

40

Геометрия вокруг нас

- Верно



	1	2	3	4	5
Категория 1	10	20	30	40	50
Категория 2	10	20	30	40	50
Категория 3	10	20	30	40	50
Категория 4	10	20	30	40	50
Категория 5	10	20	30	40	50

Категория 4

50

Геометрия вокруг нас

- *Существует ли
треугольник*
- *с длинами сторон*
 - *5см, 3см, 2см*

Ответ

Категория 4

50

Геометрия вокруг нас

- Нет
- Сумма меньших сторон не может быть равной или меньше большей



Категория 1	20	30	40	50
Категория 2	20	30	40	50
Категория 3	20	30	40	50
Категория 4	20	30	40	50
Категория 5	20	30	40	50

Категория 5
Быстрый счет

10

- $12 * 1.5 = ?$

Ответ

Категория 5

Быстрый счет

10

- $12+6=18$



Калькулятор				
Калькулятор 1	00	00	00	00
Калькулятор 2	00	00	00	00
Калькулятор 3	00	00	00	00
Калькулятор 4	00	00	00	00
Калькулятор 5	00	00	00	00

Кот в мешке

20



Вопрос

Категория 5
Быстрый счет

20

- $-3.7 * 11 = ?$

Ответ

Категория 5

Быстрый счет

20

- **-40,7**



Категория 1	20	30	40	50
Категория 2	20	30	40	50
Категория 3	20	30	40	50
Категория 4	20	30	40	50
Категория 5	20	30	40	50

Категория 5
Быстрый счет

30

- $(-25)^2 = ?$


Ответ

Категория 5

Быстрый счет

30

• 625



	00	20	40	60
Категория 1	00	20	40	60
Категория 2	00	20	40	60
Категория 3	00	20	40	60
Категория 4	00	20	40	60
Категория 5	00	20	40	60

- $-1,25 * (-8) = ?$

Ответ

Категория 5

Быстрый счет

40



10

A small icon of a grid or table with a blue header and a white body, containing some text and numbers.

Категория 1	20	30	40	50
Категория 2	20	30	40	50
Категория 3	20	30	40	50
Категория 4	20	30	40	50
Категория 5	20	30	40	50

Категория 5
Быстрый счет

50

- $-2,5 * 0,4$

Ответ

Категория 5

Быстрый счет

50



-1

A small icon of a grid or table is located in the bottom right corner of the slide.

Категория 1	20	30	40	50
Категория 2	20	30	40	50
Категория 3	20	30	40	50
Категория 4	20	30	40	50
Категория 5	20	30	40	50

Использованные источники

Аудиоряды заимствованы с сайта
GetTune.net по запросу «Своя игра»

[Звезда](#)

[Фон](#)

[Кот в мешке](#)

[Идея игры](#)

Автор шаблона игры Нагорная О.В.

2016 год



СПАСИБО ЗА ИГРУ

Поздравляем

Победителей!