

Математический КВН

Составитель :
**Коваленко Галина
Юрьевна**
*учитель начальных
классов*
МБОУ «НШ – ДС № 5»



Математический ДИКТАНТ





Во время летних каникул Юля
гостила у бабушки 1 неделю,
а её брат Юра на 3 дня меньше.

Сколько дней гостил у бабушки Юра?



Винни-Пух, Кролик и Пятачок
ожидали поезд 3 часа.

Сколько часов ожидал поезд каждый
их них?




**На столе лежат 7 ложек,
столько же вилок,
и столько же ножей.**

Сколько гостей ожидают к обеду?



**Если к цифре
5 справа
приписать 0,**

**на сколько
увеличится это
число?**



**Курочка Ряба
снесла яйца.
Два десятка их
сложили в коробку
и ещё 3 яйца не
уместилось
в эту коробку.**





**Сколько яиц
снесла курочка
Ряба?**


На сколько
нужно уменьшить
число 20,
чтобы получить
сумму
чисел 3 и 8 ?



$$20 - ? = 3 + 8$$

Ребусы






P1a

по




40



1000





100янка

Отгадай ребус

и ты узнаешь о правилах личной гигиены.

**ПРЕЖДЕ ЧЕМ ВСЯ
7Я 05 СЯДЕТ ЗА СТОЛ,
ПРЕЗРИТЕЛЬНО
ВЫЗ КЛЕЁНКУ.**



$6+6$

$12-9$

$8+5$

$13-8$

$9+7$

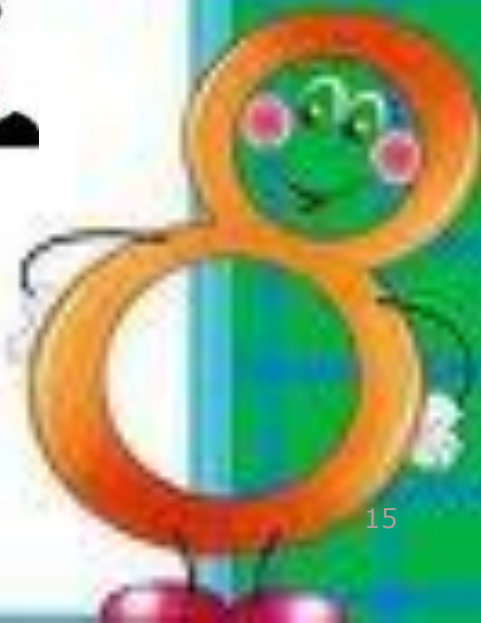
$7+8$

$7+7$

$11-9$

$40+6$

Задачи-тесты



Выбери правильный ответ

7 воробышек спустились на грядки,
Скачут и что - то клюют без оглядки.
Котик - хитрюга внезапно
подкрался,
Мигом схватил одного и умчался.
Вот как опасно клевать, без оглядки!
Сколько теперь их осталось на
грядке?

0

6

5



Выбери правильный ответ

Дед, баба, внучка, Жучка, кошка и мышка тянули-тянули репку и, наконец, вытянули. Сколько глаз смотрело на репку?



1
0


1
2

8

Выбери правильный ответ



Два цыплёнка стоят,
Два в скорлупке
сидят,
Шесть яиц под
крылом



У наседки лежат.
Сосчитай поточней,
Отвечай поскорей:
Сколько будет цыплят
У наседки моей?

9

1
0

8

Выбери правильный ответ



**Два щенка-баловника
Бегают, резвятся,
К шалунишкам три
щенка
С громким лаем мчатся.
Вместе будет веселей.
Сколько собралось
друзей?**

4

5

6

Выбери правильный ответ

**Семь листьев Вася сам
собрал,
Два листика Алеша дал.
Скажите, сколько у него
Осенних листиков всего?**

7

9

8



Выбери правильный ответ

У стены стоят кадущки.
В каждой ровно по 2
лягушки.


Если было пять кадущек,
Сколько было в них
лягушек?



- 1
- 0
- 5
- 8




Логические задачи



Кошки

В комнате 4 угла, в каждом углу по одной кошки, напротив каждой кошки по три кошки, на хвосте у каждой кошки, по одной кошки. Сколько кошек в комнате?




Свечи.

В комнате горело 50 свечей, 20 из них задули. Сколько останется?



Сидят три барана, против
каждого барана - два
барана, много ль всех?



*Сестре 4 года, брату 6 лет.
Сколько лет будет брату, когда
сестре исполнится 6 лет?*



**Как в комнате можно
поставить 2 стула так, чтобы у
каждой из четырех ее стен
стояло по одному стулу?**



+

2

.

?

=