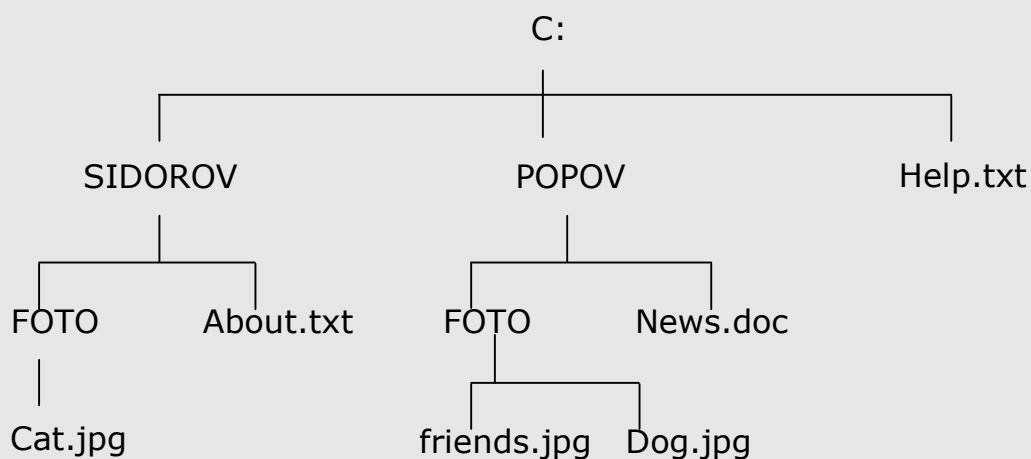


Домашнее задание №8

Тема: О файлах и файловых структурах

1. Запишите **полный путь** к файлу **readme.txt**, если известно, что он хранится в папке **HELP**, вложенной в папку **HOME**, находящейся на диске **D:**.

2. Дана **иерархическая файловая структура**:



Записать **полные пути** ко всем **файлам** данной структуры.

1)

2)

3)







4)

5)

6)

3. Выберите из предложенного списка файлов только те, которые относятся к **графическим** (используются для хранения **рисунков**): **my.doc**, **family.jpg**, **car.bmp**, **bell.mp3**, **dog.gif**, **song.wav**, **book.zip**, **war.avi**.

4. Запишите **полную** информацию обо всех приведённых ниже файлах (**имя, расширение, размер, дата и время создания или модификации**):

Имя	Размер	Тип	Изменен
 emblema.gif	10 КБ	GIF-рисунок	10.02.2005 23:45
 ob2004_05.doc	1,179 КБ	Документ Microsof...	03.08.2004 12:41
 RASP_ZAN.DOC	107 КБ	Документ Microsof...	10.08.2006 10:35
 reklama.jpg	888 КБ	JPEG-рисунок	27.07.2006 14:14
 RKS.COM	14 КБ	Приложение MS-DOS	21.01.1993 8:31
 журнал2005.xls	62 КБ	Лист Microsoft Excel	13.09.2006 13:40

*

1)

2)

3)

4)

5)

6)