

# Натуральные числа

## Вариант 1

### Часть А

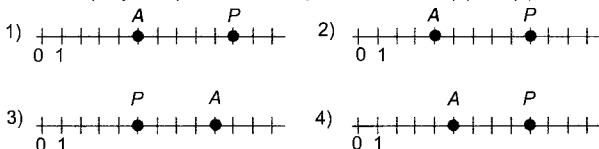
**A1** Прочитайте число 41002003 и укажите правильный ответ.

- 1) четыреста десять тысяч двести три
- 2) четыре миллиона сто тысяч двести три
- 3) сорок один миллион две тысячи три
- 4) сорок один миллион двести три

**A2** Расположите в порядке убывания числа 31099; 310001; 31109 и укажите правильный ответ.

- 1) 310001; 31109; 31099
- 2) 310001; 31099; 31109
- 3) 31109; 31099; 310001
- 4) 31099; 31109; 310001

**A3** На каком рисунке правильно изображены точки  $P$  (9) и  $A$  (5)?

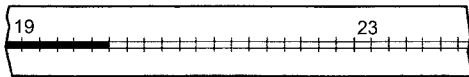


**A4** Турист идет по шоссе со скоростью 3 км/ч. Сейчас он находится у километрового столба с отметкой 41 км. У столба с какой отметкой он будет через 4 часа?

- 1) 29 км
- 2) 53 км
- 3) 29 км или 53 км
- 4) для решения задачи не хватает данных

### Часть В

**B1** Прочитайте показания термометра.



Ответ: \_\_\_\_\_.

**B2** В таблице указана численность (в тыс. чел.) населения семи городов России.

Название города	Численность населения (тыс. чел.)
Астрахань	506
Иваново	432
Курск	412
Рязань	521
Тверь	410
Тула	472
Ярославль	613

Укажите число городов с населением более 450000 человек.

Ответ: \_\_\_\_\_.

## Вариант 2

### Часть А

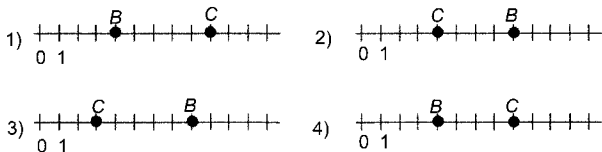
**A1** Запишите цифрами число три миллиона двадцать тысяч три и укажите правильный ответ.

- 1) 320003
- 2) 3023000
- 3) 3002003
- 4) 3020003

**A2** Расположите в порядке возрастания числа 832001; 83199; 83204 и укажите правильный ответ.

- 1) 83204; 83199; 832001
- 2) 83199; 83204; 832001
- 3) 832001; 83204; 83199
- 4) 832001; 83199; 83204

**A3** На каком рисунке правильно изображены точки  $B$  (8) и  $C$  (4)?




**A4** Турист идет по шоссе со скоростью 4 км/ч. Сейчас он находится у километрового столба с отметкой 31 км. У столба с какой отметкой он будет через 3 часа?

- 1) 19 км
- 2) 43 км
- 3) 19 км или 43 км
- 4) для решения задачи не хватает данных

### Часть В

**B1** Прочитайте показания термометра.



Ответ: \_\_\_\_\_.

**B2** В таблице указана численность (в тыс. чел.) населения семи городов России.

Название города	Численность населения (тыс. чел.)
Астрахань	506
Иваново	432
Курск	412
Рязань	521
Тверь	410
Тула	472
Ярославль	613

Укажите число городов с населением менее 480000 человек.

Ответ: \_\_\_\_\_.