

**Государственная (итоговая) аттестация
по МАТЕМАТИКЕ
Вариант № 1305**

Инструкция по выполнению работы

Общее время экзамена — 235 минут.

Характеристика работы. Всего в работе 26 заданий, из которых 20 заданий базового уровня (часть 1) и 6 заданий повышенного уровня (часть 2). Работа состоит из трёх модулей: «Алгебра», «Геометрия», «Реальная математика».

Модуль «Алгебра» содержит 11 заданий: в *части 1* — 8 заданий; в *части 2* — 3 задания. Модуль «Геометрия» содержит 8 заданий: в *части 1* — 5 заданий; в *части 2* — 3 задания. Модуль «Реальная математика» содержит 7 заданий: все задания — в *части 1*.

Советы и указания по выполнению работы. Сначала выполняйте задания части 1. Начать советуем с того модуля, задания которого вызывают у Вас меньше затруднений, затем переходите к другим модулям. Для экономии времени пропускайте задание, которое не удаётся выполнить сразу, и переходите к следующему. Если у Вас останется время, Вы сможете вернуться к пропущенным заданиям.

Все необходимые вычисления, преобразования и т.д. выполняйте в черновике. Если задание содержит рисунок, то на нём непосредственно в тексте работы можно выполнять необходимые Вам построения. Рекомендуем внимательно читать условие и проводить проверку полученного ответа. Ответы сначала укажите на листах с заданиями экзаменационной работы, а затем перенесите в бланк ответов № 1.

Решения к заданиям части 2 и ответы к ним запишите на бланке ответов № 2. Задания можно выполнять в любом порядке, начиная с любого модуля. Текст задания переписывать не надо, необходимо только указать его номер. Обращаем Ваше внимание на то, что записи в черновике не будут учитываться при оценивании работы.

При выполнении работы Вы можете воспользоваться справочными материалами.

Как оценивается работа. Баллы, полученные Вами за верно выполненные задания, суммируются. Для успешного прохождения итоговой аттестации необходимо набрать в сумме не менее 8 баллов, из них: не менее 3 баллов по модулю «Алгебра», не менее 2 баллов по модулю «Геометрия» и не менее 2 баллов по модулю «Реальная математика». За каждое правильно выполненное задание части 1 выставляется 1 балл. В каждом модуле части 2 задания расположены по нарастанию сложности и оцениваются в 2, 3 и 4 балла.

Желаем успеха!

Часть 1

▪ Для заданий с выбором ответа (2, 3, 8, 14) из четырёх предложенных вариантов выберите один верный.

В бланке ответов № 1 поставьте знак «×» в клеточку, номер которой соответствует номеру выбранного Вами ответа.

▪ Для заданий с кратким ответом полученный результат сначала запишите на листе с текстом работы после слова «Ответ». Если получена обыкновенная дробь, обратите её в десятичную.

Перенесите ответ в бланк ответов № 1 справа от номера соответствующего задания, начиная с первой клеточки. Каждый символ (цифру, знак минус, запятую или точку с запятой) пишите в отдельной клеточке в соответствии с приведёнными в бланке образцами. Единицы измерений указывать не нужно.

▪ Если при решении задания 4 найдено несколько корней, запишите их (в любом порядке) в бланк ответов № 1, разделив точкой с запятой (;).

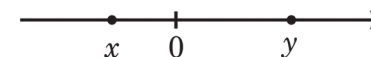
Ответом к заданиям 5 и 13 является последовательность цифр. Перенесите цифры в бланк № 1 без пробелов, запятых и других символов.

Модуль «Алгебра»

1 Найдите значение выражения $\frac{5,6 \cdot 0,3}{0,8}$.

Ответ: _____.

2 На координатной прямой отмечены числа x и y .



Какое из приведённых утверждений **неверно**?

1) $xy < 0$ 2) $y - x < 0$ 3) $x^2 y > 0$ 4) $x + y > 0$

3 Значение какого из данных выражений является наибольшим?

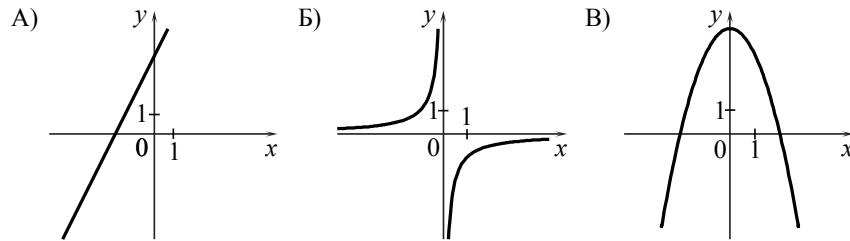
1) $\sqrt{11}$ 2) $\frac{\sqrt{21}}{\sqrt{3}}$ 3) $\sqrt{2} \cdot \sqrt{5}$ 4) $2\sqrt{3}$

4) Решите уравнение $2 - 3(2x + 2) = 5 - 4x$.

Ответ: _____.

5) Установите соответствие между графиками функций и формулами, которые их задают.

ГРАФИКИ



ФОРМУЛЫ

- 1) $y = -\frac{1}{x}$ 2) $y = 4 - x^2$ 3) $y = 2x + 4$ 4) $y = \sqrt{x}$

Ответ:

А	Б	В

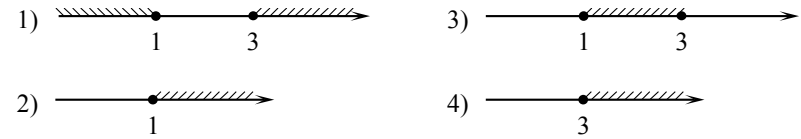
6) Геометрическая прогрессия (b_n) задана условиями: $b_1 = 4$, $b_{n+1} = 2b_n$. Найдите b_7 .

Ответ: _____.

7) Упростите выражение $\frac{xy + y^2}{15x} \cdot \frac{3x}{x + y}$ и найдите его значение при $x = 18$; $y = 7,5$. В ответе запишите найденное значение.

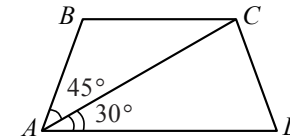
Ответ: _____.

8) На каком рисунке изображено множество решений неравенства $x^2 - 4x + 3 \geq 0$?



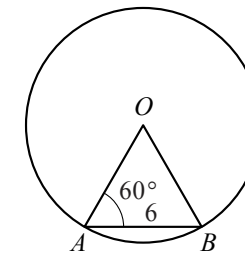
Модуль «Геометрия»

9) Найдите больший угол равнобедренной трапеции $ABCD$, если диагональ AC образует с основанием AD и боковой стороной AB углы, равные 30° и 45° соответственно.



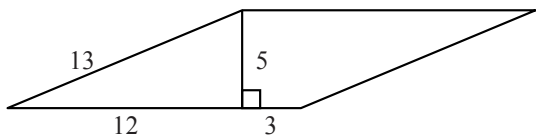
Ответ: _____ град.

10) Центральный угол AOB опирается на хорду AB длиной 6. При этом угол OAB равен 60° . Найдите радиус окружности.



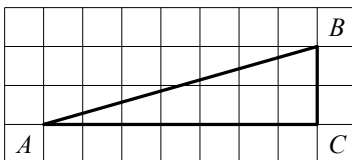
Ответ: _____.

11 Найдите площадь параллелограмма, изображённого на рисунке.



Ответ: _____.

12 Найдите тангенс угла B треугольника ABC , изображённого на рисунке.



Ответ: _____.

13 Укажите номера верных утверждений.

- 1) Существует квадрат, который не является прямоугольником.
- 2) Если два угла треугольника равны, то равны и противолежащие им стороны.
- 3) Внутренние накрест лежащие углы, образованные двумя параллельными прямыми и секущей, равны.

Ответ: _____.

Модуль «Реальная математика»

14 Студентка Цветкова выезжает из Наро-Фоминска в Москву на занятия в университет. Занятия начинаются в 9:00. В таблице приведено расписание утренних электропоездов от станции Нара до Киевского вокзала в Москве.

Отправление от ст. Нара	Прибытие на Киевский вокзал
6:17	7:13
6:29	7:50
6:35	7:59
7:05	8:23

Путь от вокзала до университета занимает 45 минут. Укажите время отправления от станции Нара самого позднего из электропоездов, которые подходят студентке.

- 1) 6:17 2) 6:29 3) 6:35 4) 7:05

15 На рисунке изображён график изменения атмосферного давления в городе Энске за три дня. По горизонтали указаны дни недели, по вертикали — значения атмосферного давления в миллиметрах ртутного столба. Укажите наибольшее значение атмосферного давления во вторник.

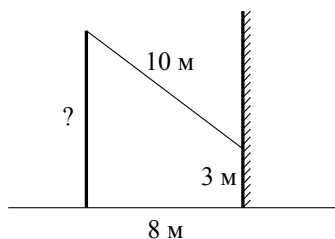


Ответ: _____ мм рт. ст.

16 Альбом, который стоил 120 рублей, продаётся с 25%-й скидкой. При покупке 5 таких альбомов покупатель отдал кассиру 500 рублей. Сколько рублей сдачи он должен получить?

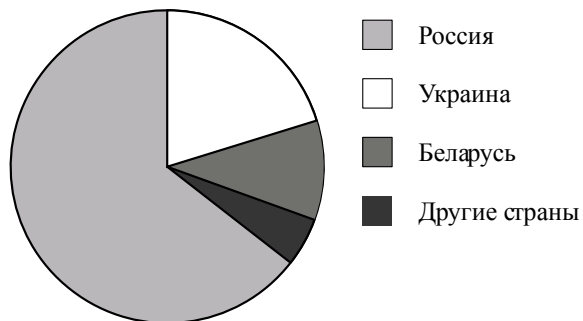
Ответ: _____ р.

- 17 От столба к дому натянут провод длиной 10 м, который закреплён на стене дома на высоте 3 м от земли (см. рисунок). Вычислите высоту столба, если расстояние от дома до столба равно 8 м.



Ответ: _____ м.

- 18 На диаграмме представлено распределение количества пользователей некоторой социальной сети по странам мира. Всего в этой социальной сети 12 млн пользователей.



Какое из следующих утверждений **неверно**?

- 1) Пользователей из России больше, чем пользователей из Украины и Беларуси вместе.
- 2) Пользователей из Украины больше, чем пользователей из Латвии.
- 3) Примерно две трети общего числа пользователей — из России.
- 4) Пользователей из Украины больше 3 миллионов.

В ответе запишите номер выбранного утверждения.

Ответ: _____.

Используется с бланками ответов

- 19 В лыжных гонках участвуют 13 спортсменов из России, 2 спортсмена из Норвегии и 5 спортсменов из Швеции. Порядок, в котором спортсмены стартуют, определяется жребием. Найдите вероятность того, что первым будет стартовать спортсмен из России.

Ответ: _____.

- 20 В фирме «Эх, прокачу!» стоимость поездки на такси (в рублях) рассчитывается по формуле $C = 150 + 11 \cdot (t - 5)$, где t — длительность поездки, выраженная в минутах ($t > 5$). Пользуясь этой формулой, рассчитайте стоимость 16-минутной поездки.

Ответ: _____ р.

Не забудьте перенести все ответы в бланк ответов № 1.

Часть 2

При выполнении заданий 21–26 используйте бланк ответов № 2. Сначала укажите номер задания, а затем запишите его решение и ответ. Пишите чётко и разборчиво. Обращаем Ваше внимание на то, что записи в черновике не будут учитываться при оценивании работы.

Модуль «Алгебра»

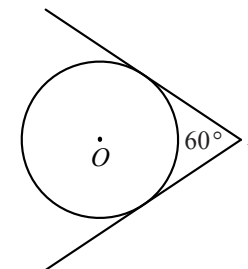
21 Решите систему уравнений
$$\begin{cases} y - x = -5, \\ x^2 - 2xy - y^2 = 17. \end{cases}$$

22 На пост главы администрации города претендовало три кандидата: Андреев, Борисов, Васильев. Во время выборов за Васильева было отдано в 1,5 раза больше голосов, чем за Андреева, а за Борисова — в 4 раза больше, чем за Андреева и Васильева вместе. Сколько процентов голосов было отдано за победителя?

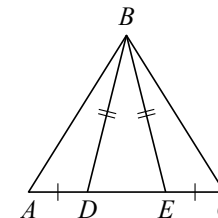
23 Постройте график функции $y = \begin{cases} \frac{5}{x}, & \text{если } x \geq 1, \\ x^2 + 4x, & \text{если } x < 1 \end{cases}$ и определите, при каких значениях c прямая $y = c$ будет пересекать построенный график в трёх точках.

Модуль «Геометрия»

24 Из точки A проведены две касательные к окружности с центром в точке O . Найдите радиус окружности, если угол между касательными равен 60° , а расстояние от точки A до точки O равно 8.



25 На стороне AC треугольника ABC выбраны точки D и E так, что отрезки AD и CE равны (см. рисунок). Оказалось, что отрезки BD и BE тоже равны. Докажите, что треугольник ABC — равнобедренный.



26 Медиана BM и биссектриса AP треугольника ABC пересекаются в точке K , длина стороны AC вдвое больше длины стороны AB . Найдите отношение площади треугольника AKM к площади четырёхугольника $KPCM$.