

**Государственная (итоговая) аттестация
по МАТЕМАТИКЕ
Вариант № 1304**

Инструкция по выполнению работы

Общее время экзамена — 235 минут.

Характеристика работы. Всего в работе 26 заданий, из которых 20 заданий базового уровня (часть 1) и 6 заданий повышенного уровня (часть 2). Работа состоит из трёх модулей: «Алгебра», «Геометрия», «Реальная математика».

Модуль «Алгебра» содержит 11 заданий: в *части 1* — 8 заданий; в *части 2* — 3 задания. Модуль «Геометрия» содержит 8 заданий: в *части 1* — 5 заданий; в *части 2* — 3 задания. Модуль «Реальная математика» содержит 7 заданий: все задания — в *части 1*.

Советы и указания по выполнению работы. Сначала выполняйте задания части 1. Начать советуем с того модуля, задания которого вызывают у Вас меньше затруднений, затем переходите к другим модулям. Для экономии времени пропускайте задание, которое не удаётся выполнить сразу, и переходите к следующему. Если у Вас останется время, Вы сможете вернуться к пропущенным заданиям.

Все необходимые вычисления, преобразования и т.д. выполняйте в черновике. Если задание содержит рисунок, то на нём непосредственно в тексте работы можно выполнять необходимые Вам построения. Рекомендуем внимательно читать условие и проводить проверку полученного ответа. Ответы сначала укажите на листах с заданиями экзаменационной работы, а затем перенесите в бланк ответов № 1.

Решения к заданиям части 2 и ответы к ним запишите на бланке ответов № 2. Задания можно выполнять в любом порядке, начиная с любого модуля. Текст задания переписывать не надо, необходимо только указать его номер. Обращаем Ваше внимание на то, что записи в черновике не будут учитываться при оценивании работы.

При выполнении работы Вы можете воспользоваться справочными материалами.

Как оценивается работа. Баллы, полученные Вами за верно выполненные задания, суммируются. Для успешного прохождения итоговой аттестации необходимо набрать в сумме не менее 8 баллов, из них: не менее 3 баллов по модулю «Алгебра», не менее 2 баллов по модулю «Геометрия» и не менее 2 баллов по модулю «Реальная математика». За каждое правильно выполненное задание части 1 выставляется 1 балл. В каждом модуле части 2 задания расположены по нарастанию сложности и оцениваются в 2, 3 и 4 балла.

Желаем успеха!

Часть 1

▪ Для заданий с выбором ответа (2, 3, 8, 14) из четырёх предложенных вариантов выберите один верный.

В бланке ответов № 1 поставьте знак «×» в клеточку, номер которой соответствует номеру выбранного Вами ответа.

▪ Для заданий с кратким ответом полученный результат сначала запишите на листе с текстом работы после слова «Ответ». Если получена обыкновенная дробь, обратите её в десятичную.

Перенесите ответ в бланк ответов № 1 справа от номера соответствующего задания, начиная с первой клеточки. Каждый символ (цифру, знак минус, запятую или точку с запятой) пишите в отдельной клеточке в соответствии с приведёнными в бланке образцами. Единицы измерений указывать не нужно.

▪ Если при решении задания 4 найдено несколько корней, запишите их (в любом порядке) в бланк ответов № 1, разделив точкой с запятой (;).

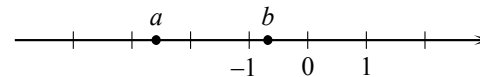
Ответом к заданиям 5 и 13 является последовательность цифр. Перенесите цифры в бланк № 1 без пробелов, запятых и других символов.

Модуль «Алгебра»

1 Найдите значение выражения $\frac{6,7 - 2,5}{2,4}$.

Ответ: _____.

2 На координатной прямой отмечены числа a и b .



Какое из следующих утверждений **неверно**?

- 1) $-b < 0$
- 2) $-4 < a - 1 < -3$
- 3) $a^2 b < 0$
- 4) $a + b < 0$

3 В каком случае числа $4\sqrt{2}$, $2\sqrt{7}$ и 5 расположены в порядке возрастания?

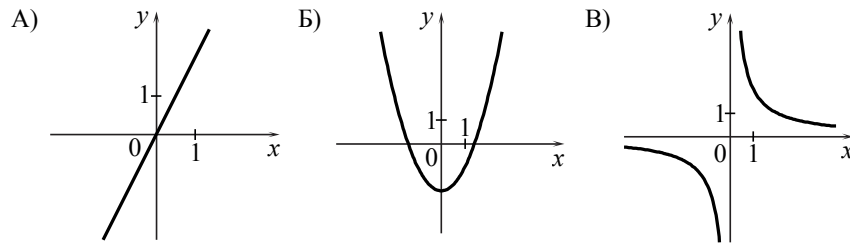
- 1) $2\sqrt{7}$; 5; $4\sqrt{2}$
- 2) 5; $2\sqrt{7}$; $4\sqrt{2}$
- 3) $4\sqrt{2}$; 5; $2\sqrt{7}$
- 4) $4\sqrt{2}$; $2\sqrt{7}$; 5

4 Решите уравнение $x^2 - 5x - 14 = 0$.

Ответ: _____.

5 Установите соответствие между графиками функций и формулами, которые их задают.

ГРАФИКИ



ФОРМУЛЫ

- 1) $y = x^2 - 2$
- 2) $y = \frac{2}{x}$
- 3) $y = 2x$
- 4) $y = \sqrt{x}$

Ответ:

А	Б	В

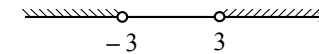
6 Арифметическая прогрессия (a_n) задана условиями: $a_1 = 3$, $a_{n+1} = a_n - 4$. Найдите a_{10} .

Ответ: _____.

7 Упростите выражение $(a+3)^2 - 2a(3-4a)$ и найдите его значение при $a = -\frac{1}{3}$. В ответе запишите найденное значение.

Ответ: _____.

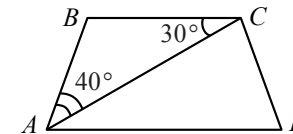
8 Решение какого из данных неравенств изображено на рисунке?



- 1) $x^2 + 9 < 0$
- 2) $x^2 - 9 < 0$
- 3) $x^2 + 9 > 0$
- 4) $x^2 - 9 > 0$

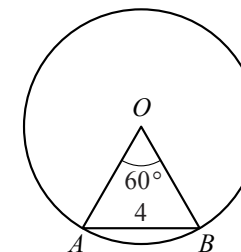
Модуль «Геометрия»

9 Найдите угол ADC равнобедренной трапеции $ABCD$, если диагональ AC образует с основанием BC и боковой стороной AB углы, равные 30° и 40° соответственно.



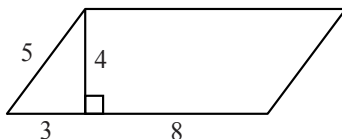
Ответ: _____ град.

10 Центральный угол AOB , равный 60° , опирается на хорду AB длиной 4. Найдите радиус окружности.



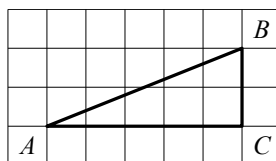
Ответ: _____.

- 11 Найдите площадь параллелограмма, изображённого на рисунке.



Ответ: _____.

- 12 Найдите тангенс угла B треугольника ABC , изображённого на рисунке.



Ответ: _____.

- 13 Укажите номера верных утверждений.

- 1) Если две стороны одного треугольника пропорциональны двум сторонам другого треугольника и углы, образованные этими сторонами, равны, то треугольники подобны.
- 2) Смежные углы равны.
- 3) Медиана равнобедренного треугольника, проведённая к его основанию, является его высотой.

Ответ: _____.

Модуль «Реальная математика»

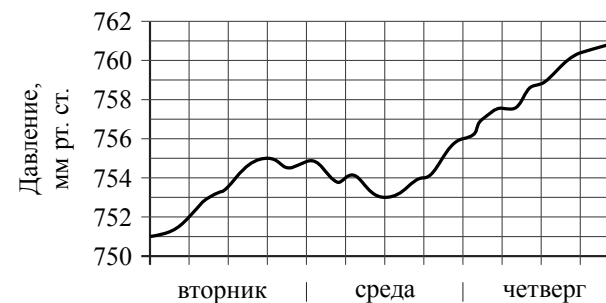
- 14 Бизнесмен Соловьёв выезжает из Москвы в Санкт-Петербург на деловую встречу, которая назначена на 10:00. В таблице дано расписание ночных поездов Москва — Санкт-Петербург.

Номер поезда	Отправление из Москвы	Прибытие в Санкт-Петербург
038А	00:43	08:45
020У	00:54	09:00
016А	01:00	08:38
030А	01:10	09:37

Путь от вокзала до места встречи занимает полчаса. Укажите номер самого позднего (по времени отправления) из московских поездов, которые подходят бизнесмену Соловьёву.

- 1) 038А 2) 020У 3) 016А 4) 030А

- 15 На рисунке изображён график изменения атмосферного давления в городе Энске за три дня. По горизонтали указаны дни недели, по вертикали — значения атмосферного давления в миллиметрах ртутного столба. Укажите наибольшее значение атмосферного давления за данные три дня.

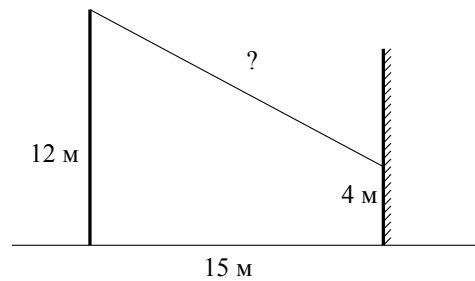


Ответ: _____ мм рт. ст.

- 16 Ложка, которая стоила 30 рублей, продаётся с 10%-й скидкой. При покупке 10 таких ложек покупатель отдал кассиру 500 рублей. Сколько рублей сдачи он должен получить?

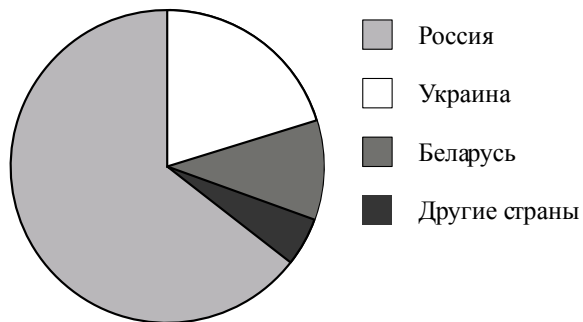
Ответ: _____ р.

- 17 От столба высотой 12 м к дому натянут провод, который крепится на высоте 4 м от земли (см. рисунок). Расстояние от дома до столба 15 м. Вычислите длину провода.



Ответ: _____ м.

- 18 На диаграмме представлено распределение количества пользователей некоторой социальной сети по странам мира. Всего в этой социальной сети 9 млн пользователей.



Какое из следующих утверждений **неверно**?

- 1) Пользователей из Украины больше, чем пользователей из Беларуси.
- 2) Пользователей из Украины меньше четверти общего числа пользователей.
- 3) Пользователей из Беларуси больше, чем пользователей из Эстонии.
- 4) Пользователей из России больше 8 миллионов.

В ответе запишите номер выбранного утверждения.

Ответ: _____.

Используется с бланками ответов

- 19 В лыжных гонках участвуют 11 спортсменов из России, 6 спортсменов из Норвегии и 3 спортсмена из Швеции. Порядок, в котором спортсмены стартуют, определяется жребием. Найдите вероятность того, что первым будет стартовать спортсмен из Норвегии или Швеции.

Ответ: _____.

- 20 В фирме «Эх, прокачу!» стоимость поездки на такси (в рублях) рассчитывается по формуле $C = 150 + 11 \cdot (t - 5)$, где t — длительность поездки, выраженная в минутах ($t > 5$). Пользуясь этой формулой, рассчитайте стоимость 12-минутной поездки.

Ответ: _____ р.

Не забудьте перенести все ответы в бланк ответов № 1.

Часть 2

При выполнении заданий 21–26 используйте бланк ответов № 2. Сначала укажите номер задания, а затем запишите его решение и ответ. Пишите чётко и разборчиво. Обращаем Ваше внимание на то, что записи в черновике не будут учитываться при оценивании работы.

Модуль «Алгебра»

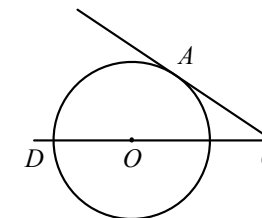
21 Решите систему уравнений
$$\begin{cases} 3x - y = 15, \\ x + 6 - \frac{y}{3} = 6. \end{cases}$$

22 Расстояние между двумя пристанями по реке равно 80 км. Катер прошёл от одной пристани до другой, сделал стоянку на 1 ч 20 мин и вернулся обратно. Всё путешествие заняло $10\frac{1}{3}$ ч. Найдите скорость течения реки, если известно, что скорость катера в стоячей воде равна 18 км/ч.

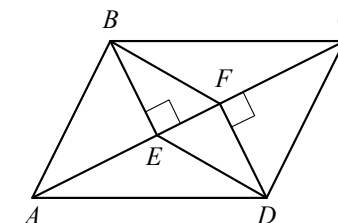
23 Постройте график функции $y = \begin{cases} -x^2, & \text{если } |x| \leq 1, \\ \frac{1}{x}, & \text{если } |x| > 1 \end{cases}$ и определите, при каких значениях c прямая $y = c$ будет иметь с графиком единственную общую точку.

Модуль «Геометрия»

24 Найдите угол ACO , если его сторона CA касается окружности, O — центр окружности, а дуга AD окружности, заключённая внутри этого угла, равна 130° .



25 В параллелограмме $ABCD$ проведены перпендикуляры BE и DF к диагонали AC (см. рисунок). Докажите, что треугольники BEF и DFE равны.



26 Через середину K медианы BM треугольника ABC и вершину A проведена прямая, пересекающая сторону BC в точке P . Найдите отношение площади треугольника ABC к площади четырёхугольника $KPCM$.