

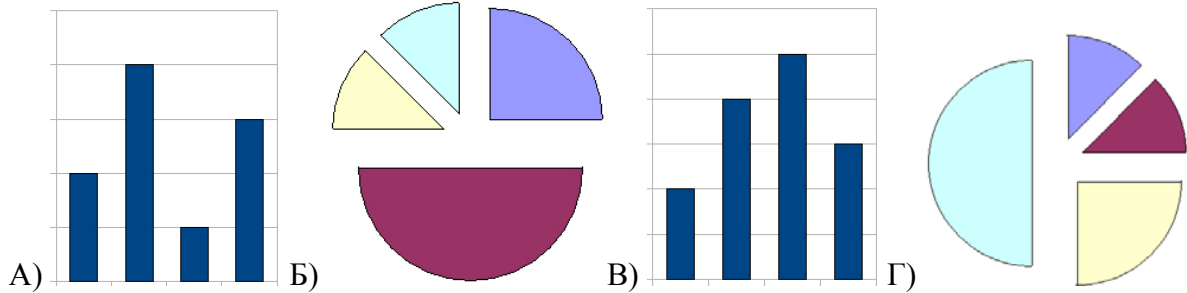
Сборник задач по теме «Построение диаграмм в электронных таблицах»

Задание.

Дан фрагмент электронной таблицы. Была построена диаграмма по значениям диапазона ячеек A1:A4. Укажите получившуюся диаграмму.

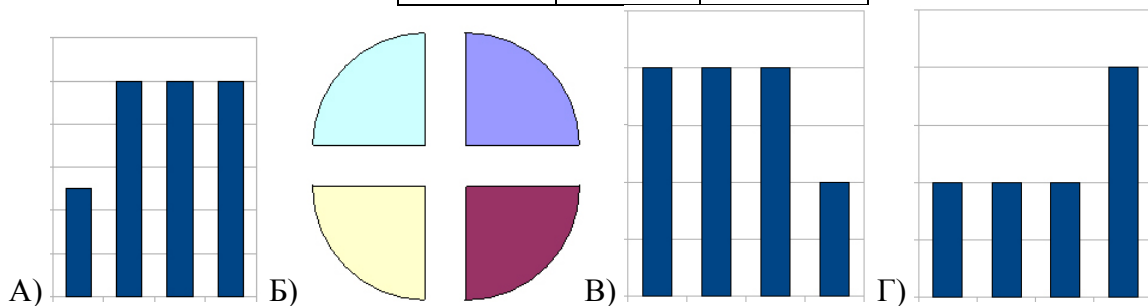
1.

	A	B
1	=B1+1	1
2	=A1+2	2
3	=B2-1	
4	=A3	



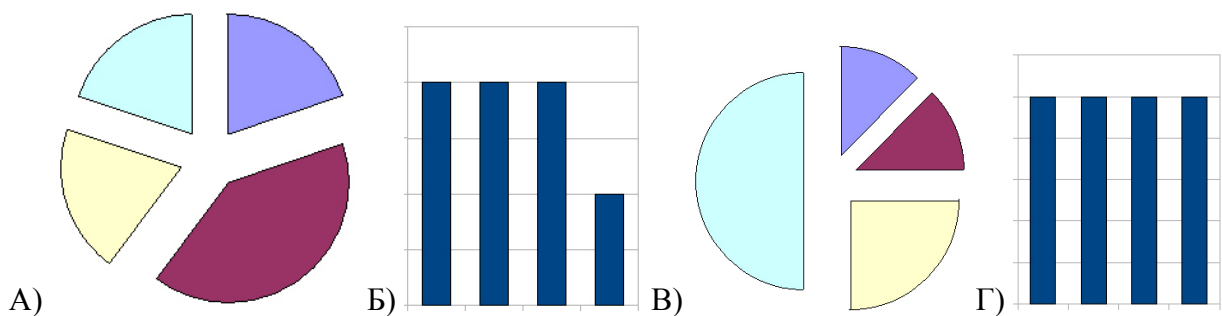
2.

	A	B
1	=A2	
2	=A4-A3	=A4-1
3	=B2	
4	2	



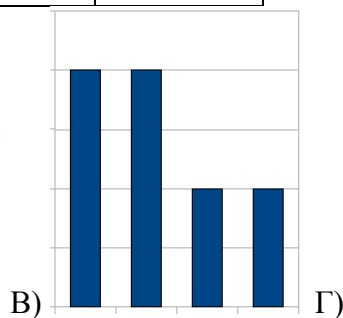
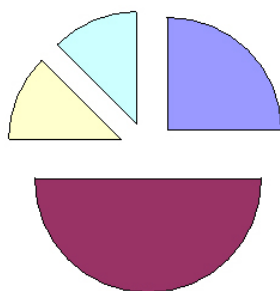
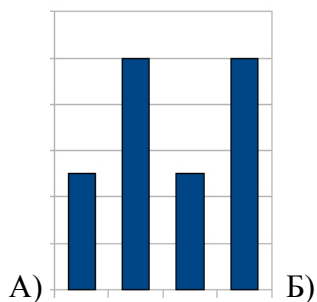
3.

	A	B
1	=B2-A3	1
2	=2*A4	2
3	=A2-B1	
4	=B2-B1	



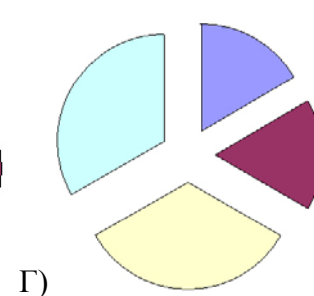
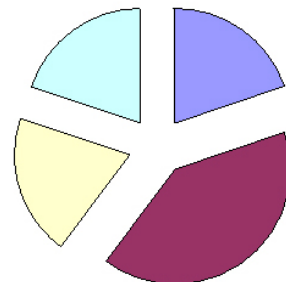
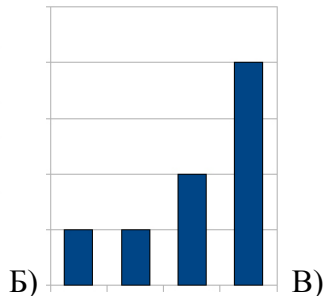
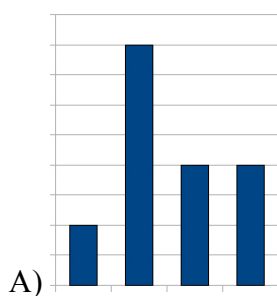
4.

	A	B
1	$=A4-B2$	3
2	$=B1/3$	1
3	$=A1+A2$	
4	$=A2+B2$	



5.

	A	B
1	$=B3/2$	
2	4	
3	$=A2/2$	$=A2/2$
4	$=A2/B3$	



6.

	A	B
1	1	
2	$=A1+A3$	$=A1+B3$
3	$=A4-A1$	1
4	$=B2/B3$	

