

1. Задание 1 № 1076. Какая из перечисленных горных пород является магматической?

- 1) мрамор
- 2) каменная соль
- 3) известняк
- 4) гранит

2. Задание 2 № 738. С каким из перечисленных государств Россия имеет сухопутную границу?

- 1) Швеция
- 2) Молдавия
- 3) Норвегия
- 4) Армения

3. Задание 3 № 949. В основании территории какого из перечисленных регионов лежит складчатая область?

- 1) Республика Карелия
- 2) Республика Алтай
- 3) Белгородская область
- 4) Омская область

4. Задание 4 № 680. Многолетняя мерзлота оказывает влияние на хозяйственную деятельность человека: разработку полезных ископаемых, прокладку дорог, строительство. В каком из перечисленных регионов России необходимо учитывать последствия оттаивания многолетней мерзлоты в результате потепления климата?

- 1) Чувашская Республика
- 2) Тульская область
- 3) Красноярский край
- 4) Челябинская область

5. Задание 5 № 321. В каком из перечисленных регионов России лесная и деревообрабатывающая промышленность является одной из ведущих отраслей хозяйства?

- 1) Архангельская область
- 2) Республика Дагестан
- 3) Воронежская область
- 4) Оренбургская область

6. Задание 6 № 562. К традиционным занятиям какого из перечисленных народов России относится пастбищное животноводство (овцеводство, коневодство и верблюдоводство)?

- 1) карелы
- 2) марийцы
- 3) коми
- 4) калмыки

7. Задание 7 № 683.

Площадь территории и численность населения отдельных регионов РФ

Регион	Площадь территории, тыс. км ²	Численность населения по годам, тыс. чел.								
		всего			городского			сельского		
		1995	2000	2007	1995	2000	2007	1995	2000	2007
Омская область	140	2170	2136	2030	1466	1457	1402	703	680	624
Чувашская Республика	18	1346	1334	1287	803	803	737	543	531	550
Республика Дагестан	50	2200	2443	2660	945	1040	1134	1255	1403	1526
Ивановская область	24	1260	1195	1080	1036	983	870	224	212	210

Используя данные таблицы, определите, в каком из перечисленных регионов за период с 1995 по 2007 г. наблюдался рост численности городского населения.

- 1) Омская область
- 2) Чувашская Республика
- 3) Республика Дагестан
- 4) Ивановская область

8. Задание 8 № 575.

Площадь территории и численность населения отдельных регионов РФ

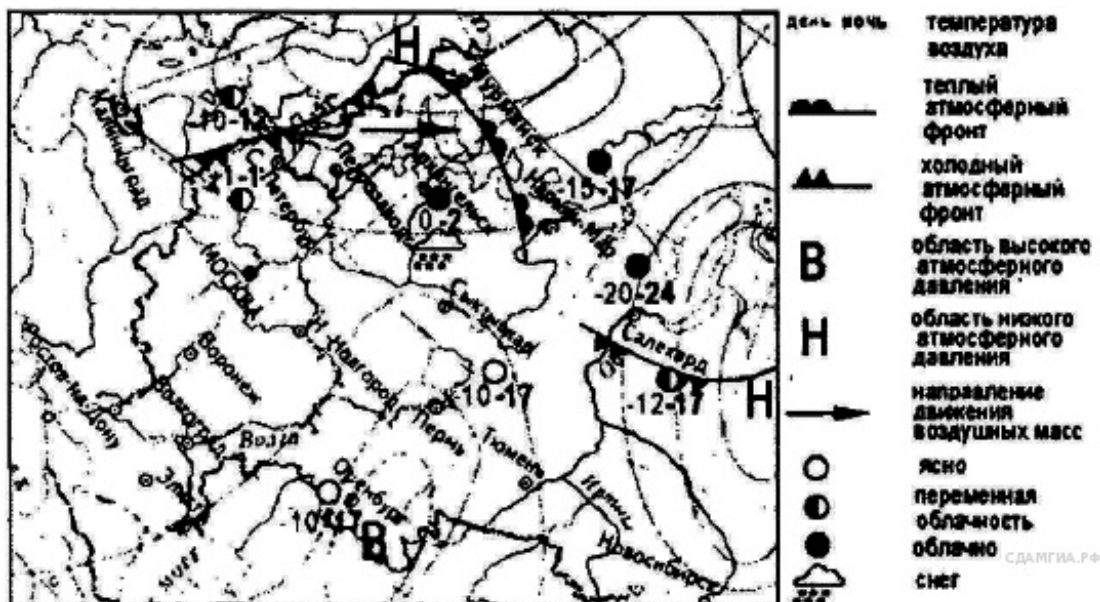
Регион	Площадь территории, тыс. км ²	Численность населения по годам, тыс. чел.								
		всего			городского			сельского		
		1995	2000	2007	1995	2000	2007	1995	2000	2007
Ивановская область	24	1260	1195	1088	1036	985	878	224	209	210
Республика Тыва	171	304	306	310	148	153	158	156	153	152
Ростовская область	101	4482	4454	4276	3042	3012	2857	1440	1443	1419
Магаданская область	461	267	201	169	229	183	160	38	19	9

Используя данные таблицы 1, определите долю городского населения в общей численности населения в Республике Тыва в 2007 г. Ответ запишите в виде числа.

9. Задание 9 № 624. Какой из перечисленных городов является наибольшим по численности населения?

- 1) Нижний Новгород
- 2) Чебоксары
- 3) Барнаул
- 4) Великий Новгород

10. Задание 10 № 625.



Какой из перечисленных городов, показанных на карте, находится в зоне действия антициклона?

- 1) Архангельск
- 2) Мурманск
- 3) Пермь
- 4) Санкт-Петербург

11. Задание 11 № 416.



Карта погоды составлена на 7 апреля. В каком из показанных на карте городов на следующий день наиболее вероятно существенное потепление?

- 1) Астрахань
- 2) Благовещенск
- 3) Красноярск
- 4) Новосибирск

12. Задание 12 № 1278. Уменьшению выбросов в атмосферу «парниковых» газов способствует

- 1) вывод из эксплуатации действующих АЭС
- 2) сжигание попутного нефтяного газа
- 3) развитие ветровой и солнечной электроэнергетики
- 4) перевод тепловых электростанций с природного газа на уголь

13. Задание 13 № 808. В каком из следующих предложений содержится информация о миграциях населения?

- 1) Численность населения России увеличилась за 2011 г. на 190,9 тыс. человек.
- 2) Передвижения населения внутри страны заметно влияют на динамику численности отдельных регионов России.
- 3) В 2011 г. число родившихся в России превысило аналогичный показатель 2010 г. на 7681 человека.
- 4) В составе населения России наблюдается превышение численности женщин старше 30 лет над численностью мужчин такого же возраста.

14. Задание 14 № 404. В ночь на 4 июня 2006 г. посёлок Витим, где проживает более четырёх тысяч человек, оказался наполовину затоплен в результате резкого повышения уровня воды в реке Лене, сообщило агентство РИА НОВОСТИ. Внезапное осложнение паводковой ситуации в регионе было связано с повышенным сбросом воды на Мамаканской гидроэлектростанции, расположенной выше по течению.

По данным МЧС, в конце XX — начале XXI в. именно антропогенные факторы стали играть всё большую роль в увеличении частоты и разрушительной силы наводнений в России. Назовите ещё два вида деятельности человека, кроме упомянутых в тексте аварийных сбросов воды из водохранилищ, способствующих усилению частоты и силы паводков.

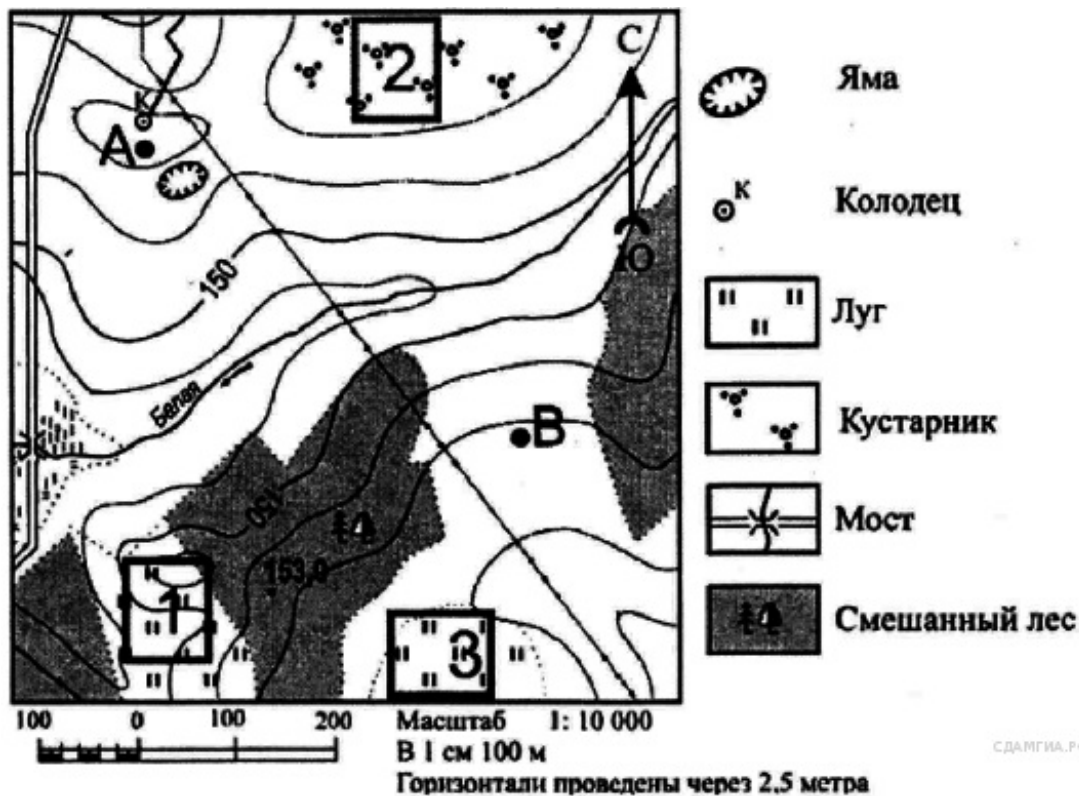
15. Задание 15 № 1184. Определите долю городского населения в % от общей численности населения Северо-Западного федерального округа, если известно, что численность его населения на 1 января 2013 г. составляла 13 718 994 человек, из которых горожан – 11 498 212. Полученный результат округлите до целого числа.

16. Задание 16 № 1317. Расположите перечисленные ниже города в порядке увеличения в них численности населения. Запишите в таблицу получившуюся последовательность цифр.

- 1) Кострома
- 2) Воронеж
- 3) Омск

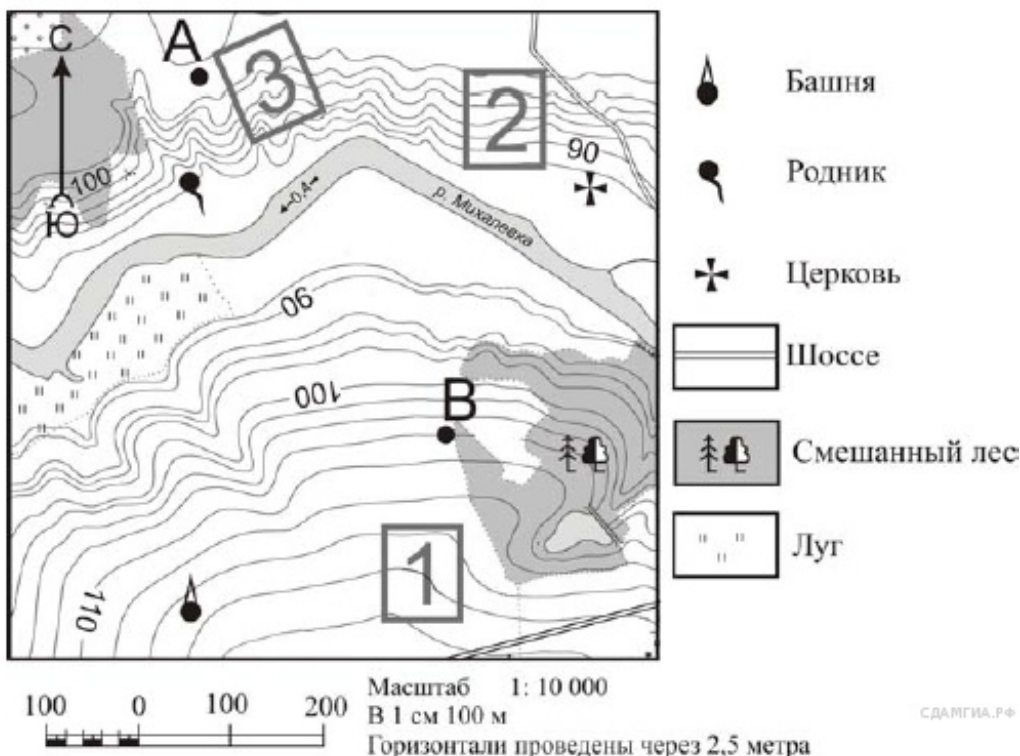
17. Задание 17 № 727. Определите, какой город имеет географические координаты 6° ю.ш. и 107° в.д.

18. Задание 18 № 728.



Определите по карте расстояние на местности по прямой от отметки с высотой 153,0 до колодца. Измерение проводите между центрами условных знаков. Полученный результат округлите до десятков метров. Ответ запишите в виде числа.

19. Задание 19 № 1350. Определите по карте, в каком направлении от башни находится родник.



20. Задание 25 № 761. Туристические фирмы разных регионов России разработали слоганы (рекламные лозунги) для привлечения туристов в свои регионы. Установите соответствие между слоганом и регионом.

СЛОГАН

РЕГИОН

- А) Добро пожаловать в «Янтарный край», самый западный регион России!
 Б) Здесь можно любоваться горными ландшафтами: сверкающими голубизной ледниками, зеленеющими альпийскими лугами.

- 1) Кабардино-Балкарская Республика
 2) Калининградская область
 3) Архангельская область
 4) Чувашская Республика

Запишите в ответ цифры, расположив их в порядке, соответствующем буквам:

А	Б

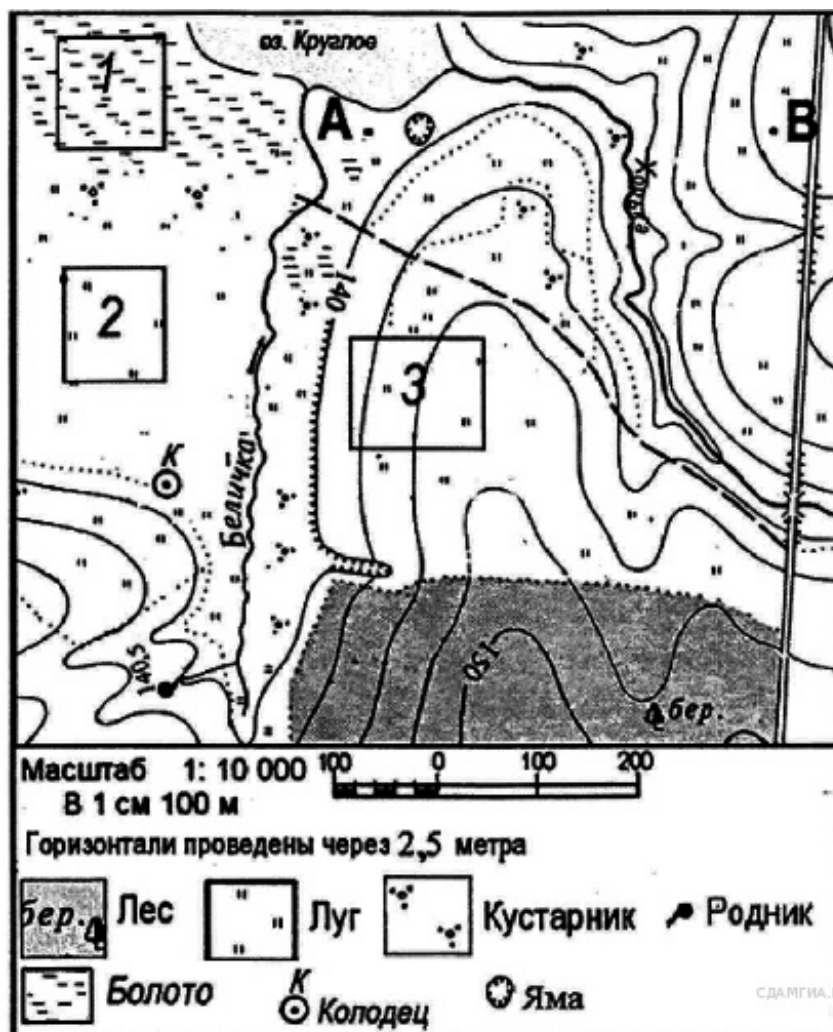
21. Задание 26 № 762. Расположите регионы России в той последовательности, в которой их жители встречают Новый год. Запишите в ответ получившуюся последовательность букв.

- А) Республика Саха (Якутия)
 Б) Ненецкий АО
 В) Калининградская область

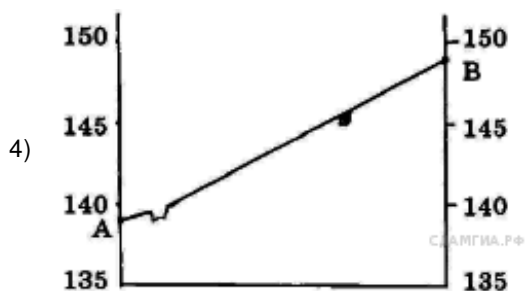
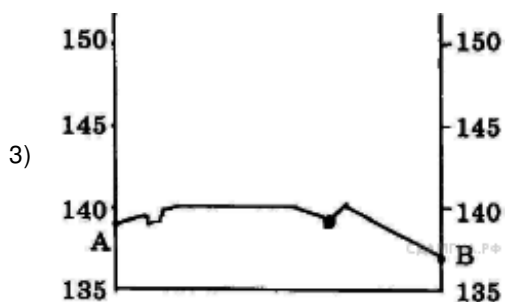

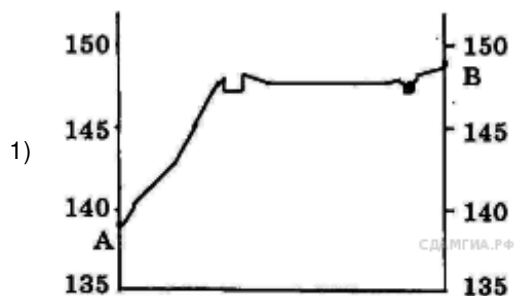
22. Задание 2 № 768. С каким из перечисленных государств Россия имеет сухопутную границу?

- 1) Молдавия
 2) Армения
 3) Норвегия
 4) Турция

23. Задание 21 № 570.



На рисунках представлены варианты профиля рельефа местности, построенные на основе карты по линии А—В разными учащимися. Какой из профилей построен верно?



24. Задание 22 № 571. Картой какого из перечисленных регионов России нужно воспользоваться, чтобы подробно изучить особенности территории Липецкой области?

- 1) Поволжья
- 2) Северо-Запада России
- 3) Европейского Юга
- 4) Центральной России

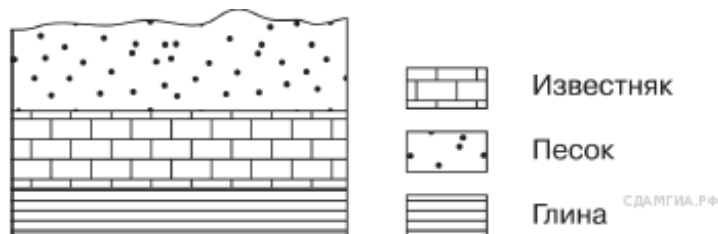
Исходное сырьё для производства азотных удобрений — аммиак. Одним из видов сырья для получения аммиака является кокс и коксовый газ. Некоторые заводы, производящие азотные удобрения (как правило, небольшие), размещены в пределах крупных комбинатов, где азотные удобрения выпускаются в качестве попутной продукции. Одним из центров производства азотных удобрений является г. Липецк.

25. Задание 23 № 916. Тарифы на электроэнергию в России сильно различаются для жителей различных регионов России. Так, например, стоимость электроэнергии для горожан Республики Хакасия, проживающих в квартирах с электрическими плитами, составляет 0,92 руб. кВт·ч. Это почти в 3 раза дешевле, чем в соседней Республике Алтай.

Какая особенность хозяйства Республики Хакасия позволяет удерживать невысокие цены на электроэнергию для жителей этого региона?

Ответ запишите на отдельном листе или бланке, указав сначала номер задания.

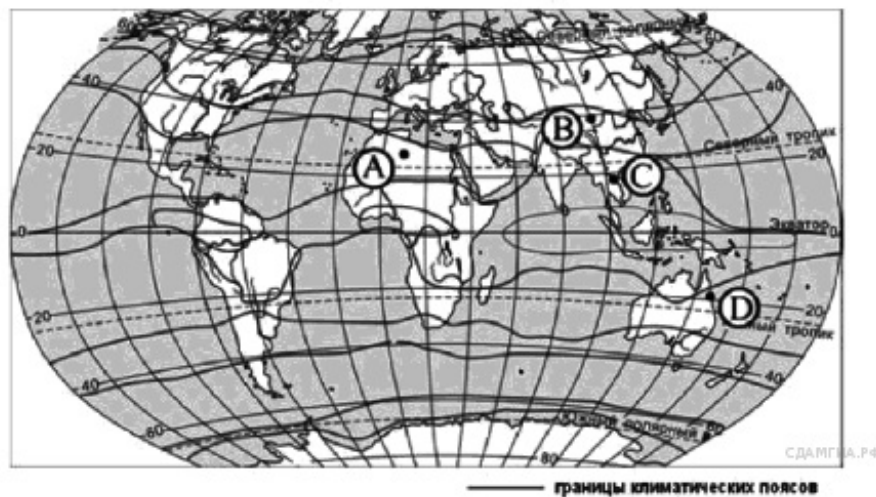
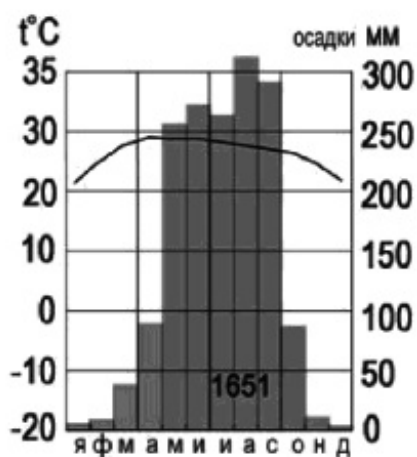
26. Задание 24 № 84. Во время экскурсии учащиеся сделали схематическую зарисовку залегания горных пород на обрыве у берега реки.



Расположите показанные на рисунке слои горных пород в порядке увеличения их возраста (от самого молодого до самого древнего). Запишите в ответ получившуюся последовательность букв.

- А) известняк
- Б) песок
- В) глина

27. Задание 27 № 812. Определите, какой буквой на карте обозначен пункт, климатограмма которого показана на рисунке.



- 1) А
- 2) Б
- 3) С
- 4) D

28. Задание 28 № 77. Учащиеся проанализировали собранные данные в целях выявления зависимости между особенностями климата и географическим положением пункта. У всех учащихся выводы получились разные. Кто из учащихся сделал верный вывод на основе представленных данных?

- 1) Валерия: «Чем выше расположен пункт, тем меньше в нём среднегодовое количество атмосферных осадков».
- 2) Герман: «При движении из Европейской части России в Азиатскую зима становится холоднее».
- 3) Анна: «Среднее количество атмосферных осадков увеличивается при движении с запада на восток».
- 4) Мария: «Чем ниже расположен пункт, тем теплее там зимой».

Школьники из нескольких населённых пунктов России обменялись данными многолетних наблюдений, полученными на местных метеостанциях. Собранные ими данные представлены в следующей таблице.

Пункт наблюдения	Географические координаты пункта наблюдения	Средняя температура воздуха, °С		Среднегодовое количество атмосферных осадков, мм	Высота над уровнем моря, м
		июль	январь		
Воронеж	51° с.ш. 39° в.д.	+19,5	−9,2	574	149
Октябрьский	51° с.ш. 45° в.д.	+20,9	−12,3	384	71
Орск	51° с.ш. 58° в.д.	+20,8	−13,4	297	200
Кызыл	51° с.ш. 94° в.д.	+26,6	−30,2	223	628

29. Задание 29 № 1024. Школьники из нескольких населённых пунктов России обменялись данными, полученными на местных метеостанциях 7 января 2013 г. Собранные ими данные представлены в следующей таблице.

Город	Географические координаты	Высота над уровнем моря, м	Средняя дневная температура воздуха	Продолжительность дня
Томск	57° с. ш. 85° в. д.	109	−20 °С	7 ч. 08 мин.
Ханты–Мансийск	61° с. ш. 69° в. д.	40	−22 °С	5 ч. 58 мин.
Сыктывкар	62° с. ш. 51° в. д.	119	−23 °С	5 ч. 44 мин.
Архангельск	65° с. ш. 41° в. д.	18	−7 °С	4 ч. 32 мин.

В каком из перечисленных городов 1 мая высота солнца в полдень наибольшая?

- 1) Томск
- 2) Ханты-Мансийск
- 3) Сыктывкар
- 4) Архангельск

30. Задание 30 № 57. Определите регион по его краткому описанию.

Эта область расположена в зонах южной тайги и смешанных лесов. По территории протекает самая протяжённая река Европейской части России. На этой реке находится административный центр области — крупный центр российского и международного туризма, один из городов «Золотого кольца» России с численностью населения около 600 тыс. человек. Ведущие отрасли промышленности: машиностроение и химическая (производство шин, синтетического каучука и смол, лаков и красок). Развита нефтеперерабатывающая и топливная, лёгкая (льняная и хлопчатобумажная), пищевая промышленность. Основная отрасль сельского хозяйства — животноводство (молочно-мясное скотоводство, свиноводство, птицеводство). Выращивают рожь, картофель, овощи, кормовые культуры, лён-долгунец.

Ответ: _____ область.