

ИТОГОВАЯ РАБОТА ПО МАТЕМАТИКЕ ДЛЯ 2 КЛАССА

(2014/2015 учебный год)

Вариант 2

Школа _____ Класс 2 _____

Фамилия, имя _____

1. Вера раскрашивает клетки по определённому правилу. Сколько клеток она раскрасит на четвёртом рисунке?

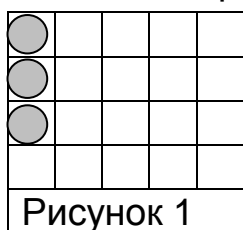


Рисунок 1

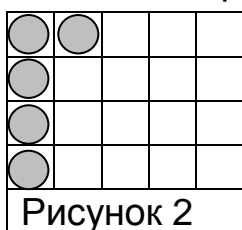


Рисунок 2

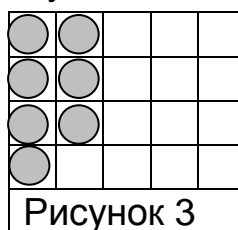


Рисунок 3



Рисунок 4

Отметь верный ответ .

15

9

7

5

2. Ученики записали величины 9 см, 10 см, 9 дм в порядке возрастания и получили разные ответы. Отметь верный ответ .

9 дм, 10 см, 9 см

9 дм, 9 см, 10 см

9 см, 10 см, 9 дм

10 см, 9 см, 9 дм

3. Прочитай текст и заполни таблицу числовыми данными.

Пете 11 лет. Рост Тани 120 см, а рост Пети такой же. Петя весит 29 кг, а Таня на 2 кг больше. Тане 10 лет.

Имя	Возраст	Вес	Рост
Петя			
Таня			

4. Найди разность: $72 - 63$

Запиши ответ.

Ответ: _____

5. Чему равно делимое в выражении? Отметь верный ответ .

$$32 : 4$$

32 : 4

32

8

4

6. У Маши есть такие деньги.




Может ли она купить две книги по 35 рублей каждая?

Ответ: _____

7. На экскурсию в Зоологический музей пошли 60 учеников. 25 учеников из третьего класса, остальные из второго класса. На сколько меньше учеников из третьего класса пошли в музей? Запиши решение и ответ.

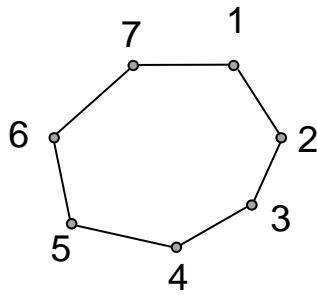


Решение:



Ответ: _____


8. На этом рисунке Коля соединил точки 3 и 5. Какие фигуры он получил?




Отметь верные ответы .

- треугольник
- четырехугольник
- пятиугольник
- шестиугольник
- семиугольник

9. Рассмотрите отрезок.



Начерти отрезок такой же длины.



10. Все числа 24, 14, 45, 34, 4 имеют одно общее свойство. Какое это свойство? Отметь верный ответ .

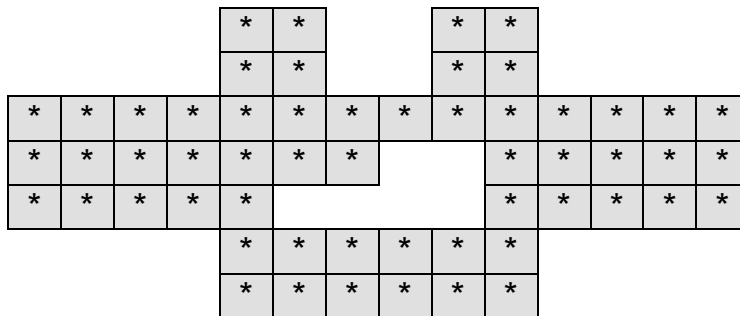
- запись кончается цифрой 4
- в записи есть цифра 4
- двузначные
- четные

11. Этих слоников нужно разложить в пять коробок поровну. Сколько слоников нужно положить в одну коробку?

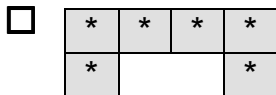
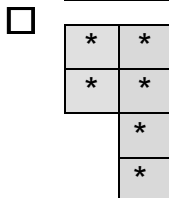
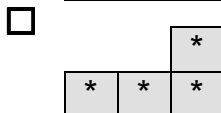
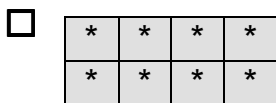


Ответ: _____

12. Мозаика сложена из деталей разной формы. Деталь какой формы выпала из центра мозаики?



Отметь ответ .



13. Участники школьной лотереи получили билеты с номерами от 01 до 50. Выигрышными оказались двузначные номера билетов, имеющие в записи цифру 5. Запиши номера всех выигрышных билетов.




Ответ: _____

14. Выбери все числовые выражения с результатом 1. Отметь их .

- $4 : 4$
- $37 - 35$
- $15 : 5 - 2$
- $10 \cdot 1 - 9$
- $90 - 80$

15. Рассмотрй прямоугольник. Он составлен из квадратов со стороной 2 см. Выбери верные предложения. Отметь их .



- Прямоугольник составлен из трех квадратов.
- Одна сторона прямоугольника равна 2 см.
- Если обвести прямоугольник карандашом, то получится линия длиной 20 см.
- Если обвести прямоугольник карандашом, то получится линия длиной 8 см.

