

ИТОГОВАЯ РАБОТА ПО МАТЕМАТИКЕ ДЛЯ 2 КЛАССА

(2014/2015 учебный год)

Вариант 1

Школа _____ Класс 2 _____

Фамилия, имя _____

1. Петя раскрашивает клетки по определённому правилу. Сколько клеток он раскрасит на четвёртом рисунке?

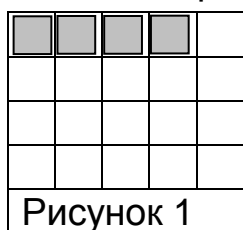


Рисунок 1

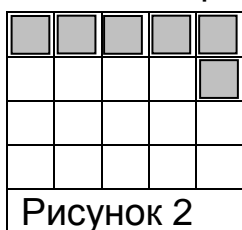


Рисунок 2



Рисунок 3



Рисунок 4

Отметь верный ответ .

20

13

10

8

2. Ученики записали величины 10 дм, 10 см, 12 см в порядке убывания и получили разные ответы. Отметь верный ответ .

10 дм, 10 см, 12 см

10 дм, 12 см, 10 см

12 см, 10 см, 10 дм

12 см, 10 дм, 10 см

3. Прочитай текст и заполни таблицу числовыми данными.

Маше 10 лет. Рост Маши 125 см, а рост Коли 130 см. Маша весит 30 кг, Коля столько же. Коле 9 лет.

Имя	Возраст	Вес	Рост
Маша			
Коля			

4. Найди разность: $91 - 83$

Запиши ответ.

Ответ: _____

5. Чему равен делитель в выражении? Отметь верный ответ .

$$24 : 8$$

 24 : 8 24 8 3

6. У Лены есть такие деньги.





Может ли она купить две ручки по 40 рублей каждая?

Ответ: _____

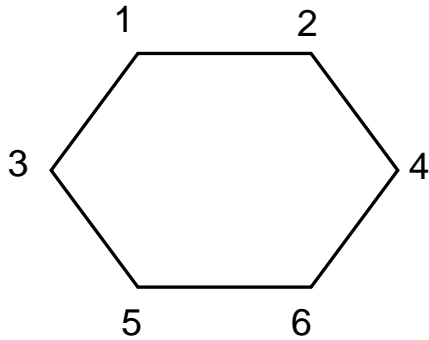
7. В конкурсе рисунков «Зоопарк на асфальте» участвуют 70 учеников: 15 девочек, остальные – мальчики. На сколько больше мальчиков участвуют в конкурсе рисунков? Запиши решение и ответ.

Решение:



Ответ: _____

8. На этом рисунке Лиза соединила точки 3 и 6. Какие фигуры она получила?




Отметь все правильные ответы .

- треугольник
- четырехугольник
- пятиугольник
- шестиугольник
- семиугольник

9. Рассмотрите отрезок.



Начерти отрезок такой же длины.



10. Числа: 55, 56, 45, 53, 5 имеют одно общее свойство. Какое это свойство? Отметь верный ответ .

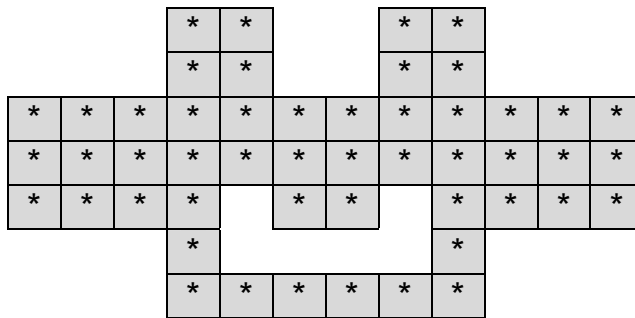
- в записи есть цифра 5
- запись начинается с цифры 5
- двузначные
- нечетные

11. Эти замки нужно разложить в три коробки поровну. Сколько замков нужно положить в одну коробку?



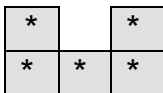
Ответ: _____

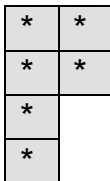
12. Мозаика сложена из деталей разной формы. Деталь какой формы выпала из центра мозаики?

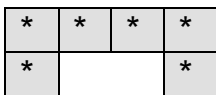


Отметь ответ .









13. Участники лотереи получили билеты с номерами от 01 до 40. Выигрышными оказались двузначные номера билетов, имеющие в записи цифру 4. Запиши номера всех выигрышных билетов.

Ответ: _____

14. Выбери все числовые выражения с результатом 1.

Отметь их .

$5 : 5 - 1$

$57 - 56$


$12 : 3 - 3$

$100 - 91 - 9$

$10 \cdot 2 - 19$

15. Рассмотрй прямоугольник. Он составлен из квадратов со стороной 3 см. Выбери верные утверждения.

Отметь их .



Прямоугольник составлен из четырёх квадратов.

Одна из сторон прямоугольника равна 3 см.

Если обвести прямоугольник карандашом, то получится линия длиной 12 см.

Если обвести прямоугольник карандашом, то получится линия длиной 24 см.

