



# Зарядка для ума

*"Ум без  
догадки  
и гроша не  
стоит"*

*Народная мудрость*


# Приветствие команд





# Зарядка для ума

# ПО СЛОВУ В ДЕНЬ




*Хорошо ли вы знаете родной язык? Определить это поможет словесная пирамида. Каждое следующее слово пирамиды на 1 букву длиннее предыдущего. О каких словах идет речь?*

Многие омографы  
в русском языке отличаются  
ударением.



# Одинаковая запись




- ✓ Одно слово для игры, другое для боя
- ✓ Одно – для питья, другое – для замка
- ✓ Одно – для кузнеца, другое – для музыканта
- ✓ Одно болезнь, другое в море
- ✓ Одним пишат, другим машут



*Вашему  
вниманию  
предлагается  
картина. Вы  
должны  
определить, что  
здесь не так.*

# МЫСЛЕННЫМ ВЗОРОМ





## Странная комната

Сможете ли вы найти  
шесть необычных  
вещей в этой  
комнате, где не все  
так, как полагается?








И ребенок  
справится...

В этой спальне не менее десяти странных  
предметов. Ну как, сможете их найти?




МЫСЛЕННЫМ  
ВЗОРОМ

Танграм - это фигура, сложенная из семи фрагментов квадрата. Вам нужно вырезать заготовки и сложить предложенные фигуры. За каждую правильно собранную фигуру вы получаете 1 балл.



*А зрителям предстоит сложить из  
геометрических фигур фигуры других очертаний*




Помоги мышонку пройти лабиринт и  
добраться до яблока, а улитке – до  
листика.












ОТГАДАЙТЕ ЧИСЛО



# ОТГАДАЙТЕ ЧИСЛО

Каждый из символов ,  и  представляет одно число от 1 до 9. Если сложить соответствующие символам числа по горизонтали, вертикали или диагонали, то получатся суммы, указанные на полях. Какое число стоит за каждым символом?

			19
			12
			20
9	23	16	16
			73

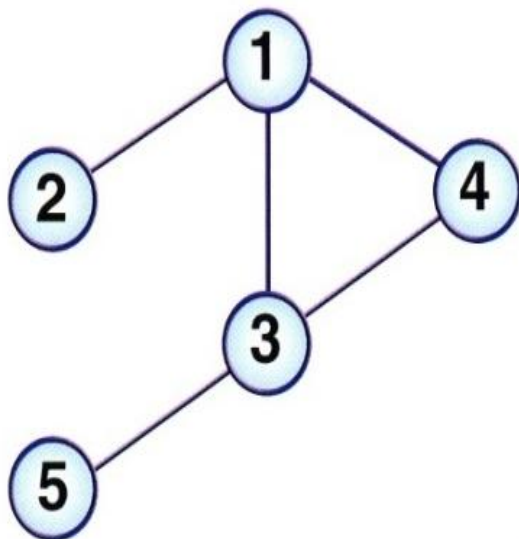
## СУММЫ СИМВОЛОВ

# СОЕДИНЕНИЯ

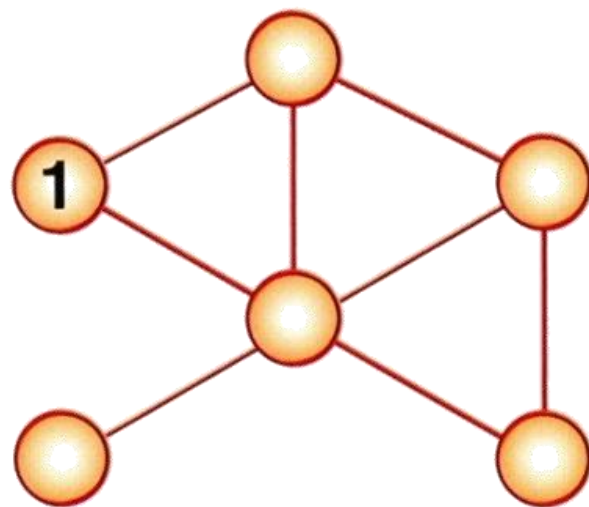
Цель этих головоломок – проверить вашу способность к концентрации, логическому анализу и математической смекалке. Для решения этих задач на соединения надо подставить в кружки числа из колонки слева, но так, чтобы в каждом отдельном случае, для данного кружка, сумма чисел в кружках соединенных с ним, составила сумму, указанную в правой колонке. Пример внизу поможет вам разобраться с этим заданием.

## ПРИМЕР:

1 = 9  
2 = 1  
3 = 10  
4 = 4  
5 = 3



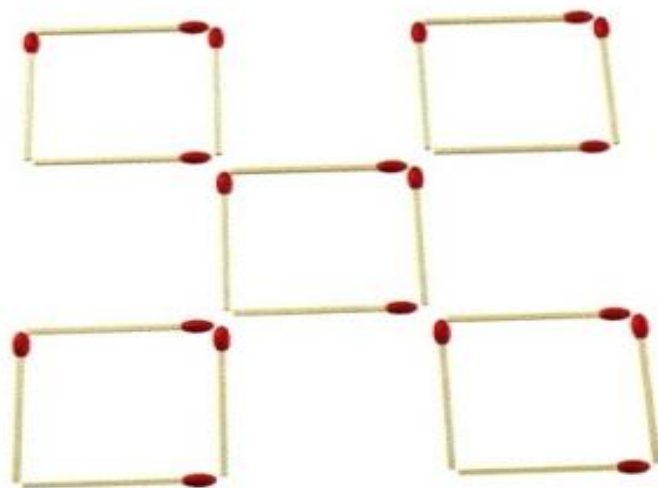
1 = 10  
2 = 4  
3 = 15  
4 = 17  
5 = 7  
6 = 8



# СИЛА ЛОГИКИ




Фигура из пяти квадратов сложена из 20 спичек. Измените положение лишь трех спичек так, чтобы получилось 9 квадратов.





# СЛОВЕСНЫЕ ХИТРОСТИ



*Превратите  
сеть в рыбу.*

**СЕТЬ**

\* \* \* \*

\* \* \* \* \*

\* \* \* \*

**РЫБА**



# ТРЕНИРУЕМ ПАМЯТЬ





