



ИГРЫ РАЗУМА

Внеклассное
мероприятие по
тестам интеллекта
8 класс




ЗАДАНИЕ № 1

Какая фигура выпала из таблицы?



Ответ: 5



Ответ: 1

ЗАДАНИЕ № 2

Какого числа не хватает?

88 72 56 40 () 8

Ответ:
24 (- 16)

12 () 34 45 ()

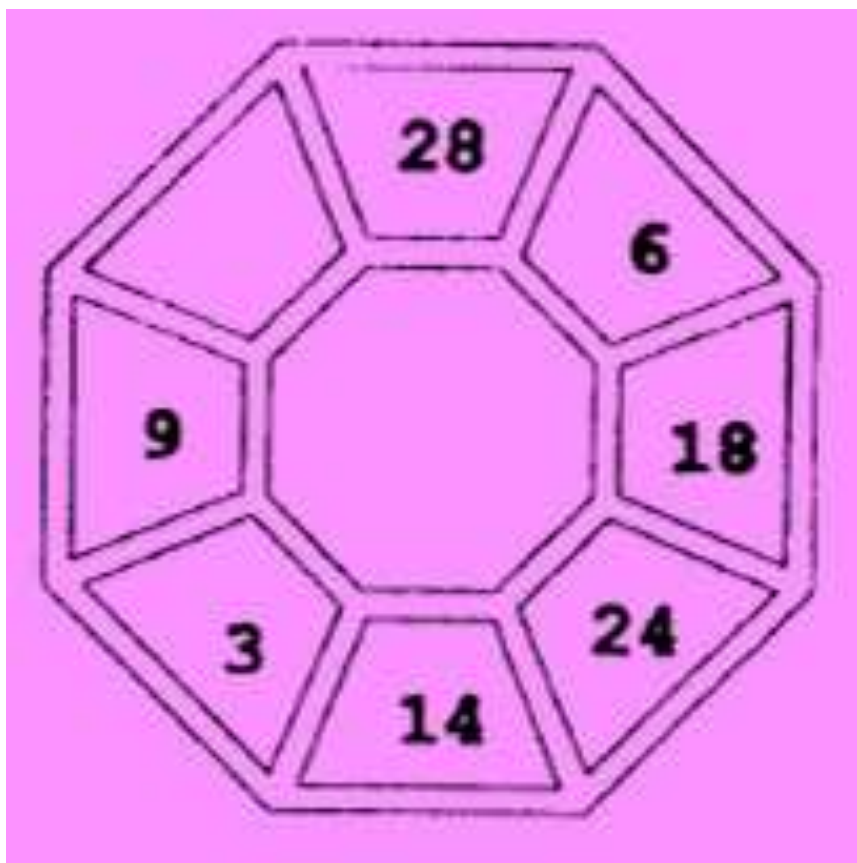
Ответ:
23 и 56 (+ 11)

18 9 14 7 () ()

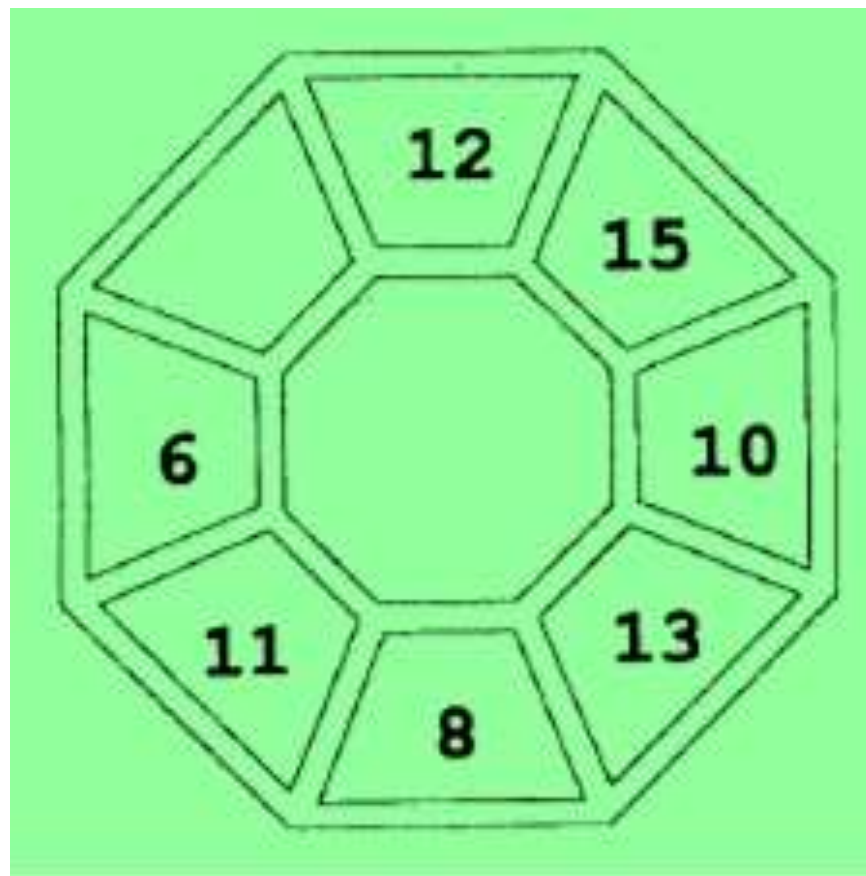
Ответ: 12 и 6 (поочередно :2 и +5)

ЗАДАНИЕ № 3

Какое число пропущено?




Ответ: 12 (противопол :2)



Ответ: 9 (поочередно +3 и -5)

ЗАДАНИЕ № 4

Какого числа не хватает?



Ответ: 31 ($11 + 7 + 13 = 31$)

ЗАДАНИЕ № 5

Какого числа не хватает?

12	
3	18


5	
20	8

13	
15	


Ответ: 5 ($13 + 15 + 5 = 33$)

ЗАДАНИЕ № 6

Какая фигура выпала из таблицы?



Ответ: 3



Ответ: 4

ЗАДАНИЕ № 7

Какого числа нет в таблице?

9	12	15	14
6	8	10	26
8	3	11	28
32	4	()	12

Ответ: 2 ($32 + 4 + 2 + 12 = 50$)

ЗАДАНИЕ № 8

Расставьте числа так, чтобы выполнялось равенство

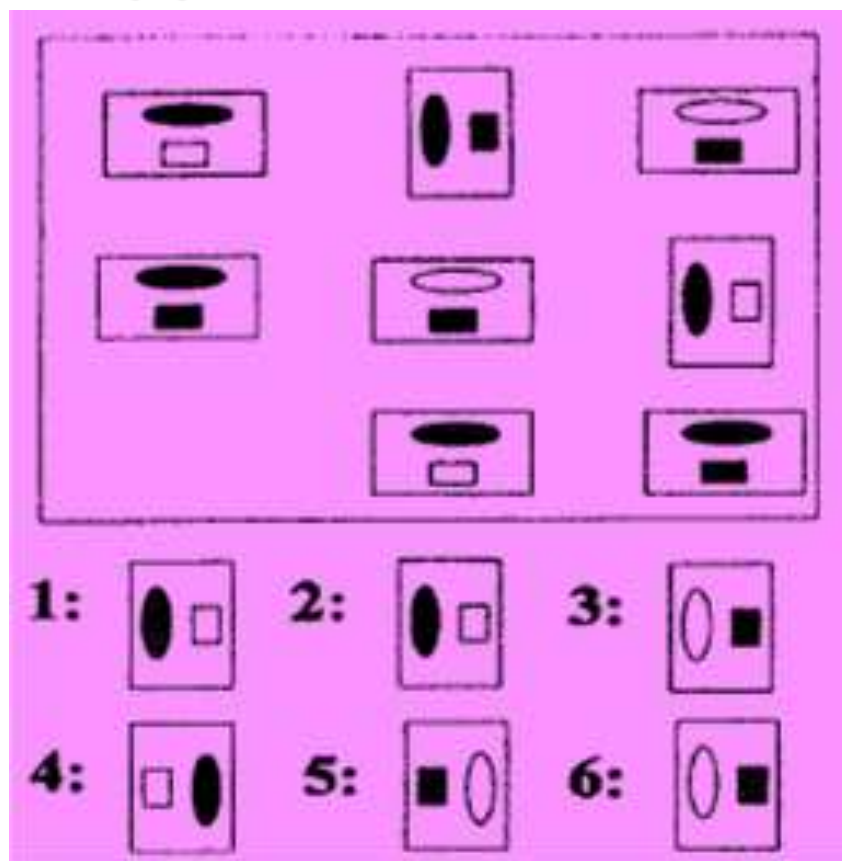
4, 5, 8, и 9

$$(_ + _) \times (_ - _) = 48$$

Ответ: $(8 + 4) \times (9 - 5) = 48$

ЗАДАНИЕ № 9

Какая фигура выпала из таблицы?



Ответ: 6

ЗАДАНИЕ № 10

С помощью ключей найдите суммы чисел, которые окружают каждую из букв

Ключи: % = 4 £ = 6 & = 8

£	£	&	%	%
%	В	%	&	Б
%	&	£	&	£
А	£	%	£	%

А: () Б: () В: ()

Ответ: А = 18, Б = 30, В = 46

ЗАДАНИЕ № 11

Какого числа нет в таблице?

16	5	9	20
3	10	22	7
10	8	1	6
8	14	()	4

Ответ: 5 ($9 + 22 + 1 + 5 = 37$)

ЗАДАНИЕ № 12

Верно или неверно последнее утверждение?

Все козлы — автомобили. Некоторые автомобили — вегетарианцы, но все автомобили любят джазовую музыку. Все любители джазовой музыки любят есть на завтрак мюсли. Следовательно, все козлы любят есть на завтрак мюсли.

Ответ: верно

Спасибо за
внимание!

