

Книга МОНСТРОВ





Головоломки

6 класс


Ангурина Е.В.

Головоломка Монстра № 1

- Найди отличия



Ответ:



Головоломка Монстра № 2

1. Пришельцы отмечали день рождения своего родственника. На вечеринке присутствовали:

- 2 папы,
- 2 мамы,
- 1 бабушка,
- 3 внука,
- 2 сына,
- 2 дочери,
- 1 брат,
- 2 сестры,
- 1 свекор,
- 1 свекровь,
- 1 сноха,
- 4 ребенка.

Сколько всего было пришельцев?



2. Маленький пришелец Зузу спросил своего папу: «Сколько тебе лет?», на что он ему ответил: «Сейчас ты в четыре раза младше меня, а пять лет назад ты был в семь раз младше». Сколько лет папе Зузу?

- Реши задачи
- Ответы:


1. Всего было 7 пришельцев:
2 сестры и их брат, их папа
и мама и их бабушка
и дедушка.
2. 40 лет.

Головоломка Монстра № 3

- Сколько монстров спряталось на этой картине?
- Ответ: 6



Головоломка Монстра № 4



- Реши задачи
- Ответы:

2. Андрей едет из Москвы в Тверь, расстояние между городами – 170 км, средняя скорость 70 км/ч. Саша едет из Пскова в Новгород, расстояние между этими городами – 180 км, средняя скорость – 80км/ч. Если они оба начали движение в 9.00, кто из них приедет раньше?


3. Поставь два плюса, один знак умножения и один минус, так чтобы получилось верное равенство.
 $6\ 5\ 4\ 3\ 2 = 1$.

2. Саша приедет на 10 минут раньше.

$$3. 6 + 5 - 4 \times 3 + 2 = 1$$


Головоломка Монстра № 5

- Зеркальное изображение какой из пяти картинок изображено слева вверху?
- Ответ: А



Головоломка Монстра № 6

1. У чего нет ног, но оно может убежать?
2. У чего есть ушко, но оно не слышит?
3. Что снаружи белое или коричневое, а внутри белое и желтое?
4. Если мама Жени – Юлина дочка, то кем приходится Женя Юле?
5. Что может сделать целое яблоко, чего не может сделать половина?
6. Чем больше этого вокруг, тем меньше ты это видишь.
7. Оно быстро уходит, и вернуть его нельзя.




- Попробуй, угадай!
- Ответ:

1. Молоко. 2. Игла. 3. Яйцо.
4. Внучкой. 5. Катиться.
6. Темнота. 7. Время.

Головоломка Монстра № 7

- Ведьмы вяжут полотно из колючей проволоки. Определи где, чей клубок!
- Ответ: А1, Б3, В2




Головоломка Монстра № 8



- Сколько разновидностей монстров на этой картине?
- Ответ: 7

Головоломка Монстра № 9

- Сколько змей изображено на этой картине?
- Ответ: 8



Головоломка Монстра № 10



- Найди головной убор для каждого монстра
- Ответ: 1В, 2Д, 3Г, 4Б, 5А

Головоломка Монстра № 11

- Найдите двух монстров-близнецов
- Ответ: В и Ж



Головоломка Монстра № 12



- Сколько лап с когтями на этом чудище?
- Ответ: 9

