


ТЕМА УРОКА: «Сложение и вычитание десятичных дробей».





Учитель: ШАРОНОВА О.Г.




СКАЗОЧНАЯ ИСТОРИЯ





ЗАДАНИЕ 1:



ЗАДАНИЕ 2:



ЧЕЙ ЭТО ДОМ ?



0

0,2

0,8

1

1,4

1,7

Змей

Горыныч

Леший

Баба-яга

Кощей



ЗАДАНИЕ 3:


Задача:

Баба-Яга

выпрыгнула из ступы с метлой.

В первую секунду она пролетела 9,8 м., а во вторую на 4,6 м. меньше.

Какое расстояние она пролетела за 2 секунды?



Ответ: в скважине замка.



ЗАДАНИЕ 4:


$$6,5 - 2,7 = 3,8$$

$$3,8 + 0,906 = 4,706$$

$$4,706 - 3,706 = 1$$

$$1 - 0,008 = 0,992$$

$$0,992 + 0 = 0,992$$



ЗАДАНИЕ 5:

РЕШИТЬ УРАВНЕНИЯ:

1. $5,9,4+x$

2. $y+/-9,8$

3. $p+101,1$



ЗАДАНИЕ 6:



Ответ закодирован :
И-0,6 Г- 4,6 Р – 4,66
П – 10,1 О – 2,732
М – 0,3 К – 9,8

Задание:
Решить уравнение
по вариантам:

1 в.

$$x - 4,3 = 5,8$$

$$3,5 + x = 4,1$$

$$y + 2,54 = 7,2$$

$$4,1 - a = 1,367$$

$$12,8 + (x - 3,7) = 13,7$$

2 в.

$$x - 5,2 = 4,9$$

$$2,9 + x = 3,5$$

$$y + 3,54 = 8,2$$

$$7,3 - a = 4,568$$

$$12,1 - (x + 5,8) = 1,7$$





Русская народная сказка ГУСИ-ЛЕБЕДИ





РЕБЯТА,
СПАСИБО ВАМ ЗА ВНИМАНИЕ!

