



**Чемпионат начальной школы  
«Вундеркинд»**



Конкурсное задание состоит из **30 вопросов**. Количество верных ответов может быть больше одного. Верные ответы нужно занести в Бланк ответов.

На выполнение заданий – **45 минут**.

Правильные ответы будут опубликованы на сайте конкурса *снейл.рф* в мае 2013 года и разосланы с итогами конкурса-игры по электронным адресам координаторов. **Желаем удачи!** **3 класс**

**Задания, оцениваемые в 3 балла**

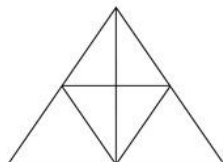
**1. Какое слово лишнее?**

- 1) ворона      2) альбатрос      3) буревестник      4) чайка

**2. Это млекопитающее, откладывает яйца, как птица. Тело его покрыто коротким коричневым мехом. Походка, как у крокодила. На лапах – перепонки. Хвост, как у бобра. Вместо носа – клюв. Это животное называют «шуткой Бога», «водяным кротом». Кто это?**

- 1) ехидна      2) утконос      3) страус      4) пингвин

**3. Сколько четырёхугольников на чертеже?**



- 1) 5      2) 6      3) 7      4) 8

**4. Из какого произведения эти строчки:**

«В темнице там царевна тужит, а бурый волк ей верно служит?»

- 1) «Иван-царевич и серый волк»      2) «Царевна-лягушка»  
3) «Руслан и Людмила»      4) «Спящая красавица»


**5. Какое животное называют «таёжным барометром»?**

- 1) бурундук      2) белка      3) куница      4) медведь

**6. Что объединяет слова – абаза, баргузин, бриз, буря, муссон, пассаты?**

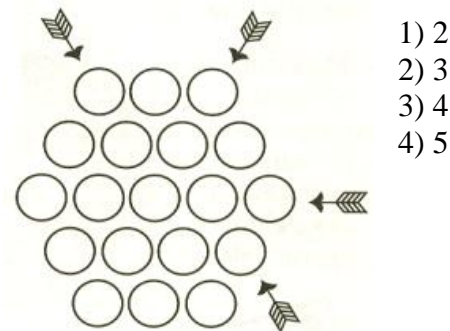
- 1) это названия диких животных;  
2) это названия ветров;  
3) это названия ягод;  
4) это названия представителей азиатского народа.

**7. Какой из узоров отличается от остальных?**



- 1) А      2) Б      3) В      4) Г

**8. Меткий стрелок стреляет из лука по мишени. Стрелки на рисунке показывают, куда полетит стрела. Сколько шаров стрелку сбить не удалось?**



- 1) 2  
2) 3  
3) 4  
4) 5

**9. Иванов, Петров, Сидоров и Николаев за контрольную работу по математике получили оценки: «2», «3», «4», «5». Известно, что Петров списал у Сидорова, но сделал это невнимательно. Иванов не справился ни с одним из заданий. Лучше всех решил Николаев. Кто получил «3»?**

- 1) Иванов      2) Петров      3) Сидоров      4) Николаев

**Задания, оцениваемые в 4 балла**

**10.** Какая страна стала родиной Пеппи-Длинный-чулок?

- 1) Норвегия      2) Швеция      3) Финляндия      4) Швейцария

**11.** Сколько букв останется в слове **ВУНДЕРКИНД**, если вычесть все симметричные буквы?

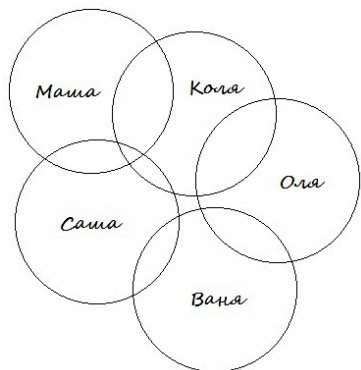
- 1) 3                      2) 4                      3) 5                      4) 6

**12.** По каким признакам слова разделили на 2 группы?

сирень, ёлка, книга, полка	ёрш, торт, парк, дождь
----------------------------	------------------------

- 1) по родам и по количеству букв;  
 2) по родам и по количеству слогов;  
 3) по количеству звуков и букв;  
 4) по количеству звуков и по количеству слогов.

**13.** Определи по рисунку у кого три друга?



- 1) у Коли и Маши;  
 2) у Маши;  
 3) у Коли и Саши  
 4) ни у кого

**14.** Сколько звуков [й'] в стихотворении Л. Мартынова?

И вскользь мне бросила змея:  
 «У каждого судьба своя!»  
 Но я-то знал, что так нельзя –  
 Жить, извиваясь и скользя.

- 1) 0 звуков      2) 4 звука      3) 5 звуков      4) 6 звуков

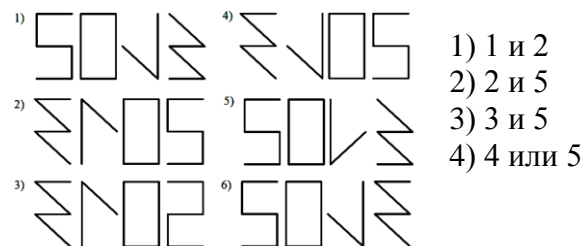
**15.** Какие события произошли в XX веке?

- 1) полёт на Луну                      2) полёт на Марс  
 3) полёт вокруг Земли              4) полёт на Венеру

**16.** Что такое боа?

- 1) крупная южноамериканская змея;  
 2) женский наплечный шарф из перьев;  
 3) однолетнее травянистое растение;  
 4) тяжёлая плотная ткань.

**17.** Записано число 2013. Какой из рисунков можно увидеть, если бумага, на которой записано это число очень тоненькая?



- 1) 1 и 2  
 2) 2 и 5  
 3) 3 и 5  
 4) 4 или 5

**18.** Найди слова, которые обозначают млекопитающих, обитающих в воде.

- 1) рдлккоио      2) фнлдиье      3) штклаао      4) клуаа

**19.** К какой природной зоне относится это описание?

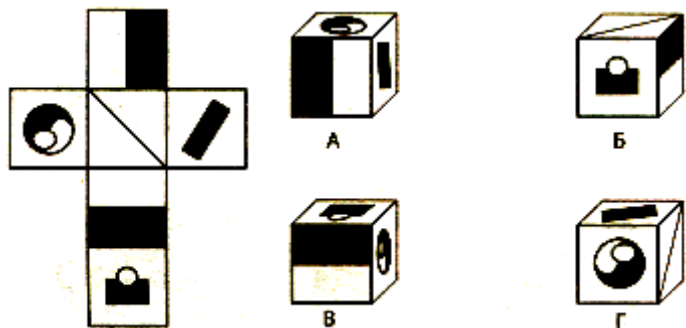
«Необозримое пространство, покрытое ковром цветущих трав синего, желтого, красного, белого оттенков. Но с приближением лета становится все жарче. И нет уже ярких цветущих растений, нет зеленой травы: пожелтела, выгорела, будто огонь спалил ее. Остались только травы с узкими листьями...»

- 1) леса                      2) степь                      3) тундра                      4) пустыня

**20.** Какую букву ввел в русский алфавит писатель и историк Николай Михайлович Карамзин?

- 1) «Ё»                      2) «Ы»                      3) «Ъ»                      4) «Й»

21. Какой из кубиков получится из нарисованной развертки?



- 1) А                      2) Б                      3) В                      4) Г

22. Две гусеницы делили между собой один листок площадью  $50 \text{ см}^2$ . Одна обозначила для себя территорию в  $35 \text{ см}^2$  и другая хотела захватить участок такой же площади. В результате дележа образовалась спорная территория. Чему равна ее площадь?

- 1) 10                      2) 15                      3) 20                      4) 35

23. На вокзале Сергей встретил мать сестру брата своего товарища. Сколько человек встретил Сергей?

- 1) 1 человека          2) 2 человека          3) 3 человека          4) 4 человека

**Задания, оцениваемые в 5 балла**

24. Выбери слова, состоящие из 3 слогов, обозначающие и город, и реку.

- 1) Кострома          2) Печора                  3) Самара                  4) Москва


25. Нина занимает 50-е место среди самых быстрых и 50-е – среди самых медленных бегунов в своей школе. Сколько бегунов в школе, где учится Нина, при условии, что все они бегают с разной скоростью?

- 1) 50                      2) 51                      3) 99                      4) 100

26. Известно, что  $T = 0 : 40$ ;  $K = A \times 3$ ;  $O = K + A$ ;  $A = 280 : 7$ . А также,  $T + O + Ч + K + A = 350$ . Какие буквы будут являться двузначными числами?


- 1) О                      2) Ч                      3) К                      4) А

27. Сколько кубиков не хватает на рисунке, чтобы размеры полной схемы куба были  $4 \times 4 \times 4$ ?



- 1) 25  
2) 35  
3) 36  
4) 37

28. Маша не любит гладить белье, но это занятие почти перестает утомлять ее, если десять минут гладит, потом делать пятиминутный перерыв, десять минут гладить, затем пять минут отдыхать. Вчера она гладила на протяжении двух часов (общее время перерывов не включено). Начала в 11:15, и когда же закончила?



- 1) 13:15  
2) 13:55  
3) 14:10  
4) 14:15

29. Прочитай текст. Обведи номера верных утверждений.

Бухгольц, Бухольц Иван Дмитриевич (1671 или 1672–1741), путешественник, генерал-майор. Указом Петра I в 1715 году был отправлен в район города Еркет для строительства крепостей по Иртышу и его притокам. Участники экспедиции на 60 дощаниках пошли вверх по Иртышу, достигли Ямышева озера, где отряд подвергся нападению калмыков.

- 1) Правильное написание фамилии Бухгольца неизвестно.  
2) Дощаник – это речное судно.  
3) В тексте нет информации о том, когда Бухгольц отправился в поход.  
4) Есть разные мнения по поводу года рождения Бухгольца

30. Бусины нанизываются на нитку в следующем порядке: красная, коричневая, белая. Из какого количества бусин может быть составлен узор, начинающийся с красной бусины и заканчивающийся коричневой?

- А: 17                      Б: 29                      В: 35**

- 1) А                      2) В                      3) Б и В                      4) А, Б и В